



GARI




Município de Palmitinho/RS
Processo Seletivo Simplificado 01/2026


PROVA TEÓRICO-OBJETIVA

 3 horas

 20 questões

 4 alternativas

 Saída permitida somente após 1 hora de prova

 O candidato só poderá levar este Caderno após 2 horas de prova

INSTRUÇÕES



Confira se esse Caderno de Prova contém a quantidade de questões indicadas. A substituição deste Caderno de Prova ocorre apenas antes de iniciar a prova.

- ▣ O tempo de prova inclui o preenchimento do Cartão-Resposta.
- ▣ Nenhuma informação acerca do conteúdo das questões será fornecida pelo Fiscal de Sala, pois é parte integrante da prova.
- ▣ Antes de sair da Sala de Prova, entregue o Cartão-Resposta ao Fiscal de Sala, **devidamente assinado**, e, após, se desloque imediatamente para a saída do local de prova.
- ▣ Ao final da prova, os 03 (três) últimos candidatos deverão permanecer na Sala de Prova até que o último termine a sua prova, devendo ambos testemunhar a devolução e o lacre dos documentos.
- ▣ A divulgação do gabarito preliminar se dará conforme Cronograma de Execução do certame.

TODOS OS DIREITOS RESERVADOS AO INSTITUTO LEGALLE. PROIBIDO REPRODUÇÃO.

RASCUNHO PARA GABARITO

01		06		11		16	
02		07		12		17	
03		08		13		18	
04		09		14		19	
05		10		15		20	

LÍNGUA PORTUGUESA

Para responder às questões 01 a 03, leia a charge abaixo.

INTELIGÊNCIA ARTIFICIAL AUMENTA O PERIGO DE POSTAR FOTOS DE FILHOS NAS REDES...



Autor: Cazo

Questão 01. No balão de fala do menino, ele se recusa a sorrir e afirma com expressão de pânico: **NÃO CONSIGO ESCONDER A MINHA PREOCUPAÇÃO**. Levando em consideração o sentimento expresso pelo personagem e o perigo apontado pelo título da charge, assinale a alternativa que apresenta um sinônimo que poderia substituir a palavra **PREOCUPAÇÃO** na charge.

- (A) Tranquilidade.
- (B) Aflição.
- (C) Coragem.
- (D) Alegria.

Questão 02. Com base nas palavras **FILHOS**, **EXPLORADA** e **INTELIGÊNCIA**, presentes na charge, analise as assertivas abaixo e julgue-as em Verdadeiras (V) ou Falsas (F):

- () Na palavra **FILHOS**, a união das consoantes **L** e **H** forma um dígrafo, pois essas duas letras juntas representam obrigatoriamente um único e inseparável som na fala.
- () A correta separação em sílabas da palavra **EXPLORADA** divide-a normativamente em EX - PLO - RA - DA, sendo ela classificada na Língua Portuguesa como uma palavra polissílaba.
- () O vocábulo **INTELIGÊNCIA** recebe o seu acento gráfico de forma obrigatória porque a sílaba tônica recai na última sílaba, sendo classificada pelas regras gramaticais como uma palavra oxítona.

Qual alternativa preenche, CORRETAMENTE, de cima para baixo, os parênteses acima?

- (A) V - V - F.
- (B) F - V - V.
- (C) V - F - V.
- (D) F - F - V.

Questão 03. Analise as partes que seguem: A intenção comunicativa central da obra é alertar a sociedade sobre os perigos reais de expor excessivamente a imagem de crianças na internet, especialmente com os recentes avanços da inteligência artificial (**1ª parte**). A charge demonstra visual e verbalmente que a mãe está perfeitamente consciente de todos os graves riscos tecnológicos, mas obriga o garoto a participar da fotografia apenas para agradar o cachorro de estimação (**2ª parte**).

Acerca disso, pode-se afirmar que:

- (A) Apenas a 1ª parte está correta.
- (B) Ambas as partes estão incorretas.
- (C) Ambas as partes estão corretas.
- (D) Apenas a 2ª parte está correta.

MATEMÁTICA

Questão 04. Um servidor monitora o tempo de operação de uma máquina de digitalização. Ela funciona continuamente por 2 horas, 45 minutos e 30 segundos, e depois precisa de uma pausa de 15 minutos e 45 segundos para resfriamento antes de iniciar um novo ciclo. Se a máquina iniciou seu primeiro ciclo de trabalho exatamente às 13h15min00s, a que horas exatamente terminará o seu primeiro período de pausa obrigatória, estando pronta para o segundo ciclo?

- (A) 16h16min15s.
- (B) 15h45min15s.
- (C) 16h15min45s.
- (D) 16h00min30s.

Questão 05. Um servidor está conferindo a numeração de pastas em um arquivo. Ele observa que as pastas seguem uma lógica de múltiplos: a primeira prateleira tem pastas numeradas com múltiplos de 15, e a segunda com múltiplos de 18. Ele precisa encontrar a primeira pasta que possui um número comum às duas prateleiras, sabendo que a numeração começa a partir do número 1 em ambos os casos. Assim, qual é o número gravado na primeira pasta que apareceria simultaneamente nas duas sequências lógicas?

- (A) 180.
- (B) 60.
- (C) 90.
- (D) 30.

Questão 06. Um servidor faz o controle de estoque de combustível. No início do mês, havia 1,2 quilolitros de diesel. Durante a primeira quinzena, foram consumidos 450 litros e, na segunda quinzena, houve um consumo adicional de 38.000 centilitros. Para o relatório final, o servidor deve informar o saldo restante no tanque em litros. Com isso, qual é o valor exato que deve constar no relatório como combustível remanescente para o próximo mês de trabalho da frota?

- (A) 420 litros.
- (B) 750 litros.
- (C) 330 litros.
- (D) 370 litros.

UTILIZE ESTE ESPAÇO PARA CÁLCULOS

ATUALIDADES

Questão 07. Segundo os relatos históricos do município, a origem da nomenclatura da cidade de Palmitinho está diretamente atrelada a qual acontecimento marcante?

- (A) À grande exportação de palmito em conserva para a capital do estado.
- (B) Ao plantio de seis pequenas palmeiras em frente ao primeiro oratório da sede do município.
- (C) À presença de uma tribo indígena milenar conhecida como Palmitos.
- (D) Ao nome de um dos primeiros tropeiros portugueses que desbravou o território local.

Questão 08. O IBGE é o instituto oficial que consolida os indicadores e características da população do país, como o gentílico. Desse modo, como é chamada oficialmente a pessoa que nasce no município de Palmitinho?

- (A) Palmitense.
- (B) Palmitinhense.
- (C) Palmitino.
- (D) Palmitense-do-sul.

Questão 09. A geografia local e os recursos naturais são partes fundamentais do desenvolvimento de qualquer comunidade. De acordo com as informações territoriais da cidade, qual é o principal rio que banha o município de Palmitinho?

- (A) Rio Uruguai.
- (B) Rio Jacuí.
- (C) Rio Guarita.
- (D) Rio Guaíba.

Questão 10. Considerando que conhecer as lideranças políticas locais é importante para o entendimento da organização administrativa de um município, quem é o prefeito responsável pelo Poder Executivo de Palmitinho?

- (A) Eurico Piaia.
- (B) Oterno Sommer.
- (C) João Isidoro Balestrin.
- (D) Benhur Dailor Barth.

Questão 11. As festividades comunitárias representam a essência da cultura e economia locais. Em Palmitinho, qual é o grande evento gastronômico do município que simboliza diretamente a força do seu setor primário e da cultura rural?

- (A) Festa Regional do Leitão.
- (B) Festival do Queijo Colonial.
- (C) Feira Nacional da Erva-Mate.
- (D) Festa da Cuca e do Vinho Doce.

LEGISLAÇÃO

Questão 12. Sabe-se que estabelecer cultos religiosos ou igrejas, subvencioná-los, impedir-lhes o funcionamento ou manter com eles relações de dependência ou aliança, ressalvada, na forma da lei, a colaboração de interesse público é uma vedação ao Município, assim como:

- I. Criar distinções entre brasileiros ou preferência entre si.
- II. Recusar fé aos documentos públicos.

Acerca das assertivas, pode-se afirmar que, conforme Lei Orgânica:

- (A) Apenas I está correta.
- (B) I e II estão corretas.
- (C) Apenas I está incorreta.
- (D) I e II estão incorretas.

Questão 13. A Lei Orgânica traz que todos os bens municipais deverão ser cadastrados, com a identificação respectiva, numerando-se os móveis segundo o que for estabelecido em regulamento, os quais ficarão sob a responsabilidade do chefe da secretaria, a quem forem atribuídos. Ainda sobre os bens municipais, analise as alternativas que seguem e assinale a que apresenta informação INCORRETA.

- (A) É vedada a doação, venda ou concessão de uso de qualquer fração dos parques, praças, jardins e largos públicos.
- (B) A administração dos bens municipais é de competência do Prefeito, exceto os que são utilizados nos serviços da Câmara Municipal.
- (C) O Município terá direito à participação no resultado da exploração do petróleo ou gás natural, de recursos hídricos para fins de geração de energia elétrica e de outros recursos minerais de seu território.
- (D) A aquisição de bens móveis, apenas se for por permuta, dependerá da prévia autorização da Câmara Municipal.

Questão 14. Analise o texto a seguir, de acordo com a Lei Orgânica:

As funções de confiança, exercidas exclusivamente por servidores ocupantes de cargo efetivo, e os cargos em comissão, a serem preenchidos por servidores de carreira nos casos, condições e percentuais mínimos previstos em lei, destinam-se apenas às atribuições de direção.

Acerca do texto, pode-se afirmar que ele está:

- (A) Plenamente adequado, visto que observa a legislação municipal vigente.
- (B) Parcialmente adequado, visto que as funções de confiança e os cargos em comissão também se destinam às atribuições de chefia e assessoramento.
- (C) Parcialmente adequado, visto que funções de confiança não podem ser atreladas a atribuições de direção.
- (D) Plenamente inadequado, visto que em nada observa a legislação municipal vigente.

CONHECIMENTOS ESPECÍFICOS

Questão 15. Em relação à compostagem, analise as partes que seguem:

A compostagem é um processo biológico no qual a matéria orgânica presente nos resíduos é convertida em composto orgânico (1ª parte). Para que esse procedimento ocorra adequadamente, a umidade deve ser mantida muito alta para acelerar a ação das bactérias, sendo recomendável encharcar a mistura de lixo orgânico (2ª parte).

Pode-se afirmar que:

- (A) Apenas a 1ª parte está correta.
- (B) Ambas as partes estão incorretas.
- (C) Ambas as partes estão corretas.
- (D) Apenas a 2ª parte está correta.

Questão 16. Na separação correta dos resíduos durante a limpeza, o Gari deve seguir o código de cores. O recipiente de cor ____ é destinado para o descarte de plásticos. Já os resíduos orgânicos, como restos de alimentos, devem ser acondicionados na lixeira de cor ____.

Preenche, CORRETA e respectivamente, as lacunas:

- (A) amarela - preta.
- (B) azul - cinza.
- (C) verde - branca.
- (D) vermelha - marrom.

Questão 17. Sobre a limpeza de vias públicas e os equipamentos utilizados pelo Gari, analise as afirmações abaixo:

- I. A varrição é a principal atividade de limpeza de ruas, praças e calçadas.
- II. O carrinho do tipo lutocar é amplamente utilizado para coletar e transportar os resíduos de varrição de forma imediata.
- III. O uso de Equipamentos de Proteção Individual (EPI), como luvas e botas, é dispensável na varredura de calçadas secas.

Está CORRETO o que se afirma em:

- (A) Apenas I.
- (B) Apenas I e II.
- (C) Apenas II e III.
- (D) I, II e III.

Questão 18. A destinação final e a triagem dos resíduos sólidos exigem procedimentos adequados e seguros por parte da equipe. Considerando isso, analise as assertivas abaixo e julgue-as em Verdadeiras (V) ou Falsas (F):

- () O aterro sanitário utiliza princípios de engenharia para confinar os resíduos sólidos, cobrindo-os com uma camada de terra ao final da jornada.
- () Na triagem em usinas, os trabalhadores separam manualmente os materiais recicláveis dos não recicláveis nas esteiras.
- () É recomendado deixar o lixo espalhado a céu aberto por vários dias no aterro para facilitar a decomposição, antes de cobri-lo.

Qual alternativa preenche, CORRETAMENTE, de cima para baixo, os parênteses acima?

- (A) V - V - V.
- (B) V - V - F.
- (C) F - V - F.
- (D) F - F - V.

Questão 19. A higienização das mãos é a medida mais importante para prevenir doenças e garantir a segurança do Gari, que entra em contato diário com sujidades. Acerca disso, assinale a alternativa CORRETA.

- (A) O uso de luvas de borracha durante a coleta elimina totalmente a necessidade de lavar as mãos no fim do turno.
- (B) Recomenda-se lavar as mãos apenas uma vez ao dia, preferencialmente antes de iniciar a jornada de trabalho na rua.
- (C) A lavagem das mãos deve ser realizada com água e sabão frequentemente, além de exigir a retirada de anéis e relógios.
- (D) O álcool em gel deve ser utilizado exclusivamente para limpar os cabos das vassouras, e nunca aplicado diretamente na pele do trabalhador.

Questão 20. O Gari atua diretamente na limpeza urbana e deve saber identificar os diferentes tipos de materiais para orientar a destinação adequada ou realizar a coleta eficiente. Em relação à classificação entre resíduos secos e orgânicos, assinale a alternativa CORRETA.

- (A) O lixo orgânico engloba materiais recicláveis que foram previamente lavados, como garrafas de vidro e latas de alumínio.
- (B) Papelões, plásticos e metais ferrosos são exemplos clássicos de lixo orgânico, sendo ideais para a compostagem.
- (C) A separação correta exige que restos de comida sejam misturados aos papéis recicláveis no mesmo saco para facilitar a triagem nas esteiras.
- (D) Restos de alimentos, cascas de frutas e sobras de verduras são considerados resíduos orgânicos.