


TÉCNICO DE ENFERMAGEM




Município de Palmitinho/RS


Processo Seletivo Simplificado 01/2026


PROVA TEÓRICO-OBJETIVA

 3 horas

 20 questões

 4 alternativas

 Saída permitida somente após 1 hora de prova

 O candidato só poderá levar este Caderno após 2 horas de prova

INSTRUÇÕES



Confira se esse Caderno de Prova contém a quantidade de questões indicadas. A substituição deste Caderno de Prova ocorre apenas antes de iniciar a prova.

- ▣ O tempo de prova inclui o preenchimento do Cartão-Resposta.
- ▣ Nenhuma informação acerca do conteúdo das questões será fornecida pelo Fiscal de Sala, pois é parte integrante da prova.
- ▣ Antes de sair da Sala de Prova, entregue o Cartão-Resposta ao Fiscal de Sala, **devidamente assinado**, e, após, se desloque imediatamente para a saída do local de prova.
- ▣ Ao final da prova, os 03 (três) últimos candidatos deverão permanecer na Sala de Prova até que o último termine a sua prova, devendo ambos testemunhar a devolução e o lacre dos documentos.
- ▣ A divulgação do gabarito preliminar se dará conforme Cronograma de Execução do certame.

TODOS OS DIREITOS RESERVADOS AO INSTITUTO LEGALLE. PROIBIDO REPRODUÇÃO.

RASCUNHO PARA GABARITO

01		06		11		16	
02		07		12		17	
03		08		13		18	
04		09		14		19	
05		10		15		20	

LÍNGUA PORTUGUESA

Para responder às questões 01 a 03, leia a charge abaixo.



Autor: Cazo

Questão 01. Analise as partes que seguem: Na charge em análise, os alienígenas observam o nosso globo de longe e sentem um forte cheiro de churrasco, associando esse odor diretamente ao drástico aumento da temperatura na Terra (**1ª parte**). O efeito de sentido provocado por essa inusitada situação constrói uma pesada ironia, deixando perfeitamente subentendido que a humanidade, devido à sua inércia diante das mudanças climáticas, está literalmente assando e destruindo a si mesma (**2ª parte**).

Acerca das partes, pode-se afirmar que:

- (A) Apenas a 1ª parte está correta.
- (B) Ambas as partes estão incorretas.
- (C) Ambas as partes estão corretas.
- (D) Apenas a 2ª parte está correta.

Questão 02. O estudo das relações morfossintáticas e da concordância garante a correta estruturação e a exata compreensão dos enunciados na norma-padrão. Diante disso, observe a frase **PLANETA DEVE AQUECER ATÉ 2,6°C**, presente na parte superior da charge, e analise a sua estrutura gramatical com base na Língua Portuguesa. Acerca disso, assinale a alternativa CORRETA.

- (A) A locução verbal **DEVE AQUECER** encontra-se na voz passiva analítica, indicando que o planeta sofre a ação do aquecimento de forma totalmente involuntária.
- (B) A palavra **PLANETA** atua morfologicamente como um pronome relativo, exercendo a função de sujeito paciente da oração principal.
- (C) A locução verbal **DEVE AQUECER** possui como núcleo o verbo principal aquecer e concorda normativamente em terceira pessoa do singular com o seu sujeito **PLANETA**.
- (D) O verbo auxiliar **DEVE** indica no contexto uma forte obrigação moral que foi imposta de forma inevitável aos seres humanos pela natureza.

Questão 03. Com base nos vocábulos **AQUECER**, **ASSANDO** e **PLANETA**, extraídos da charge, analise as assertivas abaixo e julgue-as em Verdadeiras (V) ou Falsas (F):

- () O termo **AQUECER** compartilha o mesmo radical e pertence, portanto, à mesma família de palavras do substantivo aquecimento e do adjetivo aquecido.
- () A forma verbal **ASSANDO** encontra-se flexionada no gerúndio, expressando no contexto da fala do alienígena a nítida ideia de uma ação contínua e em pleno desenvolvimento temporal.
- () A palavra **PLANETA** é classificada morfológica e semanticamente como um substantivo abstrato, visto que depende exclusivamente da imaginação dos alienígenas para existir no universo.

Qual alternativa preenche, CORRETAMENTE, de cima para baixo, os parênteses acima?

- (A) V - V - V.
- (B) F - V - F.
- (C) V - V - F.
- (D) F - F - V.

MATEMÁTICA

Questão 04. Uma progressão geométrica é usada para prever o aumento de atendimentos digitais em um portal. No primeiro mês, foram 200 acessos, e no segundo, 600 acessos. Mantendo-se essa mesma razão de crescimento constante nos meses seguintes, qual será o número total de acessos previstos exclusivamente para o quarto mês de operação desse serviço, auxiliando o colaborador a planejar a capacidade dos servidores de internet?

- (A) 2.400.
- (B) 4.800.
- (C) 5.400.
- (D) 16.200.

Questão 05. Um servidor precisa comprar materiais com desconto para o setor. Um fornecedor oferece um lote por R\$ 800,00, mas concede um desconto de 12% se o pagamento for efetuado à vista. No entanto, o servidor observa que outra loja oferece o mesmo lote por R\$ 750,00 com um desconto de 5% para pagamento imediato.

Ao comparar as duas situações de compra à vista, qual é a diferença de valor, em reais, entre a opção MAIS BARATA e a MAIS CARA?

- (A) R\$ 8,50.
- (B) R\$ 12,50.
- (C) R\$ 16,00.
- (D) R\$ 24,00.

Questão 06. Um departamento possui 8 servidores e precisa escolher um coordenador e um subcoordenador para um novo grupo de trabalho. O regulamento impede que a mesma pessoa ocupe os dois cargos simultaneamente. Considerando que todos os servidores estão aptos e que a ordem de escolha importa (já que as funções de coordenador e subcoordenador são distintas), de quantas maneiras diferentes essa dupla de liderança pode ser formada?

- (A) 28.
- (B) 16.
- (C) 48.
- (D) 56.

UTILIZE ESTE ESPAÇO PARA CÁLCULOS

ATUALIDADES

Questão 07. O setor primário é um dos pilares que sustenta o desenvolvimento de Palmitinho, combatendo o êxodo rural. Diante disso, quais são as principais atividades produtivas que se destacam na base do município?

- (A) A fruticultura de clima frio, com cultivo exclusivo de maçã, uva e pêssego para exportação.
- (B) O cultivo intensivo de algodão atrelado à criação massiva de ovinos.
- (C) A suinocultura, avicultura, o gado de leite, além do cultivo de milho, soja e fumo.
- (D) A extração extensiva de látex florestal e o plantio em larga escala de café comercial.

Questão 08. O meio ambiente possui características próprias que definem a dinâmica natural de conservação da biodiversidade. Com base nas classificações geocientíficas do IBGE sobre os biomas brasileiros, em qual domínio natural o território do município de Palmitinho está integralmente inserido?

- (A) Pantanal.
- (B) Mata Atlântica.
- (C) Pampa.
- (D) Cerrado.

Questão 09. O movimento de emancipação de Palmitinho exigiu liderança e viagens até a capital do Estado na década de 1960. A mobilização em busca de autonomia política foi impulsionada pela chamada Comissão Emancipadora. Considerando esses fatos históricos, quais foram as duas figuras pioneiras e fundamentais na articulação dessa ideia local?

- (A) Padre Bruno Paris e o Senhor João Isidoro Balestrin.
- (B) Julio Ugarte y Ugarte e Walter Só Jobim.
- (C) Oterno Sommer e Marcos Otto Barth.
- (D) Tristão Antônio de Mattos e Henrique Zanatta.

Questão 10. Os dados de infraestrutura e serviços públicos são termômetros importantes da qualidade de vida urbana. De acordo com as informações extraídas do Censo Demográfico do IBGE de 2022 para Palmitinho, qual é o percentual aproximado de domicílios que contam com esgotamento sanitário por rede geral, rede pluvial ou fossa ligada à rede?

- (A) 51,64%.
- (B) 98,91%.
- (C) 13,66%.
- (D) 33,90%.

Questão 11. O povoamento de Palmitinho é resultado da intensa miscigenação cultural, com heranças visíveis no seu folclore e gastronomia. A imigração trouxe para a região um costume vivo no qual grupos de cantores percorrem ruas com violões no início de janeiro. A qual tradição de herança portuguesa pertence esse costume?

- (A) A Dança das Fitas.
- (B) O Café Colonial Festivo.
- (C) O Terno de Reis.
- (D) O Festival da Imigração Luso-Brasileira.

LEGISLAÇÃO

Questão 12. Considere que o Prefeito, por determinada situação envolvendo parte de sua família que reside em outro município, precisará se ausentar da cidade para a qual foi eleito como chefe do Poder Executivo. Para que o Prefeito não precise solicitar autorização prévia da Câmara Municipal, qual é o prazo máximo permitido de afastamento, sob pena de perda do cargo?

- (A) 10 dias úteis.
- (B) 15 dias consecutivos.
- (C) 30 dias consecutivos.
- (D) 5 dias úteis.

Questão 13. A Lei Orgânica traz que, ressalvados os casos especificados na legislação, as obras, os serviços, as compras e as alienações serão contratados mediante processos de _____ que assegurem igualdade de condições a todos os concorrentes, com cláusulas que estabeleçam obrigações de pagamento, mantidas as condições efetivas da proposta, nos termos da lei, exigindo-se a qualificação técnico-econômica indispensável à garantia do cumprimento das obrigações.

Preenche CORRETAMENTE a lacuna:

- (A) sorteio público.
- (B) entrevistas executivas.
- (C) decisões legislativas.
- (D) licitação pública.

Questão 14. Sabe-se que os conselhos municipais são órgãos governamentais que têm por finalidade auxiliar a Administração na orientação, planejamento, interpretação e julgamento de matéria de sua competência. Nesse sentido, a Lei Orgânica traz que os conselhos municipais são compostos por um número ímpar de membros, observando, quando for o caso, a representatividade, por exemplo, de quantos dos seguintes itens? **I.** Das entidades classistas; **II.** Da sociedade civil organizada; **III.** Da Administração.

- (A) Nenhum deles.
- (B) Apenas 1 deles.
- (C) Apenas 2 deles.
- (D) Todos os 3.

CONHECIMENTOS ESPECÍFICOS

Questão 15. O atendimento de urgência e emergência, especialmente nos casos de parada cardiorrespiratória (PCR), exige conhecimento técnico apurado do profissional de enfermagem no Suporte Básico de Vida. Considerando isso, analise as assertivas abaixo e julgue-as em Verdadeiras (V) ou Falsas (F):

- () A sequência de reanimação cardiopulmonar prioriza as compressões torácicas antes da abertura de vias aéreas, na ordem C-A-B.
- () A frequência das compressões torácicas em vítimas adultas deve ser de, no mínimo, 100 compressões por minuto.
- () A profundidade adequada das compressões torácicas no adulto é de, no máximo, 2 centímetros para evitar danos e fraturas de costelas.

Qual alternativa preenche, CORRETAMENTE, de cima para baixo, os parênteses acima?

- (A) V - F - V.
- (B) F - V - F.
- (C) V - V - F.
- (D) F - F - V.

Questão 16. A imunização é uma estratégia indispensável para a redução da morbimortalidade de doenças imunopreveníveis. O Calendário Nacional de Vacinação orienta as diretrizes operacionais para a aplicação dos imunobiológicos na Atenção Básica. Sobre o tema, analise as afirmações:

- I.** A vacina BCG deve ser administrada o mais precocemente possível, de preferência ainda na maternidade, em dose única pela via intradérmica.
- II.** A vacina contra a Hepatite B (recombinante) deve ser aplicada, preferencialmente, nas primeiras 12 horas de vida para prevenção da transmissão vertical.
- III.** A vacina oral de rotavírus humano prevê um esquema básico de três doses sequenciais, devendo ser administradas aos dois, quatro e seis meses de idade da criança.

Está CORRETO o que se afirma em:

- (A) Apenas I.
- (B) Apenas III.
- (C) Apenas I e II.
- (D) I, II e III.

Questão 17. Os materiais empregados nos cuidados em saúde exigem rigorosos processos na Central de Material e Esterilização (CME). A classificação de artigos fundamenta a escolha do processo adequado. Os artigos _____ são aqueles que entram em contato direto com a pele não intacta ou com mucosas íntegras. Tais materiais exigem, no mínimo, que sejam submetidos à _____ rigorosa para garantir a segurança no uso.

Preenche, CORRETA e respectivamente, as lacunas:

- (A) não críticos / limpeza concorrente.
- (B) críticos / desinfecção de baixo nível.
- (C) críticos / lavagem manual exclusiva.
- (D) semicríticos / desinfecção de alto nível.

Questão 18. A organização da Rede de Atenção Psicossocial exige das equipes de saúde o planejamento de estratégias para o manejo de pacientes com transtornos mentais. O Projeto Terapêutico Singular (PTS) é uma importante ferramenta nesse cenário clínico e ambulatorial. Com base nisso, assinale a alternativa CORRETA.

- (A) O PTS é um protocolo engessado focado estritamente na doença e no uso de medicamentos.
- (B) O técnico de referência é o profissional escolhido para coordenar o PTS, articulando e reavaliando as metas com o usuário.
- (C) A família do paciente deve ser excluída das etapas de construção do PTS para preservar o sigilo das informações e a autonomia.
- (D) O modelo preconiza que a internação psiquiátrica seja sempre o primeiro recurso utilizado pela equipe frente às demandas agudas.

Questão 19. A administração segura de medicamentos por via intramuscular requer conhecimento anatômico, técnica e cálculo adequados pelo profissional de enfermagem, avaliando sempre a massa muscular e o volume injetado para prevenir complicações e traumas locais. A angulação correta de inserção da agulha na via intramuscular deve ser de _____ graus. Quando o músculo escolhido for o deltoide, o volume injetado deve ser, preferencialmente, de até _____.

Preenche, CORRETA e respectivamente, as lacunas:

- (A) 45 / 5 ml.
- (B) 15 / 3 ml.
- (C) 90 / 1 ml.
- (D) 90 / 4 ml.

Questão 20. Considerando as normativas atuais do Calendário Nacional de Vacinação, analise as assertivas abaixo e julgue-as em Verdadeiras (V) ou Falsas (F):

- () O esquema básico da vacina inativada contra a poliomielite (VIP) consiste na administração de três doses, aos 2, 4 e 6 meses de idade.
- () O esquema básico da vacina contra o HPV para meninos e meninas não vacinados, na faixa etária de 9 a 14 anos, é de dose única.
- () A vacina contra o HPV é estritamente contraindicada para pessoas de 15 a 45 anos vivendo com HIV ou usuários de profilaxia pré-exposição (PrEP).

Qual alternativa preenche, CORRETAMENTE, de cima para baixo, os parênteses acima?

- (A) V - F - F.
- (B) F - V - V.
- (C) V - V - F.
- (D) F - F - V.