


MOTORISTA



Município de Palmitinho/RS


Processo Seletivo Simplificado 01/2026


PROVA TEÓRICO-OBJETIVA

 3 horas

20 questões

 4 alternativas

 Saída permitida somente após 1 hora de prova

 O candidato só poderá levar este Caderno após 2 horas de prova

INSTRUÇÕES



Confira se esse Caderno de Prova contém a quantidade de questões indicadas. A substituição deste Caderno de Prova ocorre apenas antes de iniciar a prova.

- ▣ O tempo de prova inclui o preenchimento do Cartão-Resposta.
- ▣ Nenhuma informação acerca do conteúdo das questões será fornecida pelo Fiscal de Sala, pois é parte integrante da prova.
- ▣ Antes de sair da Sala de Prova, entregue o Cartão-Resposta ao Fiscal de Sala, **devidamente assinado**, e, após, se desloque imediatamente para a saída do local de prova.
- ▣ Ao final da prova, os 03 (três) últimos candidatos deverão permanecer na Sala de Prova até que o último termine a sua prova, devendo ambos testemunhar a devolução e o lacre dos documentos.
- ▣ A divulgação do gabarito preliminar se dará conforme Cronograma de Execução do certame.

TODOS OS DIREITOS RESERVADOS AO INSTITUTO LEGALLE. PROIBIDO REPRODUÇÃO

RASCUNHO PARA GABARITO

01		06		11		16	
02		07		12		17	
03		08		13		18	
04		09		14		19	
05		10		15		20	

LÍNGUA PORTUGUESA

Para responder às questões 01 a 03, leia a charge abaixo.

INTELIGÊNCIA ARTIFICIAL AUMENTA O PERIGO DE POSTAR FOTOS DE FILHOS NAS REDES.



Autor: Cazo

Questão 01. No balão de fala do menino, ele se recusa a sorrir e afirma com expressão de pânico: **NÃO CONSIGO ESCONDER A MINHA PREOCUPAÇÃO**. Levando em consideração o sentimento expresso pelo personagem e o perigo apontado pelo título da charge, assinale a alternativa que apresenta um sinônimo que poderia substituir a palavra **PREOCUPAÇÃO** na charge.

- (A) Tranquilidade.
- (B) Aflição.
- (C) Coragem.
- (D) Alegria.

Questão 02. Com base nas palavras **FILHOS**, **EXPLORADA** e **INTELIGÊNCIA**, presentes na charge, analise as assertivas abaixo e julgue-as em Verdadeiras (V) ou Falsas (F):

- () Na palavra **FILHOS**, a união das consoantes **L** e **H** forma um dígrafo, pois essas duas letras juntas representam obrigatoriamente um único e inseparável som na fala.
- () A correta separação em sílabas da palavra **EXPLORADA** divide-a normativamente em EX - PLO - RA - DA, sendo ela classificada na Língua Portuguesa como uma palavra polissílaba.
- () O vocábulo **INTELIGÊNCIA** recebe o seu acento gráfico de forma obrigatória porque a sílaba tônica recai na última sílaba, sendo classificada pelas regras gramaticais como uma palavra oxítona.

Qual alternativa preenche, CORRETAMENTE, de cima para baixo, os parênteses acima?

- (A) V - V - F.
- (B) F - V - V.
- (C) V - F - V.
- (D) F - F - V.

Questão 03. Analise as partes que seguem: A intenção comunicativa central da obra é alertar a sociedade sobre os perigos reais de expor excessivamente a imagem de crianças na internet, especialmente com os recentes avanços da inteligência artificial (**1ª parte**). A charge demonstra visual e verbalmente que a mãe está perfeitamente consciente de todos os graves riscos tecnológicos, mas obriga o garoto a participar da fotografia apenas para agradar o cachorro de estimação (**2ª parte**).

Acerca disso, pode-se afirmar que:

- (A) Apenas a 1ª parte está correta.
- (B) Ambas as partes estão incorretas.
- (C) Ambas as partes estão corretas.
- (D) Apenas a 2ª parte está correta.

MATEMÁTICA

Questão 04. Um servidor monitora o tempo de operação de uma máquina de digitalização. Ela funciona continuamente por 2 horas, 45 minutos e 30 segundos, e depois precisa de uma pausa de 15 minutos e 45 segundos para resfriamento antes de iniciar um novo ciclo. Se a máquina iniciou seu primeiro ciclo de trabalho exatamente às 13h15min00s, a que horas exatamente terminará o seu primeiro período de pausa obrigatória, estando pronta para o segundo ciclo?

- (A) 16h16min15s.
- (B) 15h45min15s.
- (C) 16h15min45s.
- (D) 16h00min30s.

Questão 05. Um servidor está conferindo a numeração de pastas em um arquivo. Ele observa que as pastas seguem uma lógica de múltiplos: a primeira prateleira tem pastas numeradas com múltiplos de 15, e a segunda com múltiplos de 18. Ele precisa encontrar a primeira pasta que possui um número comum às duas prateleiras, sabendo que a numeração começa a partir do número 1 em ambos os casos. Assim, qual é o número gravado na primeira pasta que apareceria simultaneamente nas duas sequências lógicas?

- (A) 180.
- (B) 60.
- (C) 90.
- (D) 30.

Questão 06. Um servidor faz o controle de estoque de combustível. No início do mês, havia 1,2 quilolitros de diesel. Durante a primeira quinzena, foram consumidos 450 litros e, na segunda quinzena, houve um consumo adicional de 38.000 centilitros. Para o relatório final, o servidor deve informar o saldo restante no tanque em litros. Com isso, qual é o valor exato que deve constar no relatório como combustível remanescente para o próximo mês de trabalho da frota?

- (A) 420 litros.
- (B) 750 litros.
- (C) 330 litros.
- (D) 370 litros.

UTILIZE ESTE ESPAÇO PARA CÁLCULOS

ATUALIDADES

Questão 07. Segundo os relatos históricos do município, a origem da nomenclatura da cidade de Palmitinho está diretamente atrelada a qual acontecimento marcante?

- (A) À grande exportação de palmito em conserva para a capital do estado.
- (B) Ao plantio de seis pequenas palmeiras em frente ao primeiro oratório da sede do município.
- (C) À presença de uma tribo indígena milenar conhecida como Palmitos.
- (D) Ao nome de um dos primeiros tropeiros portugueses que desbravou o território local.

Questão 08. O IBGE é o instituto oficial que consolida os indicadores e características da população do país, como o gentílico. Desse modo, como é chamada oficialmente a pessoa que nasce no município de Palmitinho?

- (A) Palmitense.
- (B) Palmitinhense.
- (C) Palmitino.
- (D) Palmitense-do-sul.

Questão 09. A geografia local e os recursos naturais são partes fundamentais do desenvolvimento de qualquer comunidade. De acordo com as informações territoriais da cidade, qual é o principal rio que banha o município de Palmitinho?

- (A) Rio Uruguai.
- (B) Rio Jacuí.
- (C) Rio Guarita.
- (D) Rio Guaíba.

Questão 10. Considerando que conhecer as lideranças políticas locais é importante para o entendimento da organização administrativa de um município, quem é o prefeito responsável pelo Poder Executivo de Palmitinho?

- (A) Eurico Piaia.
- (B) Oterno Sommer.
- (C) João Isidoro Balestrin.
- (D) Benhur Dailor Barth.

Questão 11. As festividades comunitárias representam a essência da cultura e economia locais. Em Palmitinho, qual é o grande evento gastronômico do município que simboliza diretamente a força do seu setor primário e da cultura rural?

- (A) Festa Regional do Leitão.
- (B) Festival do Queijo Colonial.
- (C) Feira Nacional da Erva-Mate.
- (D) Festa da Cuca e do Vinho Doce.

LEGISLAÇÃO

Questão 12. Sabe-se que estabelecer cultos religiosos ou igrejas, subvencioná-los, impedir-lhes o funcionamento ou manter com eles relações de dependência ou aliança, ressalvada, na forma da lei, a colaboração de interesse público é uma vedação ao Município, assim como:

- I. Criar distinções entre brasileiros ou preferência entre si.
- II. Recusar fé aos documentos públicos.

Acerca das assertivas, pode-se afirmar que, conforme Lei Orgânica:

- (A) Apenas I está correta.
- (B) I e II estão corretas.
- (C) Apenas I está incorreta.
- (D) I e II estão incorretas.

Questão 13. A Lei Orgânica traz que todos os bens municipais deverão ser cadastrados, com a identificação respectiva, numerando-se os móveis segundo o que for estabelecido em regulamento, os quais ficarão sob a responsabilidade do chefe da secretaria, a quem forem atribuídos. Ainda sobre os bens municipais, analise as alternativas que seguem e assinale a que apresenta informação INCORRETA.

- (A) É vedada a doação, venda ou concessão de uso de qualquer fração dos parques, praças, jardins e largos públicos.
- (B) A administração dos bens municipais é de competência do Prefeito, exceto os que são utilizados nos serviços da Câmara Municipal.
- (C) O Município terá direito à participação no resultado da exploração do petróleo ou gás natural, de recursos hídricos para fins de geração de energia elétrica e de outros recursos minerais de seu território.
- (D) A aquisição de bens móveis, apenas se for por permuta, dependerá da prévia autorização da Câmara Municipal.

Questão 14. Analise o texto a seguir, de acordo com a Lei Orgânica:

As funções de confiança, exercidas exclusivamente por servidores ocupantes de cargo efetivo, e os cargos em comissão, a serem preenchidos por servidores de carreira nos casos, condições e percentuais mínimos previstos em lei, destinam-se apenas às atribuições de direção.

Acerca do texto, pode-se afirmar que ele está:

- (A) Plenamente adequado, visto que observa a legislação municipal vigente.
- (B) Parcialmente adequado, visto que as funções de confiança e os cargos em comissão também se destinam às atribuições de chefia e assessoramento.
- (C) Parcialmente adequado, visto que funções de confiança não podem ser atreladas a atribuições de direção.
- (D) Plenamente inadequado, visto que em nada observa a legislação municipal vigente.

CONHECIMENTOS ESPECÍFICOS

Questão 15. O Código de Trânsito Brasileiro estabelece normas gerais de circulação e conduta que devem ser estritamente seguidas por todos os condutores. Com base nessas regras, assinale a alternativa CORRETA.

- (A) A circulação de veículos far-se-á pelo lado esquerdo da via, independentemente de sinalização.
- (B) A ultrapassagem de outro veículo em movimento deverá ser feita pela direita, como regra geral.
- (C) Os veículos destinados a socorro de incêndio e salvamento, os de polícia e as ambulâncias gozam de livre circulação quando em serviço de urgência e devidamente identificados.
- (D) O trânsito de veículos sobre calçadas e passeios é permitido livremente para encurtar caminhos no trânsito urbano.

Questão 16. A sinalização horizontal viária utiliza padrões de cores específicos para organizar o trânsito. A cor _____ é utilizada para separar movimentos veiculares de fluxos opostos, enquanto a cor _____ é empregada para separar movimentos veiculares de mesmo sentido e regulamentar faixas de travessias de pedestres.

Preenche, CORRETA e respectivamente, as lacunas:

- (A) amarela - vermelha.
- (B) branca - amarela.
- (C) amarela - branca.
- (D) azul - branca.

Questão 17. Os dispositivos delimitadores são utilizados para orientar o condutor quanto aos limites da pista. Sobre esse tema, analise as afirmações abaixo:

- I. O balizador com elemento retrorrefletivo de cor branca é utilizado para fluxos de sentido único.
- II. A tacha e o tachão são aplicados diretamente no pavimento para melhorar a percepção do condutor e auxiliar o posicionamento do veículo.
- III. O cilindro delimitador, em situações de uso temporário (como em obras), deve ter seu corpo sempre na cor laranja.

Está CORRETO o que se afirma em:

- (A) Apenas I.
- (B) Apenas I e II.
- (C) Apenas II e III.
- (D) I, II e III.

Questão 18. A sinalização semafórica de regulamentação controla o direito de passagem em interseções. Considerando as cores e os sinais luminosos, analise as assertivas abaixo e julgue-as em Verdadeiras (V) ou Falsas (F):

- () A luz verde indica a permissão do direito de passagem, permitindo ao condutor prosseguir em marcha.
- () A luz amarela intermitente adverte sobre a existência de situação perigosa ou obstáculo na via.
- () A luz vermelha indica que o condutor deve apenas reduzir a velocidade, mas não é obrigado a parar.

Qual alternativa preenche, CORRETAMENTE, de cima para baixo, os parênteses acima?

- (A) F - V - F.
- (B) V - F - V.
- (C) V - V - F.
- (D) F - F - V.

Questão 19. Na sinalização vertical temporária, empregada em áreas de obras ou serviços, as placas de advertência e as placas de orientação de destino adquirem características visuais próprias. Nesses casos, adotam-se, predominantemente, o fundo na cor _____ e os símbolos/legendas na cor _____.

Preenche, CORRETA e respectivamente, as lacunas:

- (A) laranja - preta.
- (B) branca - preta.
- (C) amarela - preta.
- (D) vermelha - branca.

Questão 20. Os sinais verticais de indicação têm como objetivo principal orientar, identificar e educar os condutores e pedestres ao longo das vias. Acerca das placas de indicação, assinale a alternativa CORRETA.

- (A) As placas indicativas de atrativos turísticos apresentam, obrigatoriamente, o fundo e a orla na cor amarela.
- (B) As placas educativas devem ter o fundo na cor vermelha para alertar os condutores sobre as regras de trânsito.
- (C) Os pictogramas de serviços auxiliares sempre utilizam formas circulares e cores fluorescentes.
- (D) As placas de identificação de rodovias e estradas indicam ao condutor a rodovia ou estrada pan-americana, federal ou estadual em que está transitando.