


## SECRETÁRIO DE ESCOLA




**Município de Palmitinho/RS**

Processo Seletivo Simplificado 01/2026


### PROVA TEÓRICO-OBJETIVA

 3 horas

 20 questões

 4 alternativas

 Saída permitida somente após 1 hora de prova

 O candidato só poderá levar este Caderno após 2 horas de prova

### INSTRUÇÕES



Confira se esse Caderno de Prova contém a quantidade de questões indicadas. A substituição deste Caderno de Prova ocorre apenas antes de iniciar a prova.

- ▣ O tempo de prova inclui o preenchimento do Cartão-Resposta.
- ▣ Nenhuma informação acerca do conteúdo das questões será fornecida pelo Fiscal de Sala, pois é parte integrante da prova.
- ▣ Antes de sair da Sala de Prova, entregue o Cartão-Resposta ao Fiscal de Sala, **devidamente assinado**, e, após, se desloque imediatamente para a saída do local de prova.
- ▣ Ao final da prova, os 03 (três) últimos candidatos deverão permanecer na Sala de Prova até que o último termine a sua prova, devendo ambos testemunhar a devolução e o lacre dos documentos.
- ▣ A divulgação do gabarito preliminar se dará conforme Cronograma de Execução do certame.

TODOS OS DIREITOS RESERVADOS AO INSTITUTO LEGALLE. PROIBIDO REPRODUÇÃO.

### RASCUNHO PARA GABARITO

01		06		11		16	
02		07		12		17	
03		08		13		18	
04		09		14		19	
05		10		15		20	

## LÍNGUA PORTUGUESA

Para responder às questões 01 a 03, leia a charge abaixo.



Autor: Cazo

**Questão 01.** Analise as partes que seguem: Na charge em análise, os alienígenas observam o nosso globo de longe e sentem um forte cheiro de churrasco, associando esse odor diretamente ao drástico aumento da temperatura na Terra (**1ª parte**). O efeito de sentido provocado por essa inusitada situação constrói uma pesada ironia, deixando perfeitamente subentendido que a humanidade, devido à sua inércia diante das mudanças climáticas, está literalmente assando e destruindo a si mesma (**2ª parte**).

Acerca das partes, pode-se afirmar que:

- (A) Apenas a 1ª parte está correta.
- (B) Ambas as partes estão incorretas.
- (C) Ambas as partes estão corretas.
- (D) Apenas a 2ª parte está correta.

**Questão 02.** O estudo das relações morfossintáticas e da concordância garante a correta estruturação e a exata compreensão dos enunciados na norma-padrão. Diante disso, observe a frase **PLANETA DEVE AQUECER ATÉ 2,6°C**, presente na parte superior da charge, e analise a sua estrutura gramatical com base na Língua Portuguesa. Acerca disso, assinale a alternativa CORRETA.

- (A) A locução verbal **DEVE AQUECER** encontra-se na voz passiva analítica, indicando que o planeta sofre a ação do aquecimento de forma totalmente involuntária.
- (B) A palavra **PLANETA** atua morfologicamente como um pronome relativo, exercendo a função de sujeito paciente da oração principal.
- (C) A locução verbal **DEVE AQUECER** possui como núcleo o verbo principal aquecer e concorda normativamente em terceira pessoa do singular com o seu sujeito **PLANETA**.
- (D) O verbo auxiliar **DEVE** indica no contexto uma forte obrigação moral que foi imposta de forma inevitável aos seres humanos pela natureza.

**Questão 03.** Com base nos vocábulos **AQUECER**, **ASSANDO** e **PLANETA**, extraídos da charge, analise as assertivas abaixo e julgue-as em Verdadeiras (V) ou Falsas (F):

- ( ) O termo **AQUECER** compartilha o mesmo radical e pertence, portanto, à mesma família de palavras do substantivo aquecimento e do adjetivo aquecido.
- ( ) A forma verbal **ASSANDO** encontra-se flexionada no gerúndio, expressando no contexto da fala do alienígena a nítida ideia de uma ação contínua e em pleno desenvolvimento temporal.
- ( ) A palavra **PLANETA** é classificada morfológica e semanticamente como um substantivo abstrato, visto que depende exclusivamente da imaginação dos alienígenas para existir no universo.

Qual alternativa preenche, CORRETAMENTE, de cima para baixo, os parênteses acima?

- (A) V - V - V.
- (B) F - V - F.
- (C) V - V - F.
- (D) F - F - V.

## MATEMÁTICA

**Questão 04.** Uma progressão geométrica é usada para prever o aumento de atendimentos digitais em um portal. No primeiro mês, foram 200 acessos, e no segundo, 600 acessos. Mantendo-se essa mesma razão de crescimento constante nos meses seguintes, qual será o número total de acessos previstos exclusivamente para o quarto mês de operação desse serviço, auxiliando o colaborador a planejar a capacidade dos servidores de internet?

- (A) 2.400.
- (B) 4.800.
- (C) 5.400.
- (D) 16.200.

**Questão 05.** Um servidor precisa comprar materiais com desconto para o setor. Um fornecedor oferece um lote por R\$ 800,00, mas concede um desconto de 12% se o pagamento for efetuado à vista. No entanto, o servidor observa que outra loja oferece o mesmo lote por R\$ 750,00 com um desconto de 5% para pagamento imediato.

Ao comparar as duas situações de compra à vista, qual é a diferença de valor, em reais, entre a opção MAIS BARATA e a MAIS CARA?

- (A) R\$ 8,50.
- (B) R\$ 12,50.
- (C) R\$ 16,00.
- (D) R\$ 24,00.

**Questão 06.** Um departamento possui 8 servidores e precisa escolher um coordenador e um subcoordenador para um novo grupo de trabalho. O regulamento impede que a mesma pessoa ocupe os dois cargos simultaneamente. Considerando que todos os servidores estão aptos e que a ordem de escolha importa (já que as funções de coordenador e subcoordenador são distintas), de quantas maneiras diferentes essa dupla de liderança pode ser formada?

- (A) 28.
- (B) 16.
- (C) 48.
- (D) 56.

#### UTILIZE ESTE ESPAÇO PARA CÁLCULOS

#### ATUALIDADES

**Questão 07.** O setor primário é um dos pilares que sustenta o desenvolvimento de Palmitinho, combatendo o êxodo rural. Diante disso, quais são as principais atividades produtivas que se destacam na base do município?

- (A) A fruticultura de clima frio, com cultivo exclusivo de maçã, uva e pêssego para exportação.
- (B) O cultivo intensivo de algodão atrelado à criação massiva de ovinos.
- (C) A suinocultura, avicultura, o gado de leite, além do cultivo de milho, soja e fumo.
- (D) A extração extensiva de látex florestal e o plantio em larga escala de café comercial.

**Questão 08.** O meio ambiente possui características próprias que definem a dinâmica natural de conservação da biodiversidade. Com base nas classificações geocientíficas do IBGE sobre os biomas brasileiros, em qual domínio natural o território do município de Palmitinho está integralmente inserido?

- (A) Pantanal.
- (B) Mata Atlântica.
- (C) Pampa.
- (D) Cerrado.

**Questão 09.** O movimento de emancipação de Palmitinho exigiu liderança e viagens até a capital do Estado na década de 1960. A mobilização em busca de autonomia política foi impulsionada pela chamada Comissão Emancipadora. Considerando esses fatos históricos, quais foram as duas figuras pioneiras e fundamentais na articulação dessa ideia local?

- (A) Padre Bruno Paris e o Senhor João Isidoro Balestrin.
- (B) Julio Ugarte y Ugarte e Walter Só Jobim.
- (C) Oterno Sommer e Marcos Otto Barth.
- (D) Tristão Antônio de Mattos e Henrique Zanatta.

**Questão 10.** Os dados de infraestrutura e serviços públicos são termômetros importantes da qualidade de vida urbana. De acordo com as informações extraídas do Censo Demográfico do IBGE de 2022 para Palmitinho, qual é o percentual aproximado de domicílios que contam com esgotamento sanitário por rede geral, rede pluvial ou fossa ligada à rede?

- (A) 51,64%.
- (B) 98,91%.
- (C) 13,66%.
- (D) 33,90%.

**Questão 11.** O povoamento de Palmitinho é resultado da intensa miscigenação cultural, com heranças visíveis no seu folclore e gastronomia. A imigração trouxe para a região um costume vivo no qual grupos de cantores percorrem ruas com violões no início de janeiro. A qual tradição de herança portuguesa pertence esse costume?

- (A) A Dança das Fitas.
- (B) O Café Colonial Festivo.
- (C) O Terno de Reis.
- (D) O Festival da Imigração Luso-Brasileira.

#### LEGISLAÇÃO

**Questão 12.** Considere que o Prefeito, por determinada situação envolvendo parte de sua família que reside em outro município, precisará se ausentar da cidade para a qual foi eleito como chefe do Poder Executivo. Para que o Prefeito não precise solicitar autorização prévia da Câmara Municipal, qual é o prazo máximo permitido de afastamento, sob pena de perda do cargo?

- (A) 10 dias úteis.
- (B) 15 dias consecutivos.
- (C) 30 dias consecutivos.
- (D) 5 dias úteis.

**Questão 13.** A Lei Orgânica traz que, ressalvados os casos especificados na legislação, as obras, os serviços, as compras e as alienações serão contratados mediante processos de \_\_\_\_\_ que assegurem igualdade de condições a todos os concorrentes, com cláusulas que estabeleçam obrigações de pagamento, mantidas as condições efetivas da proposta, nos termos da lei, exigindo-se a qualificação técnico-econômica indispensável à garantia do cumprimento das obrigações.

Preenche CORRETAMENTE a lacuna:

- (A) sorteio público.
- (B) entrevistas executivas.
- (C) decisões legislativas.
- (D) licitação pública.

**Questão 14.** Sabe-se que os conselhos municipais são órgãos governamentais que têm por finalidade auxiliar a Administração na orientação, planejamento, interpretação e julgamento de matéria de sua competência. Nesse sentido, a Lei Orgânica traz que os conselhos municipais são compostos por um número ímpar de membros, observando, quando for o caso, a representatividade, por exemplo, de quantos dos seguintes itens? **I.** Das entidades classistas; **II.** Da sociedade civil organizada; **III.** Da Administração.

- (A) Nenhum deles.
- (B) Apenas 1 deles.
- (C) Apenas 2 deles.
- (D) Todos os 3.

#### CONHECIMENTOS ESPECÍFICOS

**Questão 15.** O planejamento nacional de educação delinea diretrizes e metas norteadoras para o avanço do ensino no país ao longo de seu período de vigência. Acerca disso, analise as partes a seguir:

*O referido plano estipula, em sua Meta 1, o intuito de universalizar a educação infantil na pré-escola para as crianças de quatro a cinco anos de idade (1ª parte), com a respectiva restrição da oferta de creches de forma exclusiva para a rede privada por meio de convênios assistenciais (2ª parte).*

Pode-se afirmar que:

- (A) Apenas a 1ª parte está correta.
- (B) Ambas as partes estão incorretas.
- (C) Ambas as partes estão corretas.
- (D) Apenas a 2ª parte está correta.

**Questão 16.** O arcabouço normativo acerca das bases comuns curriculares busca estabelecer diretrizes pedagógicas unificadas, respeitando especificidades para a educação no país. Com base nessa regulamentação, analise as assertivas abaixo:

- I.** O regramento define o conjunto de aprendizagens essenciais que todos os estudantes devem desenvolver ao longo das etapas e modalidades da Educação Básica.
- II.** As aprendizagens essenciais definidas no documento são constituídas unicamente por conhecimentos teóricos fragmentados, excluindo-se o desenvolvimento de habilidades, atitudes e valores da formação básica.
- III.** O normativo curricular delineado não configura um currículo único nacional, exigindo-se explicitamente o respeito à diversidade regional, estadual e local na elaboração dos currículos.

Está(ão) CORRETA(S):

- (A) Apenas I e II.
- (B) Apenas II e III.
- (C) Apenas I e III.
- (D) I, II e III.

**Questão 17.** A ordem constitucional estabelece os princípios basilares sobre os quais o ensino no Brasil deve ser ministrado, visando garantir os direitos educacionais essenciais aos cidadãos.

Em relação a essa temática, assinale a alternativa CORRETA.

- (A) O ensino público será regido pela prevalência de instituições privadas, mediante a concessão de bolsas de gratuidade parcial aos estudantes de baixa renda.
- (B) O pluralismo de ideias e de concepções pedagógicas é vedado nas escolas públicas, objetivando assegurar a centralização e a padronização unificada do ensino nacional.
- (C) A gestão do ensino público será executada de maneira centralizada e exclusiva pela União, afastando-se determinações de gestão democrática nas escolas.
- (D) O ensino será ministrado com base na igualdade de condições para o acesso e permanência na escola, bem como na gratuidade do ensino público em estabelecimentos oficiais.

**Questão 18.** A legislação nacional consagra as idades documentais e suas destinações, determinando fluxos específicos para os arquivos públicos. Consideram-se documentos \_\_\_\_\_ aqueles que, não sendo de uso corrente nos órgãos produtores, por razões de interesse administrativo, aguardam a sua \_\_\_\_\_ ou recolhimento para guarda \_\_\_\_\_.

Preenche, CORRETA e respectivamente, as lacunas:

- (A) permanentes - eliminação - provisória.
- (B) correntes - transferência - intermediária.
- (C) especiais - catalogação - definitiva.
- (D) intermediários - eliminação - permanente.

**Questão 19.** A norma regulamentadora de ergonomia estabelece diretrizes para a adaptação das condições de trabalho às características psicofisiológicas dos trabalhadores. Sobre o mobiliário dos postos de trabalho, analise as assertivas abaixo:

- I. Sempre que o trabalho puder ser executado alternando a posição de pé com a posição sentada, o posto de trabalho deve ser planejado ou adaptado para favorecer a alternância das posições.
- II. Para adaptação do mobiliário às dimensões antropométricas do trabalhador, pode ser utilizado apoio para os pés sempre que ele não puder manter a planta dos pés completamente apoiada no piso.
- III. Para as atividades em que os trabalhos devam ser realizados em pé, é estritamente proibida a colocação de assentos com encosto para descanso, mesmo durante as pausas de trabalho.

Está(ão) CORRETA(S):

- (A) Apenas I e II.
- (B) Apenas II e III.
- (C) Apenas I e III.
- (D) I, II e III.

**Questão 20.** A legislação educacional estipula como o dever do Estado com a educação escolar pública será efetivado. Considerando isso, analise as assertivas abaixo e julgue-as em Verdadeiras (V) ou Falsas (F):

- ( ) O Estado garante a efetivação da educação escolar pública mediante a educação básica obrigatória e gratuita dos quatro aos dezessete anos de idade.
- ( ) A educação básica obrigatória e gratuita é organizada exclusivamente nas etapas de ensino fundamental e ensino médio, sendo a pré-escola considerada etapa facultativa.
- ( ) É garantido o atendimento educacional especializado gratuito aos educandos com deficiência, transtornos globais do desenvolvimento e altas habilidades, preferencialmente na rede regular de ensino.

Qual alternativa preenche, CORRETAMENTE, de cima para baixo, os parênteses acima?

- (A) F - V - V.
- (B) V - V - F.
- (C) V - F - V.
- (D) F - V - F.