

## MERENDEIRA





**Município de Arroio Grande/RS**  
Processo Seletivo Simplificado 01/2026


### PROVA TEÓRICO-OBJETIVA

 3 horas

25 questões

 5 alternativas

 Saída permitida somente após 1 hora de prova

 O candidato só poderá levar este Caderno após 2 horas de prova

### INSTRUÇÕES



Confira se esse Caderno de Prova contém a quantidade de questões indicadas. A substituição deste Caderno de Prova ocorre apenas antes de iniciar a prova.

- O tempo de prova inclui o preenchimento do Cartão-Resposta.
- Nenhuma informação acerca do conteúdo das questões será fornecida pelo Fiscal de Sala, pois é parte integrante da prova.
- Antes de sair da Sala de Prova, entregue o Cartão-Resposta ao Fiscal de Sala, **devidamente assinado**, e, após, se desloque imediatamente para a saída do local de prova.
- Ao final da prova, os 03 (três) últimos candidatos deverão permanecer na Sala de Prova até que o último termine a sua prova, devendo ambos testemunhar a devolução e o lacre dos documentos.
- A divulgação do gabarito preliminar se dará conforme Cronograma de Execução do certame.

TODOS OS DIREITOS RESERVADOS AO INSTITUTO LEGALLE. PROIBIDO REPRODUÇÃO.

### RASCUNHO PARA GABARITO

01		06		11		16		21	
02		07		12		17		22	
03		08		13		18		23	
04		09		14		19		24	
05		10		15		20		25	

## LÍNGUA PORTUGUESA

Para responder às questões 01 a 05, leia a charge abaixo.

LIVRO INFANTIL...



Fonte: Cazo

**Questão 01.** A charge apresenta um menino questionando a ausência de uma rede social no livro impresso no primeiro balão de fala. Levando em conta a interpretação e a intenção comunicativa, assinale a alternativa CORRETA.

- (A) A charge defende que os livros físicos devem ser substituídos de forma definitiva pelas redes sociais.
- (B) A intenção do cartunista é mostrar que as crianças não gostam de ler porque os livros escolares são caros e inacessíveis.
- (C) O texto critica com humor a grande dependência digital das crianças e incentiva a retomada do hábito da leitura.
- (D) A mensagem principal do texto é informar ao leitor que a menina está muito irritada com a pergunta feita pelo colega.
- (E) O objetivo central do autor é fazer uma propaganda comercial com o intuito de vender celulares para que os jovens possam acessar a internet.

**Questão 02.** Analise o trecho a seguir:

A menina afirma animada que o livro vai **turbinar o seu tico e teco**. Nesse cenário da charge, a palavra **turbinar** possui o sentido de \_\_\_\_\_, enquanto a expressão popular **tico e teco** refere-se \_\_\_\_\_.

Preenche, CORRETA e respectivamente, as lacunas:

- (A) enfraquecer - aos braços físicos.
- (B) estimular - ao cérebro humano.
- (C) paralisar - aos sentimentos tristes.
- (D) atrasar - aos olhos da criança.
- (E) prejudicar - ao coração do leitor.

**Questão 03.** A classificação da sílaba tônica e a separação silábica são fundamentais nas regras da Língua Portuguesa. Diante disso, analise as palavras retiradas da charge: **NEGÓCIO** e **NÃO**. Considerando essas regras, analise as assertivas abaixo e julgue-as em Verdadeiras (V) ou Falsas (F):

- ( ) A palavra **NEGÓCIO** possui três sílabas, sendo separadas da seguinte forma: ne-gó-cio.
- ( ) A sílaba tônica da palavra **NEGÓCIO** é a última, o que a classifica gramaticalmente como uma palavra oxitona.
- ( ) A palavra **NÃO** é formada por apenas uma sílaba, sendo classificada como uma palavra monossílaba.

Qual alternativa preenche, CORRETAMENTE, de cima para baixo, os parênteses acima?

- (A) V - V - F.
- (B) F - V - V.
- (C) V - F - V.
- (D) F - F - F.
- (E) V - V - V.

**Questão 04.** Na charge, os balões de fala dos personagens apresentam uma pontuação específica no final de cada frase. Diante disso, analise as assertivas abaixo sobre o emprego dos sinais de pontuação:

- I. O ponto de interrogação foi empregado na fala do menino para expressar uma dúvida ou um questionamento sobre o funcionamento do livro.
- II. O ponto de exclamação na fala da menina serve para dar ênfase ao seu entusiasmo e demonstrar a sua firmeza ao dar a resposta afirmativa.
- III. O ponto de exclamação é utilizado na charge com a função exclusiva de indicar que a personagem está chorando e gritando com o amigo.

Está CORRETO o que se afirma em:

- (A) Apenas I.
- (B) Apenas II.
- (C) Apenas I e II.
- (D) Apenas II e III.
- (E) I, II e III.

**Questão 05.** A relação entre as letras e os fonemas revela particularidades na escrita de diversas palavras. Considerando isso, leia o trecho inicial da fala do menino na charge: **MAS ESSE NEGÓCIO**. Considerando a grafia das palavras, é CORRETO afirmar que:

- (A) A palavra **ESSE** apresenta um encontro consonantal, pois as duas consoantes representam sons diferentes no momento da fala.
- (B) O vocábulo **NEGÓCIO** possui um dígrafo perfeito, já que as vogais juntas formam um único som nasal.
- (C) A palavra **ESSE** possui um dígrafo, pois as duas letras grafadas juntas (ss) representam um único fonema na fala.
- (D) As letras da palavra **MAS** formam um encontro vocálico classificado como hiato.
- (E) A separação silábica correta da palavra **ESSE** orienta que as duas consoantes devem ser mantidas sempre juntas na mesma sílaba: e-sse.

### MATEMÁTICA

**Questão 06.** Em um determinado setor de atendimento ao cidadão, um servidor constatou que foram protocolados 1.245 processos no período da manhã e 1.358 processos no período da tarde. Para organizar o arquivo, o setor recebeu mais 457 processos vindos de outra unidade regional no final do expediente. Considerando o fluxo total de documentos que deram entrada nesse setor durante todo o dia de trabalho, qual é a quantidade exata de processos que o servidor deverá organizar para o arquivamento?

- (A) 2.960.
- (B) 3.160.
- (C) 2.603.
- (D) 3.050.
- (E) 3.060.

**Questão 07.** Um almoxarifado central adquiriu 18 caixas de resmas de papel para abastecer as salas de uma repartição. Cada caixa contém exatamente 10 pacotes e cada pacote possui 500 folhas. O gestor do setor decidiu distribuir as folhas igualmente entre 12 departamentos administrativos para a realização de um censo local. Ao realizar a entrega, quantas folhas de papel cada um desses departamentos recebeu para realizar o trabalho, considerando que NÃO houve sobras no estoque do almoxarifado?

- (A) 7.500.
- (B) 7.000.
- (C) 6.500.
- (D) 8.000.
- (E) 9.000.

**Questão 08.** Durante a manutenção de um parque público, um funcionário precisa trocar as lâmpadas de dois setores diferentes. As lâmpadas do primeiro setor piscam a cada 12 segundos, enquanto as do segundo setor piscam a cada 18 segundos. Sabendo que em um determinado instante ambas as lâmpadas piscaram juntas, após quanto tempo, em segundos, elas voltarão a piscar simultaneamente pela primeira vez, mantendo-se o padrão de funcionamento observado pelo operário responsável pela luz?

- (A) 24.
- (B) 36.
- (C) 54.
- (D) 72.
- (E) 48.

**Questão 09.** Uma equipe de limpeza urbana recebeu 120 vassouras e 150 sacos de lixo para distribuir entre os grupos de trabalho. O supervisor deseja formar kits idênticos, contendo a mesma quantidade de vassouras e a mesma quantidade de sacos em cada kit, sem que sobre nenhum item. Além disso, ele pretende criar o maior número possível de kits para atender ao máximo de frentes de trabalho. Diante dessas condições de organização, quantos kits o supervisor conseguirá formar?

- (A) 15.
- (B) 60.
- (C) 10.
- (D) 30.
- (E) 20.

**Questão 10.** Um servidor administrativo comprou materiais de escritório para o uso imediato de sua unidade de trabalho. Ele adquiriu cinco grampeadores por 45 reais cada e dez caixas de grampos por 12 reais cada. Para o pagamento dessa nota fiscal, o servidor utilizou quatro cédulas de 100 reais entregues pelo financeiro. Considerando que todos os valores envolvidos na transação são inteiros, qual foi o valor do troco, em reais, que o servidor devolveu ao caixa da unidade?

- (A) 65.
- (B) 55.
- (C) 50.
- (D) 30.
- (E) 25.

UTILIZE ESTE ESPAÇO PARA CÁLCULOS

UTILIZE ESTE ESPAÇO PARA CÁLCULOS

ATUALIDADES

**Questão 11.** O Poder Executivo do município de Arroio Grande é comandado por um governante específico. Quem é o atual prefeito da cidade?

- (A) Manuel de Sousa Gusmão.
- (B) Plínio Vizeu Pereira Neto.
- (C) David Canabarro.
- (D) Manuel Antunes de Porciúncula.
- (E) Carlos Henrique Machado

**Questão 12.** O Panorama do Censo 2022 levantou informações demográficas sobre a crença da população. Segundo o IBGE, qual é o grupo religioso que possui o maior número de adeptos no Brasil, com mais de 100 milhões de pessoas?

- (A) Pessoas sem religião.
- (B) Religiões Evangélicas.
- (C) Espiritismo.
- (D) Religiões de matriz africana, como Umbanda e Candomblé.
- (E) Católica Apostólica Romana.

**Questão 13.** Segundo o Ministério da Saúde, fora dos períodos de sazonalidade e de epidemia, o controle do mosquito *Aedes aegypti* é o principal método de prevenção contra a dengue. Qual é uma ação recomendada diretamente à população para evitar a proliferação do vetor nas residências?

- (A) Manter as caixas d'água abertas para ventilação contínua.
- (B) Remover recipientes nos domicílios que possam se transformar em criadouros de mosquitos.
- (C) Substituir telas de janelas por cortinas de plástico escuro.
- (D) Acumular folhas e galhos para secar sobre as lajes e calhas.
- (E) Armazenar pneus velhos e garrafas em áreas descobertas do quintal.

**Questão 14.** O Censo Demográfico de 2022 trouxe dados sobre pessoas com deficiência e autismo no país. De acordo com os dados oficiais extraídos desse levantamento, qual é o percentual de pessoas diagnosticadas com autismo no Brasil?

- (A) 7,3%.
- (B) 12,8%.
- (C) 18,9%.
- (D) 0,5%.
- (E) 1,2%.

**Questão 15.** O Produto Interno Bruto (PIB) per capita é um indicador econômico essencial disponibilizado no portal Cidades do IBGE. Referente ao município de Arroio Grande, qual foi o valor do PIB per capita registrado no ano de 2023?

- (A) R\$ 15.630,33.
- (B) R\$ 25.572,46.
- (C) R\$ 54.989,64.
- (D) R\$ 136.678,86.
- (E) R\$ 38.765,23.

LEGISLAÇÃO

**Questão 16.** As alternativas que seguem apresentam afirmações relacionadas com o Poder Executivo, conforme Lei Orgânica. Diante disso, analise essas alternativas e assinale a que apresenta informação que pode ser considerada como sendo INCORRETA.

- (A) A eleição do Prefeito e do Vice-Prefeito realizar-se-á, simultaneamente, nos termos constitucionais.
- (B) O Vice-Prefeito substituirá o Prefeito em seus impedimentos e ausências, mas não pode suceder-lhe no caso de vaga.
- (C) Vagando os cargos de Prefeito e Vice-Prefeito, a depender do caso, se faz eleição noventa dias depois de aberta a última vaga.
- (D) O Poder Executivo é exercido pelo Prefeito, auxiliado pelos Secretários do Município.
- (E) O Prefeito e o Vice-Prefeito tomarão posse na sessão solene de instalação da Câmara Municipal.

**Questão 17.** Pode-se afirmar, com base na Lei Orgânica, que importam responsabilidade os atos do Prefeito ou do Vice-Prefeito que atentam contra a Constituição Federal e a Constituição Estadual e, especialmente contra o previsto em quantos dos seguintes itens? **I.** A Lei Orçamentária; **II.** O cumprimento das leis, salvo quando decisões judiciais; **III.** A improbidade na Administração; **IV.** O livre exercício dos poderes constituídos.

- (A) Nenhum deles.
- (B) Apenas 1 deles.
- (C) Apenas 2 deles.
- (D) Apenas 3 deles.
- (E) Todos os 4.

**Questão 18.** Analise as assertivas que seguem, as quais trazem competências consideradas como sendo exclusivas da Câmara Municipal, conforme Lei Orgânica:

- I. Sustar atos do Poder Executivo que exorbitem da sua competência, ou se mostrem contrários ao interesse público.
- II. Exercer a fiscalização da administração financeira e orçamentária do Município, com o auxílio do Tribunal de Contas do Município, e julgar as contas do Prefeito.
- III. Fixar a remuneração de seus membros, do Prefeito e do Vice-Prefeito.

Está(ão) CORRETA(S):

- (A) Apenas I.
- (B) Apenas II e III.
- (C) I, II e III.
- (D) Apenas I e III.
- (E) Apenas II.

**Questão 19.** Analise o texto que segue, conforme Lei Orgânica:

*Os Secretários do Município, de livre nomeação e demissão pelo Prefeito, são escolhidos dentre brasileiros, maiores de dezoito anos, no gozo dos direitos políticos e estão sujeitos, desde a posse, às mesmas incompatibilidades e proibições estabelecidas para os Vereadores, no que couber.*

Acerca do texto, pode-se afirmar que ele está:

- (A) Plenamente adequado, visto que observa a legislação municipal vigente.
- (B) Parcialmente adequado, visto que a idade mínima para ser Secretário do Município é de vinte e um anos.
- (C) Parcialmente adequado, visto que os Secretários do Município não são de livre nomeação.
- (D) Parcialmente adequado, visto que os Secretários não estão sujeitos, desde a posse, às mesmas incompatibilidades e proibições que os Vereadores.
- (E) Plenamente inadequado, visto que em nada observa a legislação municipal vigente.

**Questão 20.** Analise as partes que seguem: O quadro dos servidores pode ser constituído de classes (**1ª parte**), carreiras funcionais ou de cargos isolados, classificados dentro de um sistema (**2ª parte**), mas nunca dessas formas conjugadas (**3ª parte**).

Acerca das partes, com base na Lei Orgânica, pode-se afirmar que:

- (A) Apenas a 3ª parte está correta.
- (B) Apenas a 2ª parte está correta.
- (C) Apenas a 1ª parte está correta.
- (D) Apenas a 3ª parte está incorreta.
- (E) Apenas a 2ª parte está incorreta.

## CONHECIMENTOS ESPECÍFICOS

**Questão 21.** Analise as partes que seguem: O trabalho na cozinha escolar exige atenção constante. A Merendeira é responsável por receber e armazenar os alimentos destinados à merenda de forma a conservá-los em perfeito estado (**1ª parte**). Além disso, deve observar o aspecto dos alimentos antes e depois de sua preparação, quanto ao cheiro, cor e sabor (**2ª parte**). Por fim, deve abrir apenas as embalagens para o consumo do dia, guardando bem fechadas as que não forem utilizadas totalmente (**3ª parte**).

Pode-se afirmar que:

- (A) Apenas a 1ª e a 2ª partes estão corretas.
- (B) Apenas a 2ª e a 3ª partes estão corretas.
- (C) Todas as partes estão corretas.
- (D) Apenas a 1ª e a 3ª partes estão corretas.
- (E) Todas as partes estão incorretas.

**Questão 22.** Os processos básicos de cocção são essenciais para transformar os alimentos. O cozimento na \_\_\_\_\_ atinge alta temperatura com rapidez, amaciando grãos e economizando gás. Já o cozimento a \_\_\_\_\_ em uma cuscuzeira ou panela própria preserva melhor a textura e os nutrientes dos alimentos mais delicados.

Preenche, CORRETA e respectivamente, as lacunas:

- (A) frigideira aberta – forno.
- (B) chapa quente – óleo fervente.
- (C) água gelada – calor seco.
- (D) panela de pressão – vapor.
- (E) assadeira de alumínio – banho-maria.

**Questão 23.** Para que as verduras e legumes crus sejam consumidos com segurança na merenda, as técnicas básicas de pré-preparo devem incluir etapas rigorosas de higienização. Diante disso, analise as assertivas abaixo:

- I. Deve-se selecionar os vegetais, retirando previamente as folhas soltas e as partes deterioradas.
- II. As verduras folhosas devem ser lavadas, folha a folha, em água corrente antes do processo de desinfecção.
- III. Para a desinfecção, deve-se deixar de molho em solução clorada pelo tempo adequado e depois enxaguar com água potável.

Está CORRETO o que se afirma em:

- (A) Apenas I.
- (B) Apenas II.
- (C) Apenas I e III.
- (D) Apenas II e III.
- (E) I, II e III.

**Questão 24.** As massas e os pães são importantes alimentos do grupo dos energéticos (carboidratos). Contudo, exigem atenção constante da Merendeira quanto ao seu armazenamento em estoques (despensas secas) e à classificação de seus ingredientes no nível de processamento. Com base nisso, assinale a alternativa CORRETA.

- (A) Pães de forma industriais contendo gordura vegetal hidrogenada, açúcares, emulsificantes e corantes são classificados como alimentos *in natura*.
- (B) Farináceos, massas secas, pães e biscoitos devem ser armazenados em temperatura ambiente, num depósito limpo, ventilado e livre de umidade.
- (C) O macarrão instantâneo de pacote (com tempero pronto) é um alimento minimamente processado e muito recomendado para a saúde dos alunos.
- (D) O armazenamento das massas secas (cruas) e das farinhas deve ocorrer obrigatoriamente dentro de freezers e congeladores em temperatura de  $-18^{\circ}\text{C}$ .
- (E) O armazenamento de pães caseiros recém-assados deve ser feito diretamente sob luz solar para evitar a formação de mofo.

**Questão 25.** Analise as partes que seguem: As normativas da alimentação escolar determinam restrições rigorosas sobre a oferta de açúcares (refinado, cristal, mascavo, etc.). A adição de açúcar, mel ou adoçantes é proibida nas preparações para crianças de até três anos de idade (**1ª parte**). Essa medida visa prevenir a obesidade infantil, a cárie dentária e ajudar a construir hábitos alimentares saudáveis (**2ª parte**). Além disso, para essa mesma faixa etária, também é totalmente proibida a oferta de alimentos ultraprocessados nas refeições escolares (**3ª parte**).

Pode-se afirmar que:

- (A) Apenas a 1ª e a 2ª partes estão corretas.
- (B) Apenas a 2ª e a 3ª partes estão corretas.
- (C) Apenas a 1ª e a 3ª partes estão corretas.
- (D) Todas as partes estão corretas.
- (E) Todas as partes estão incorretas.