




## AGENTE DE COMBATE ÀS ENDEMIAS




**Município de Arroio Grande/RS**  
Processo Seletivo Público 01/2026


### PROVA TEÓRICO-OBJETIVA

 3 horas

 25 questões

 5 alternativas

 Saída permitida somente após 1 hora de prova

 O candidato só poderá levar este Caderno após 2 horas de prova

### INSTRUÇÕES



Confira se esse Caderno de Prova contém a quantidade de questões indicadas. A substituição deste Caderno de Prova ocorre apenas antes de iniciar a prova.

- ▮ O tempo de prova inclui o preenchimento do Cartão-Resposta.
- ▮ Nenhuma informação acerca do conteúdo das questões será fornecida pelo Fiscal de Sala, pois é parte integrante da prova.
- ▮ Antes de sair da Sala de Prova, entregue o Cartão-Resposta ao Fiscal de Sala, **devidamente assinado**, e, após, se desloque imediatamente para a saída do local de prova.
- ▮ Ao final da prova, os 03 (três) últimos candidatos deverão permanecer na Sala de Prova até que o último termine a sua prova, devendo ambos testemunhar a devolução e o lacre dos documentos.
- ▮ A divulgação do gabarito preliminar se dará conforme Cronograma de Execução do certame.

TODOS OS DIREITOS RESERVADOS AO INSTITUTO LEGALLE. PROIBIDO REPRODUÇÃO.

### RASCUNHO PARA GABARITO

01		06		11		16		21	
02		07		12		17		22	
03		08		13		18		23	
04		09		14		19		24	
05		10		15		20		25	

## LÍNGUA PORTUGUESA

Para responder às questões 01 a 05, leia a charge abaixo.



Fonte: Cazo

**Questão 01.** O texto da charge constrói seu efeito reflexivo fundamentando-se no duplo efeito de sentido gerado pelo emprego da palavra **sonhar**. Acerca disso, assinale a alternativa CORRETA.

- (A) O vocábulo expressa, para ambos os personagens, o mesmo sentido estrito e biológico de descanso e repouso durante a madrugada.
- (B) O verbo indica uma ação que o menino trabalhador recusa intencionalmente por considerar a medicina uma profissão inalcançável.
- (C) O termo assume um sentido polissêmico, indicando para uma das crianças a projeção de um futuro promissor e, para a outra, uma privação de perspectivas.
- (D) A palavra revela implicitamente que o menino rico sofre de terríveis pesadelos, enquanto o menino pobre consegue descansar tranquilamente após o trabalho.
- (E) A expressão atua como um sinônimo literal para a ação física de vender produtos exaustivamente nos semáforos urbanos.

**Questão 02.** A articulação das ideias e a retomada de termos na charge dependem do uso de conectivos e de pronomes. Considerando o contraste social retratado na charge, leia o período a seguir:

*O menino trabalhador, **cuja** rotina noturna é exaustiva, não tem tempo para planejar o amanhã. **Ainda que** possua a mesma idade do garoto rico, a exploração rouba seus direitos; **por conseguinte**, ele vive restrito à sobrevivência imediata.*

Os vocábulos em destaque expressam, CORRETA e respectivamente, os valores semânticos de:

- (A) Posse - concessão - conclusão.
- (B) Restrição - condição - causa.
- (C) Posse - oposição - explicação.
- (D) Explicação - proporção - oposição.
- (E) Lugar - causa - consequência.

**Questão 03.** Considerando os aspectos linguísticos do segundo balão de fala, do jovem à direita da charge, analise as assertivas abaixo e julgue-as em Verdadeiras (V) ou Falsas (F):

- ( ) A locução verbal **ESTAVA TRABALHANDO** expressa uma ação de caráter contínuo e prolongado que ocorreu em um momento específico do passado.
- ( ) O uso da vírgula no trecho justifica-se pela necessidade obrigatória de separar um vocativo de chamamento no interior da oração.
- ( ) O pronome pessoal **EU**, presente na oração, atua sintaticamente como o sujeito e marca de forma explícita a primeira pessoa do discurso.

Qual alternativa preenche, CORRETAMENTE, de cima para baixo, os parênteses acima?

- (A) V - V - F.
- (B) F - V - V.
- (C) V - F - V.
- (D) F - F - F.
- (E) V - V - V.

**Questão 04.** A leitura e a compreensão da charge dependem da coerência entre as informações explícitas e implícitas, além da estrutura das palavras. Diante disso, analise as assertivas abaixo:

- I. A contraposição visual entre as roupas dos meninos atua como um recurso não verbal de argumentação que reforça a desigualdade social no discurso.
- II. A palavra **MÉDICO** funciona morfológicamente no texto como um adjetivo, servindo para caracterizar o excelente estado de saúde físico e mental da criança.
- III. O vocábulo **ONTEM** exerce a função morfossintática de adjunto adverbial, situando cronologicamente o momento em que os fatos relatados ocorreram.

Está CORRETO o que se afirma em:

- (A) Apenas I.
- (B) Apenas II.
- (C) Apenas I e II.
- (D) Apenas I e III.
- (E) I, II e III.

**Questão 05.** Considerando as regras normativas sobre conjunções, a partir das frases interpretativas da charge, assinale a alternativa CORRETA.

- (A) Na construção **O menino rico planeja ser médico, porquanto o jovem passa a madrugada nas ruas**, o conectivo indica uma relação de oposição direta.
- (B) Na frase **O garoto é privado de perspectivas visto que a necessidade do sustento consome seu tempo**, a locução conjuntiva introduz a causa dessa realidade.
- (C) No período **Conquanto a criança de classe alta durma, o vendedor de doces sofre com a exaustão**, o termo conectivo expressa uma ideia de finalidade.
- (D) Na oração **A infância do menino é usurpada, logo ele possui oportunidades promissoras**, a conclusão introduzida pela conjunção é coerente com a crítica da charge.
- (E) No trecho **A criança sacrifica seu descanso para que consiga estudar de dia**, a locução conjuntiva evidencia uma proporção entre os acontecimentos.

### MATEMÁTICA

**Questão 06.** Um setor de logística planeja a distribuição de cestas de alimentos utilizando dois tipos de veículos. O primeiro modelo transporta 15 cestas por viagem, enquanto o segundo modelo transporta 25 cestas. Em um dia de operação, foram realizadas 12 viagens no total para entregar exatamente 240 cestas destinadas a famílias cadastradas. Considerando que o supervisor precisa determinar quantas viagens foram feitas pelo veículo de maior capacidade para ajustar o cronograma da semana, qual foi o total dessas viagens?

- (A) 5.
- (B) 8.
- (C) 4.
- (D) 6.
- (E) 10.

**Questão 07.** Um fundo de investimento institucional aplicou um capital inicial de 40.000 reais sob o regime de juros simples durante um período de 15 meses para custear reformas futuras. Ao final do prazo, o montante total resgatado foi de 49.000 reais. Considerando que o gestor financeiro precisa registrar no relatório a taxa de juros mensal que foi aplicada nessa operação para fins de transparência e controle de rendimentos, qual foi a taxa percentual mensal de juros simples obtida nessa aplicação?

- (A) 1,5%.
- (B) 2,0%.
- (C) 1,2%.
- (D) 1,8%.
- (E) 0,8%.

**Questão 08.** Um servidor analisou o tempo de espera de cinco cidadãos em uma unidade de serviço, registrando os seguintes valores: 12, 18, 15, 25 e 20 minutos. Para otimizar o fluxo de atendimento, o supervisor solicitou o cálculo da média aritmética simples desses tempos. No entanto, um sexto cidadão foi atendido e a nova média do grupo passou a ser exatamente de 20 minutos. Diante disso, qual foi o tempo de espera, em minutos, registrado para esse sexto cidadão que entrou na estatística final?

- (A) 20.
- (B) 30.
- (C) 25.
- (D) 35.
- (E) 15.

**Questão 09.** Para a organização de um novo arquivo, um funcionário deve criar códigos de identificação compostos por 3 letras distintas, utilizando as letras da palavra PROVA, seguidas de 2 algarismos também distintos, escolhidos entre 1, 2, 3 e 4. O objetivo é garantir que cada documento possua um identificador único para facilitar a localização sistemática. Considerando as restrições de que NÃO pode haver repetições em cada grupo, quantos códigos diferentes podem ser gerados?

- (A) 480.
- (B) 120.
- (C) 1.440.
- (D) 720.
- (E) 960.

**Questão 10.** Um cronograma de manutenção prevê a inspeção de bueiros em uma avenida. No primeiro dia, foram inspecionados 10 bueiros. A partir de então, a cada dia subsequente, a equipe consegue inspecionar 4 bueiros a mais do que no dia anterior, formando uma progressão. Considerando que o responsável precisa saber o total de bueiros que terão sido inspecionados após completar exatamente 10 dias de trabalho contínuo para atualizar o relatório de metas, qual é esse valor acumulado?

- (A) 310.
- (B) 275.
- (C) 460.
- (D) 125.
- (E) 280.

**UTILIZE ESTE ESPAÇO PARA CÁLCULOS**

## UTILIZE ESTE ESPAÇO PARA CÁLCULOS

### ATUALIDADES

**Questão 11.** A história de Arroio Grande relata que, antes da fundação definitiva do povoado, houve uma forte divergência sobre qual margem do arroio (direita ou esquerda) deveria abrigar a localidade. Como os partidários da margem esquerda venceram essa disputa e forçaram a consolidação da cidade no lado que defendiam?

- (A) Construíram um forte militar de pedra e bloquearam a passagem da margem direita.
- (B) Solicitaram a intervenção armada de David Canabarro, que expulsou os moradores da margem direita.
- (C) Mandaram construir um rancho de pau-a-pique sobre quatro rodas e o conduziram puxado por bois, à noite, para o local desejado.
- (D) Inundaram intencionalmente a margem direita para impedir as obras da igreja de material que estava sendo feita lá.
- (E) Queimaram a única ponte de madeira existente sobre o arroio, isolando os moradores da margem oposta.

**Questão 12.** A dengue é classificada cientificamente pelo Ministério da Saúde como uma arbovirose, já que é causada por vírus transmitidos por artrópodes.

Segundo a taxonomia científica, os vírus da dengue (DENV) pertencem a qual família e gênero?

- (A) Família *Retroviridae*, gênero *Lentivirus*.
- (B) Família *Flaviviridae*, gênero *Orthoflavivirus*.
- (C) Família *Coronaviridae*, gênero *Betacoronavirus*.
- (D) Família *Togaviridae*, gênero *Alphavirus*.
- (E) Família *Paramyxoviridae*, gênero *Morbillivirus*.

**Questão 13.** As estatísticas sobre a composição domiciliar no Brasil evidenciam como as famílias se organizam nos lares. De acordo com os dados do Panorama do Censo 2022, qual é a porcentagem exata de domicílios brasileiros habitados por apenas 1 (um) morador?

- (A) 7,30%.
- (B) 18,94%.
- (C) 20,22%.
- (D) 15,00%.
- (E) 33,45%.

**Questão 14.** A formação administrativa de Arroio Grande passou por diversas alterações de limites e distritos territoriais ao longo das décadas. Conforme as leis estaduais mencionadas nas fontes históricas do município, o que ocorreu especificamente com o distrito de Olimpo no ano de 1959?

- (A) Foi elevado à categoria de Freguesia pela Província.
- (B) Teve seu nome alterado definitivamente para Açoriano.
- (C) Foi anexado ao novo Município de Pedro Osório.
- (D) Passou a se chamar Santa Isabel do Sul.
- (E) Foi emancipado, tornando-se um município independente.

**Questão 15.** O Censo 2022 informou que a população indígena total no Brasil é de 1.694.836 pessoas, porém, o IBGE divide esse total entre os que têm a "cor ou raça indígena" e os que "se consideram indígenas" de outras formas. Desse número total, qual é a quantidade exata de pessoas que declararam ter "cor ou raça indígena"?

- (A) 467.194 pessoas.
- (B) 850.130 pessoas.
- (C) 1.227.642 pessoas.
- (D) 1.330.186 pessoas.
- (E) 985.450 pessoas.

### LEGISLAÇÃO

**Questão 16.** Conforme a Lei Orgânica, a Lei Orçamentária anual compreende:

- I. O orçamento da seguridade social.
- II. O orçamento fiscal referente aos Poderes do Município, órgãos e entidades da administração direta e indireta, salvo as fundações instituídas e mantidas pelo Poder Público Municipal.
- III. O orçamento de investimento das empresas em que o Município, somente diretamente, detenha a maioria do capital social, com direito a voto.

Está(ão) CORRETA(S):

- (A) Apenas I.
- (B) Apenas II e III.
- (C) I, II e III.
- (D) Apenas I e III.
- (E) Apenas II.

## CONHECIMENTOS ESPECÍFICOS

**Questão 17.** O Município responderá pelos danos que seus agentes, nessa qualidade, causarem a terceiros, sendo obrigatório o uso de ação \_\_\_\_\_ contra o responsável nos casos de \_\_\_\_\_, na forma da Constituição Federal.

Preenche, CORRETA e respectivamente, as lacunas, conforme a Lei Orgânica:

- (A) regressiva; dolo ou culpa.
- (B) regressiva; dolo, somente.
- (C) progressiva; dolo ou culpa.
- (D) progressiva; dolo, somente.
- (E) progressiva; culpa, somente.

**Questão 18.** Os Conselhos Municipais são órgãos governamentais, que têm por finalidade auxiliar a Administração na orientação, no planejamento, na interpretação e no julgamento de matéria de sua competência. De acordo com a Lei Orgânica, quantos dos seguintes itens são exemplos de Conselhos Municipais? **I.** Conselho Municipal de Transportes; **II.** Conselho Municipal de Entorpecentes; **III.** Conselho Municipal da Grande Agroindústria; **IV.** Conselho Municipal de Desportos.

- (A) Nenhum deles.
- (B) Apenas 1 deles.
- (C) Apenas 2 deles.
- (D) Apenas 3 deles.
- (E) Todos os 4.

**Questão 19.** A Lei Orgânica apresenta diversas determinações que envolvem as questões orçamentárias do Município, de ambos os Poderes Executivo e Legislativo. Nesse sentido, os recursos correspondentes às dotações orçamentárias, compreendidos os créditos suplementares e especiais, destinados ao Poder Legislativo, ser-lhe-ão entregues até qual dia de cada mês?

- (A) Dia 5.
- (B) Dia 10.
- (C) Dia 12.
- (D) Dia 15.
- (E) Dia 20.

**Questão 20.** Tem-se que, conforme Lei Orgânica, na organização de sua economia, em cumprimento ao que estabelecem a Constituição Federal e a Constituição Estadual, o Município zelará por princípios, como os descritos nas alternativas que seguem, com EXCEÇÃO de:

- (A) Democratização do acesso à propriedade dos meios de produção.
- (B) Estímulo à participação da comunidade através de organizações representativas dela.
- (C) Afastamento dos projetos de cunho comunitário nos financiamentos públicos e incentivos fiscais.
- (D) Planificação do desenvolvimento, determinante para o setor público e indicativo para o setor privado.
- (E) Promoção do bem-estar do homem com o fim essencial da produção e do desenvolvimento econômico.

**Questão 21.** A Política Nacional de Atenção Básica (PNAB) e as diretrizes vigentes estabelecem atribuições específicas e integradas para o Agente de Combate às Endemias (ACE) no território. Sobre as atividades operacionais rotineiras desse profissional de saúde, analise as assertivas abaixo e julgue-as em Verdadeiras (V) ou Falsas (F):

- ( ) A realização sistemática de ações de campo para pesquisa entomológica e malacológica no município é uma atribuição do ACE.
- ( ) O cadastramento e a atualização frequente da base de imóveis visam exclusivamente a cobrança de multas sanitárias aos moradores.
- ( ) O ACE deve orientar ativamente a comunidade quanto à adoção de medidas simples de manejo ambiental para o controle de vetores.

Qual alternativa preenche, CORRETAMENTE, de cima para baixo, os parênteses acima?

- (A) V - V - F.
- (B) V - F - V.
- (C) F - V - F.
- (D) V - F - F.
- (E) F - F - V.

**Questão 22.** A raiva é uma grave zoonose viral, caracterizada clinicamente como uma encefalite aguda de altíssima letalidade. Sobre os diferentes ciclos de transmissão e as medidas de controle dessa enfermidade nos municípios, analise as assertivas abaixo e julgue-as em Verdadeiras (V) ou Falsas (F):

- ( ) A vacinação antirrábica contínua e em massa das populações de cães e gatos é uma medida essencial para a prevenção do ciclo urbano da doença.
- ( ) O vírus rábico patogênico é transmitido ao ser humano exclusivamente por meio da inalação de gotículas respiratórias de cães e gatos infectados.
- ( ) O recolhimento seguro e a adequada observação clínica de animais agressores por dez dias auxiliam ativamente na vigilância da raiva urbana.

Qual alternativa preenche, CORRETAMENTE, de cima para baixo, os parênteses acima?

- (A) V - V - F.
- (B) V - F - V.
- (C) F - V - F.
- (D) F - F - V.
- (E) V - F - F.

**Questão 23.** A leishmaniose visceral é uma doença crônica e sistêmica de altíssima relevância no país. No intenso ciclo urbano de transmissão, o principal reservatório epidemiológico e fonte de infecção do parasito é o \_\_\_\_\_. A transmissão efetiva dessa zoonose ocorre por meio da picada de fêmeas infectadas de insetos vetores, que são conhecidos popularmente como \_\_\_\_\_.

Preenche, CORRETA e respectivamente, as lacunas:

- (A) felino doméstico – carrapatos.
- (B) roedor sinantrópico – barbeiros.
- (C) cão – mosquito-palha.
- (D) morcego hematófago – borrachudos.
- (E) equino – pernilongos.

**Questão 24.** A leptospirose é uma doença infecciosa severa intimamente ligada à proliferação de roedores sinantrópicos no meio urbano. Sobre as medidas de prevenção e o controle estratégico desses animais em saúde pública, analise as assertivas abaixo:

- I. A infecção humana resulta comumente da exposição prolongada direta ou indireta à água e ao solo contaminados com a urina de roedores.
- II. O manejo ambiental correto, associado ao adequado acondicionamento e destinação de resíduos sólidos, é uma medida fundamental de antirratização.
- III. O uso indiscriminado e isolado de raticidas químicos urbanos substitui a necessidade contínua de saneamento básico e limpeza pública.

Está CORRETO o que se afirma em:

- (A) Apenas I.
- (B) Apenas II e III.
- (C) Apenas I e II.
- (D) I, II e III.
- (E) Apenas I e III.

**Questão 25.** O controle vetorial das arboviroses urbanas (dengue, zika e chikungunya) exige planejamento estruturado e vigilância entomológica contínua por parte da gestão municipal. O Agente de Combate às Endemias atua ativamente na identificação e eliminação de focos do mosquito transmissor nas residências. Considerando isso, pode-se afirmar que:

- (A) A aplicação espacial de inseticida a ultrabaixo volume (UBV) deve ser utilizada como única medida preventiva diária em municípios não infestados.
- (B) O Levantamento de Índice Rápido (LIRAA) é uma ferramenta estratégica que auxilia as instâncias a identificar os criadouros predominantes.
- (C) A eliminação mecânica de depósitos inservíveis nos quintais é desnecessária quando o carro fumacê passa semanalmente na rua.
- (D) O mosquito vetor prolifera-se exclusivamente em locais com água suja, barrenta e com alto teor de matéria orgânica em decomposição.
- (E) O uso rotineiro de ovitrampas é expressamente proibido pelo Ministério da Saúde em áreas de grande densidade populacional urbana.