


AGENTE COMUNITÁRIO DE SAÚDE




Município de Bom Princípio/RS
Processo Seletivo Público 01/2026


PROVA TEÓRICO-OBJETIVA

 3 horas

40 questões

 4 alternativas

 Saída permitida somente após 1 hora de prova

 O candidato só poderá levar este Caderno após 1 hora de prova

INSTRUÇÕES



Confira se esse Caderno de Prova contém a quantidade de questões indicadas. A substituição deste Caderno de Prova ocorre apenas antes de iniciar a prova.

- ▮ O tempo de prova inclui o preenchimento do Cartão-Resposta.
- ▮ Nenhuma informação acerca do conteúdo das questões será fornecida pelo Fiscal de Sala, pois é parte integrante da prova.
- ▮ Antes de sair da Sala de Prova, entregue o Cartão-Resposta ao Fiscal de Sala, **devidamente assinado**, e, após, se desloque imediatamente para a saída do local de prova.
- ▮ Ao final da prova, os 03 (três) últimos candidatos deverão permanecer na Sala de Prova até que o último termine a sua prova, devendo ambos testemunhar a devolução e o lacre dos documentos.
- ▮ A divulgação do gabarito preliminar se dará conforme Cronograma de Execução do certame.

TODOS OS DIREITOS RESERVADOS AO INSTITUTO LEGALLE. PROIBIDO REPRODUÇÃO.

RASCUNHO PARA GABARITO

01	06	11	16	21	26	31	36
02	07	12	17	22	27	32	37
03	08	13	18	23	28	33	38
04	09	14	19	24	29	34	39
05	10	15	20	25	30	35	40

Para responder às questões 01 a 06, leia a charge abaixo.

PROIBIÇÃO DOS CELULARES NAS ESCOLAS..



Autor: Cazo

Questão 01. Analise as partes que seguem: A charge em análise constrói a sua crítica central ao retratar o profundo choque geracional e a extrema dependência tecnológica da atual juventude (**1ª parte**). A reação de espanto do aluno, ao segurar o seu aparelho e apontar para o material impresso, deixa subentendido que o uso excessivo de telas apagou o seu contato com os suportes tradicionais de leitura, tornando o objeto físico irreconhecível para ele (**2ª parte**). O título da charge atua discursivamente para situar a cena no debate educacional contemporâneo, evidenciando o esforço da escola em resgatar práticas pedagógicas analógicas por meio da restrição dos aparelhos digitais (**3ª parte**).

Acerca das partes, pode-se afirmar que:

- (A) Apenas a 1ª e a 2ª partes estão corretas.
- (B) Todas as partes estão incorretas.
- (C) Apenas a 2ª e a 3ª partes estão corretas.
- (D) Todas as partes estão corretas.

Questão 02. Analise as partes que seguem: Na fala da professora, ao enunciar a estrutura **ESTE LIVRO**, o pronome demonstrativo cumpre uma função deíctica normativa, indicando que o objeto mencionado encontra-se fisicamente próximo da pessoa que fala (**1ª parte**). Na fala do estudante, ao enunciar o termo **ISSO AQUI**, o pronome demonstrativo refere-se ao objeto apresentado, porém evidencia um distanciamento da rígida norma-padrão que exigiria o uso do pronome isto para elementos próximos a quem fala (**2ª parte**). O vocábulo **AQUI**, presente na mesma fala, funciona morfológicamente como um advérbio de lugar, reforçando a proximidade espacial do objeto em relação aos enunciadores no contexto da sala de aula (**3ª parte**).

Acerca das partes, pode-se afirmar que:

- (A) Apenas a 1ª e a 2ª partes estão corretas.
- (B) Todas as partes estão incorretas.
- (C) Apenas a 2ª e a 3ª partes estão corretas.
- (D) Todas as partes estão corretas.

Questão 03. Na fala da educadora, a estrutura **VAMOS UTILIZAR ESTE LIVRO** apresenta uma locução verbal que transmite a ação planejada. Diante disso, assinale a alternativa que substitui de forma perfeitamente adequada essa locução por uma forma verbal simples, mantendo o tempo, o modo e a pessoa do discurso estabelecidos na oração original.

- (A) Utilizaríamos.
- (B) Utilizaremos.
- (C) Utilizávamos.
- (D) Utilizem.

Questão 04. Analise as partes que seguem:

A forma verbal **É**, presente no texto, recebe acento agudo obrigatoriamente por enquadrar-se na regra gramatical dos monossílabos tônicos finalizados na vogal E (**1ª parte**). A palavra **AQUI** é classificada quanto à posição da sílaba tônica como uma palavra oxítona, porém não recebe acento gráfico porque as regras oficiais não exigem a acentuação de oxítonas finalizadas em I (**2ª parte**). O vocábulo **ESCOLAS**, presente no título da charge, apresenta em sua estrutura um nítido encontro consonantal formado pelas letras S e C, visto que ambas as consoantes são pronunciadas de modo independente (**3ª parte**).

Acerca das partes, pode-se afirmar que:

- (A) Apenas a 1ª e a 2ª partes estão corretas.
- (B) Todas as partes estão incorretas.
- (C) Todas as partes estão corretas.
- (D) Apenas a 1ª e a 3ª partes estão corretas.

Questão 05. A sintaxe e os recursos de expressividade permitem ao falante atribuir efeitos de sentido peculiares aos seus enunciados. No trecho **QUER DIZER QUE ISSO AQUI É QUE É UM LIVRO?!**, analise o emprego morfológico e discursivo da expressão **É QUE**.

Diante disso, assinale a alternativa que descreve a função sintática e a implicação de sentido dessa estrutura no enunciado do aluno.

- (A) Atua como conjunção subordinativa integrante, sendo exigida para introduzir o sujeito paciente da oração.
- (B) Funciona como preposição acidental, unindo obrigatoriamente o pronome demonstrativo ao verbo principal.
- (C) Exerce a função de partícula expletiva ou de realce, empregada unicamente para enfatizar a surpresa e a perplexidade do personagem.
- (D) Atua como pronome relativo normativo, substituindo o termo anterior para evitar repetições desnecessárias no diálogo.

Questão 06. No trecho **NO LUGAR DO CELULAR VAMOS UTILIZAR ESTE LIVRO**, a locução sublinhada opera sintaticamente para estabelecer no período uma clara ideia de:

- (A) Causa.
- (B) Finalidade.
- (C) Substituição.
- (D) Conformidade.

MATEMÁTICA

Questão 07. Um arquivo público utiliza um sistema de identificação de pastas baseado em uma sequência numérica que segue uma progressão aritmética. A primeira pasta do corredor recebeu o número 104 e a segunda o número 111. Um servidor precisa localizar a trigésima pasta desse corredor para realizar uma auditoria de rotina. Assim, qual é o número de identificação gravado na etiqueta desta 30ª pasta, seguindo rigorosamente a lógica da sequência estabelecida pelo sistema de arquivamento?

- (A) 307.
- (B) 300.
- (C) 297.
- (D) 314.

Questão 08. Um servidor administrativo deve calcular a média ponderada das notas de desempenho de um estagiário para renovação de contrato. As notas foram: Produtividade (nota 8,0 com peso 3), Assiduidade (nota 9,0 com peso 2) e Iniciativa (nota 7,0 com peso 1). Diante disso, qual é a média final ponderada aproximada que o servidor deve registrar no prontuário do estagiário, considerando os pesos atribuídos a cada critério de avaliação estabelecidos pela normativa vigente?

- (A) 7,50.
- (B) 8,17.
- (C) 8,33.
- (D) 7,67.

Questão 09. Para a sinalização de uma vaga de estacionamento exclusiva, o setor de obras precisa pintar um círculo perfeito no chão. O projeto especifica que o raio desse círculo deve ser de exatos 2 metros. Considerando a constante $\pi = 3,14$, qual será a área total da superfície, em metros quadrados, que o servidor encarregado deverá cobrir com a tinta especial para garantir que a sinalização esteja de acordo com as medidas previstas no projeto técnico?

- (A) 6,28.
- (B) 9,42.
- (C) 25,12.
- (D) 12,56.

Questão 10. Um sistema de senhas para atendimento ao público utiliza anagramas da palavra 'PROTO'. Um servidor curioso deseja saber quantas senhas diferentes podem ser geradas permutando as letras dessa palavra, sabendo que senhas com letras repetidas em ordens diferentes contam como novas combinações. Assim, quantas senhas distintas podem ser formadas com as letras da palavra citada?

- (A) 24.
- (B) 10.
- (C) 60.
- (D) 120.

Questão 11. Um servidor investiu uma verba de um prêmio de produtividade em uma aplicação que rende juros compostos de 10% ao ano. O valor aplicado foi de R\$ 5.000,00. Se ele deixar o dinheiro investido por exatos 2 anos sem realizar nenhum saque, qual será o montante total, incluindo os juros acumulados, que ele terá disponível ao final desse período para realizar uma viagem de férias planejada?

- (A) R\$ 5.100,00.
- (B) R\$ 5.500,00.
- (C) R\$ 6.050,00.
- (D) R\$ 6.000,00.

Questão 12. Um terreno público tem o formato de um trapézio retângulo. A base maior mede 20 metros, a base menor mede 14 metros e a altura, que corresponde ao lado perpendicular às bases, mede 8 metros. O setor de manutenção precisa instalar uma cerca apenas no contorno do terreno, mas antes deve calcular a área total para saber o quanto de grama deverá ser plantada. Com isso, qual é a área total desse terreno, em metros quadrados?

- (A) 136.
- (B) 160.
- (C) 272.
- (D) 144.

UTILIZE ESTE ESPAÇO PARA CÁLCULOS

UTILIZE ESTE ESPAÇO PARA CÁLCULOS

INFORMÁTICA

Questão 13. Durante a edição de um documento no Microsoft Word 365, um usuário realizou diferentes ajustes na formatação de parágrafos, incluindo alterações de recuo. Com base nesse recurso, analise as assertivas:

- I. Para configurar um recuo aplicado exclusivamente à primeira linha do parágrafo, o usuário deve utilizar as opções disponíveis no grupo **Fonte**.
- II. A aplicação de recuos em um parágrafo não altera o seu tipo de alinhamento (à esquerda, à direita, centralizado ou justificado).

Das assertivas, pode-se afirmar que:

- (A) I e II estão corretas.
- (B) Apenas I está correta.
- (C) Apenas II está correta.
- (D) I e II estão incorretas.

Questão 14. No Microsoft Word 365, o **Sombreamento** permite aplicar cor de fundo a elementos específicos do documento, como parágrafos e células de tabelas. Sobre esse recurso, analise as partes que seguem:

(1ª parte): O **Sombreamento** pode ser aplicado a um único parágrafo, independentemente do tamanho do documento.


(2ª parte): É possível aplicar **Sombreamento** sem selecionar previamente um trecho de texto, afetando, nesse caso, o parágrafo onde a barra de texto está posicionada.

(3ª parte): Na Faixa de Opções, o recurso é representado por um ícone de pincel.

Pode-se afirmar que:

- (A) Apenas a 1ª parte está correta.
- (B) Apenas a 1ª e a 2ª partes estão corretas.
- (C) Apenas a 2ª e a 3ª partes estão corretas.
- (D) Todas as partes estão corretas.

Questão 15. No sistema operacional Windows 11, a imagem apresentada abaixo ilustra um recurso exibido quando o usuário posiciona o cursor do mouse sobre o botão de maximizar de uma janela ativa. Esse recurso tem como principal finalidade:



- (A) Agrupar atalhos, arquivos e pastas na área de trabalho.
- (B) Minimizar simultaneamente todas as janelas abertas, exibindo na tela a área de trabalho.
- (C) Maximizar a tela e redimensionar todas as janelas para o modo de tela cheia.
- (D) Organizar as janelas abertas em diferentes layouts predefinidos na tela.

Questão 16. No contexto da exibição de arquivos no modo **Detalhes** do Explorador de Arquivos do Windows 11, a forma de apresentação dos nomes de arquivos longos depende de determinados fatores de visualização. Diante disso, como se comporta a visualização dos nomes de arquivos quando seu tamanho excede o espaço disponível nesse modo?

- (A) Os nomes de arquivos são distribuídos em múltiplas linhas para garantir sua visualização completa.
- (B) O sistema reduz o número de caracteres do nome do arquivo para adequá-lo ao espaço disponível.
- (C) A exibição completa do nome do arquivo depende do ajuste da largura da coluna correspondente.
- (D) Arquivos com nomes extensos deixam de ser exibidos quando ultrapassam o espaço da coluna.

Questão 17. No contexto da navegação na internet por meio do Google Chrome, analise as assertivas a seguir, considerando conceitos relacionados ao modo de navegação anônima, organização de guias e uso de cookies, e julgue-as V, se Verdadeiras, ou F, se Falsas:

- () Durante a navegação em modo anônimo, os arquivos baixados não são excluídos ao se fechar o navegador.
- () No Google Chrome, cada janela permite a abertura de apenas uma única guia de navegação por vez.
- () Cookies podem armazenar preferências do usuário, como idioma e configurações de exibição.

Qual alternativa preenche, CORRETAMENTE, de cima para baixo, os parênteses acima?

- (A) V – F – V.
- (B) F – V – V.
- (C) V – V – F.
- (D) V – F – F.

Questão 18. No navegador Google Chrome, o uso de atalhos de teclado pode facilitar a navegação, especialmente quando há múltiplas abas abertas simultaneamente. Ao acionar o atalho **Ctrl + Shift + A**, o navegador apresenta qual comportamento?

- (A) Alterna entre as abas abertas, respeitando a ordem de utilização recente, sem exibir interface adicional.
- (B) Abre o gerenciador de tarefas do navegador, exibindo o consumo de recursos das abas.
- (C) Exibe um painel lateral contendo a listagem das abas abertas, com possibilidade de pesquisa.
- (D) Restaura a aba mais recentemente fechada, reabrindo seu conteúdo na mesma janela.

ATUALIDADES

Questão 19. O processo de emancipação política de Bom Princípio ocorreu formalmente em 12 de maio de 1982. Antes de se tornar um município autônomo, a área pertencia a qual cidade, da qual foi desmembrada através da Lei Estadual nº 7.653?

- (A) Alto Feliz.
- (B) São Sebastião do Caí.
- (C) São Leopoldo.
- (D) Tupandi.

Questão 20. A região que hoje compreende o município de Bom Princípio teve outras denominações, como Serraria e Winterschneiss, antes de receber o seu nome oficial. Quem foi o comerciante responsável por criar o nome "Bom Princípio" no ano de 1853, buscando dar uma designação em Língua Portuguesa à localidade?

- (A) João Guilherme Winter.
- (B) Jacinto Klein.
- (C) Philip Jacob Selbach.
- (D) Luiza Theodora Feijó.

Questão 21. Conhecida nacionalmente por sua fruta símbolo, Bom Princípio investe forte na produção agrícola e no desenvolvimento rural. De acordo com os dados locais, qual é a variedade de morango MAIS PLANTADA no município através do moderno sistema de substrato (com as mudas suspensas a 70 cm do solo)?

- (A) Forromeco.
- (B) San Andreas.
- (C) Camarosa.
- (D) Klüsserath.

Questão 22. O Parque Municipal de Bom Princípio é palco de importantes festividades que impulsionam o comércio, a cultura e o turismo local. Assim, qual é o nome da feira de materiais e serviços voltada para a construção civil, móveis e decoração que ocorre paralelamente à tradicional Festa Nacional do Moranguinho?

- (A) Construmóvel.
- (B) Moto Morango.
- (C) Feira Industrial do Vale do Caí.
- (D) Encontro Nacional de Motociclistas.

Questão 23. No início da colonização alemã no Vale do Caí, iniciada por Guilherme Winter, os lotes foram vendidos e estabelecidos bem próximos ao rio. Segundo os registros históricos de Bom Princípio, quais foram os dois motivos socioeconômicos e de segurança principais para a concentração dos colonos junto ao leito fluvial nessa época?

- (A) A obrigatoriedade legal imposta pelo Império e a abundância de peixes para exportação.
- (B) O clima ameno das margens e a proximidade com as antigas e modernas estradas de ferro.
- (C) A proteção mútua contra o perigo de ataques de índios caingangues e o uso do rio como o único meio de transporte viável para escoar a produção.
- (D) A facilidade de irrigação das grandes plantações de morango e a navegação comercial de grandes navios mercantes europeus.

Questão 24. O município de Bom Princípio possui características demográficas e geográficas singulares que definem sua identidade e organização regional. Com uma população atual de cerca de 14 mil habitantes, em qual região e vale o município está geograficamente situado?

- (A) Entre a Grande Porto Alegre e a Serra Gaúcha, no Vale do Rio Caí.
- (B) No extremo sul do estado, no Vale do Arroio Forromeco.
- (C) Na fronteira oeste com a Argentina, no Vale do Rio Mosela.
- (D) No litoral norte do Rio Grande do Sul, no Vale de São Vendelino.

LEGISLAÇÃO

Questão 25. A Lei Orgânica traz que o Vice-Prefeito exercerá as funções de Prefeito nos casos de impedimento deste, bem como as atribuições que lhe forem conferidas por lei, sucedendo-lhe em caso de vaga. A partir disso, analise as partes que seguem: O Presidente da Câmara Municipal não poderá se recusar a assumir o cargo de Prefeito, sob pena de perda de seu cargo legislativo, salvo se do exercício resultar incompatibilidade eleitoral (**1ª parte**), caso em que, sendo candidato a outro cargo eletivo, terá que renunciar ao cargo da Mesa da Câmara, no mesmo prazo fixado em lei para a desincompatibilização (**2ª parte**).

De acordo com as partes, pode-se afirmar que:

- (A) Assim como a 1ª parte está incorreta, tem-se que a 2ª parte também está.
- (B) Enquanto a 1ª parte está correta, sabe-se que a 2ª parte não está.
- (C) Enquanto a 1ª parte está incorreta, sabe-se que a 2ª parte não está.
- (D) Assim como a 1ª parte está correta, tem-se que a 2ª parte também está.

Questão 26. Sabe-se que os bens de uso comum do povo, tais como os rios, as ruas, as praças, os parques municipais e o meio ambiente, circunscritos ao território do Município, constituem-se bens municipais, conforme Lei Orgânica, assim como:

- I. O dinheiro público municipal, o direito e as ações, os títulos de crédito e a dívida ativa.
- II. Os bens de uso dominical, como sendo aqueles de destinação pública.

Acerca das assertivas, pode-se afirmar que:

- (A) Apenas I está correta.
- (B) I e II estão corretas.
- (C) Apenas I está incorreta.
- (D) I e II estão incorretas.

Questão 27. Tem-se que os crimes de responsabilidade do Prefeito e do Vice-Prefeito, bem como o processo de julgamento, são os definidos em lei federal. Nesse sentido, e com base na Lei Orgânica, analise as alternativas que seguem e assinale a que apresenta informação considerada INCORRETA.

- (A) Enquanto não sobrevier sentença condenatória, nas infrações comuns, o Prefeito não estará sujeito a prisão.
- (B) O Prefeito Municipal, na vigência de seu mandato, pode ser responsabilizado por atos estranhos ao exercício de suas funções, visto representar o povo.
- (C) Se dentro de cento e oitenta dias de recebida a denúncia o julgamento não estiver concluído, cessará o afastamento do Prefeito, sem prejuízo do regular prosseguimento do processo.
- (D) O Prefeito Municipal ficará suspenso de suas funções nas infrações penais comuns, se recebida a denúncia pelo Tribunal de Justiça.

Questão 28. Tem-se que os recursos públicos destinados às escolas públicas podem ser dirigidos às escolas comunitárias, confessionais ou filantrópicas, definidas em lei, que, conforme Lei Orgânica:

- I. Assegurem a destinação de seu patrimônio a outra escola comunitária, filantrópica ou confessional, ou ao Poder Público, no caso de encerramento de suas atividades.
- II. Comprovem finalidades não lucrativas e apliquem seus recursos financeiros em educação.

Acerca das assertivas, pode-se afirmar que:

- (A) Apenas I está correta.
- (B) I e II estão corretas.
- (C) Apenas I está incorreta.
- (D) I e II estão incorretas.

Questão 29. Analise o texto a seguir, com base na Lei Orgânica:

A saúde é direito de todos e dever do Município, em consonância com o Estado e a União, garantindo mediante políticas sociais e econômicas que visem à redução do risco de doenças e outros agravos e ao acesso universal e igualitário às ações e serviços para sua promoção, proteção e recuperação.

Acerca do texto, pode-se afirmar que ele está:

- (A) Plenamente adequado, visto que observa a legislação municipal vigente.
- (B) Plenamente inadequado, visto que em nada observa a legislação municipal vigente.
- (C) Parcialmente adequado, visto que as políticas sociais e econômicas devem visar à extinção do risco de doenças e outros agravos.
- (D) Parcialmente adequado, visto que o acesso citado não deve ser igualitário, visto que há diferenças sociais no Município.

Questão 30. A Lei Orgânica traz que um dos canais institucionalizados para a participação das entidades populares representativas será por intermédio do Conselho Municipal da Saúde, que terá caráter consultivo e _____, tendo sua organização, funcionamento e competências estabelecidas em lei específica.

Preenche CORRETAMENTE a lacuna:

- (A) penalizador.
- (B) judicial.
- (C) policial.
- (D) deliberativo.

CONHECIMENTOS ESPECÍFICOS

Questão 31. A sífilis é uma Infecção Sexualmente Transmissível (IST), causada pela bactéria *Treponema pallidum*, exclusiva do ser humano. No tocante a essa temática, assinale a alternativa INCORRETA.

- (A) A sífilis é transmitida principalmente por via sexual, e o contágio é maior nos estágios iniciais da infecção, sendo reduzido gradualmente à medida que ocorre a progressão da doença.
- (B) A sífilis tem um período de incubação longo, precisando de cerca de 3 semanas desde a inoculação até o aparecimento da lesão primária.
- (C) Os principais sintomas da sífilis incluem diarreia e vômitos, podendo estar associados à dor abdominal. Nas formas mais graves, podem ocorrer cãibras, desidratação e choque, sendo a febre uma manifestação incomum.
- (D) O diagnóstico definitivo da sífilis é baseado especialmente em achados sorológicos. Por isso, os exames laboratoriais são de grande valor nos casos assintomáticos.

Questão 32. A equipe de Saúde da Família (eSF) atua em território definido e é responsável pela população, por meio de ações de promoção, prevenção, diagnóstico, tratamento e vigilância em saúde. Nesse sentido, assinale a alternativa que contempla um profissional que faz parte da composição mínima necessária para a implementação de uma equipe de Saúde da Família (eSF).

- (A) Fonoaudiólogo.
- (B) Médico Veterinário.
- (C) Enfermeiro.
- (D) Assistente Social.

Questão 33. O uso de drogas acompanha a história da humanidade em diferentes culturas, contextos e com variados objetivos. Envolve substâncias como álcool, medicamentos e drogas ilícitas, sendo praticado por pessoas de diferentes idades, gêneros e níveis de escolaridade, em diversos ambientes. Considerando o contexto supracitado, analise as assertivas abaixo:

- I. Os homens jovens apresentam muitos problemas de saúde relacionados ao uso de álcool e outras drogas. Tal consumo é frequentemente associado à socialização masculina e à afirmação da masculinidade.
- II. O consumo elevado de álcool é mais frequente em populações vulneráveis. Em áreas rurais, fatores socioeconômicos como baixa renda, desemprego e baixo nível de escolaridade contribuem para o aumento do uso de substâncias.
- III. A Estratégia Saúde da Família (ESF), devido aos seus atributos de primeiro contato, longitudinalidade, coordenação do cuidado e abordagem centrada na família e na comunidade, consegue identificar e abordar precocemente o consumo de álcool como fator de risco para diversos agravos à saúde.

Está(ão) CORRETA(S):

- (A) Apenas I.
- (B) Apenas II.
- (C) Apenas II e III.
- (D) I, II e III.

Questão 34. Instrumento do Ministério da Saúde que apoia o cuidado integral da pessoa idosa, reunindo informações para promoção da saúde, acompanhamento clínico, autocuidado, direitos e prevenção de doenças, disponível gratuitamente em versão digital e impressa.

Qual é o instrumento referido no excerto acima?

- (A) Caderneta da Pessoa Idosa.
- (B) Caderneta da Criança.
- (C) Meu SUS Digital.
- (D) Número de Identificação Social.

Questão 35. A dengue é uma doença infecciosa de grande relevância em saúde pública no Brasil. Sobre os aspectos relacionados à transmissão, vetor, sintomas e profilaxia dessa enfermidade, analise as afirmativas a seguir:

- I. A dengue é transmitida pela picada do mosquito *Aedes aegypti* infectado, sendo esse o principal vetor da doença.
- II. Entre os principais sintomas da dengue estão febre alta, dor no corpo, dor atrás dos olhos e, em alguns casos, manchas vermelhas na pele.
- III. A principal forma de profilaxia da dengue é a vacinação em massa da população, sendo desnecessárias medidas de controle do mosquito vetor.

Está(ão) CORRETA(S):

- (A) Apenas I.
- (B) Apenas I e II.
- (C) Apenas II e III.
- (D) Apenas III.

Questão 36. A vacinação é uma medida importante para a promoção da saúde, a qualidade de vida e o bem-estar de toda a população. Em todas as idades, exerce papel basilar na prevenção de doenças graves, sendo imprescindível que os idosos mantenham o Cartão de Vacinação atualizado, conforme o Calendário Nacional de Vacinação do Idoso. No tocante a esse tema, assinale a alternativa INCORRETA.

- (A) Pessoas que apresentam alguma condição clínica especial ou que possuem outras condições de saúde que as tornam mais vulneráveis devem procurar as Unidades Básicas de Saúde (UBS), não necessitando de avaliação especializada.
- (B) Pessoas com mais de 60 anos apresentam maior risco de complicações relacionadas à coqueluche. A vacinação ou a história prévia de coqueluche durante a infância não confere proteção a longo prazo. Assim sendo, essa vacina está indicada para os adultos e os idosos.
- (C) A vacina contra a febre amarela pode ser recomendada para idosos (pessoas com 60 anos ou mais não vacinadas), quando houver alto risco de exposição e não for possível adiar a imunização, mediante avaliação das condições de saúde e contra-indicações. A recomendação vale para residentes ou viajantes de áreas com transmissão ativa, devendo a vacina ser aplicada pelo menos 10 dias antes da viagem.
- (D) Os idosos apresentam diminuição da imunidade decorrente do prejuízo na proteção por anticorpos, da imunossenescência e de condições crônicas associadas à idade avançada. Por isso, é importante a adesão às vacinas e a redução da hesitação vacinal.

Questão 37. O Brasil está entre os países que mais utilizam agrotóxicos no mundo em suas lavouras e plantações. Essa utilização ocorre tanto em grandes propriedades rurais quanto em atividades desenvolvidas por pequenos produtores e pela agricultura familiar. Com base nessa temática, analise as assertivas abaixo:

- I.** A intoxicação por agrotóxicos pode ocorrer por contato direto ou indireto, como pela contaminação da água, do solo, do ar, dos alimentos ou de vestimentas.
- II.** A notificação das intoxicações por agrotóxicos é obrigatória.
- III.** Um dos cuidados que o Agente Comunitário de Saúde (ACS) deve orientar a população para minimizar os riscos associados a resíduos de agrotóxicos nos alimentos é dar preferência aos alimentos inorgânicos, que foram cultivados com pesticidas sintéticos, ou dar preferência a alimentos ultraprocessados.

Está(ão) CORRETA(S):

- (A) Somente I.
- (B) Somente I e II.
- (C) Somente III.
- (D) I, II e III.

Questão 38. Foi implementada no Prontuário Eletrônico e-SUS APS a funcionalidade de emissão de documento de autorização para retirada de absorventes menstruais, no âmbito do Programa de Dignidade Menstrual, iniciativa federal que garante a distribuição gratuita de absorventes higiênicos a meninas, mulheres e pessoas que menstruam em situação de vulnerabilidade social. Considerando esse tema, julgue as assertivas abaixo:

- I.** A distribuição gratuita de absorventes higiênicos, no âmbito do Programa de Dignidade Menstrual, ocorre mediante o atendimento de determinados critérios.
- II.** No Prontuário Eletrônico e-SUS APS, apenas os Enfermeiros e Técnicos em Enfermagem que utilizam o sistema podem emitir a autorização para a retirada dos absorventes menstruais, de forma prática e integrada às rotinas da Atenção Primária à Saúde (APS).
- III.** Com a integração do Programa Dignidade Menstrual (PDM) ao e-SUS APS, o processo de identificação das pessoas elegíveis e de emissão das autorizações tornou-se mais ágil e acessível diretamente nas Unidades Básicas de Saúde (UBS).

Está(ão) CORRETA(S):

- (A) Apenas I.
- (B) Apenas I e III.
- (C) Apenas II e III.
- (D) I, II e III.

Questão 39. Como se denomina o conjunto de ações e serviços de saúde articulados em níveis de complexidade crescente, cujo objetivo é garantir a integralidade da assistência à saúde?

- (A) Contrato Organizativo da Ação Pública da Saúde.
- (B) Serviços Especiais de Acesso Aberto.
- (C) Portas de Entrada.
- (D) Rede de Atenção à Saúde.

Questão 40. Como são denominados os indicadores utilizados como sanitários indiretos, relevantes para a compreensão dos fatores de risco de determinados agravos, como a taxa de analfabetismo?

- (A) Indicadores nutricionais.
- (B) Indicadores sociais ou socioeconômicos.
- (C) Indicadores ambientais.
- (D) Indicadores de serviços de saúde.