


## MERENDEIRA SERVENTE




**Município de Ibiraiaras/RS**  
Concurso Público 01/2026


### PROVA TEÓRICO-OBJETIVA

 3 horas

20 questões

 4 alternativas

 Saída permitida somente após 1 hora e 30 minutos de prova

 O candidato só poderá levar este Caderno nos últimos 30 minutos para o término do tempo de prova.

### INSTRUÇÕES



Confira se esse Caderno de Prova contém a quantidade de questões indicadas. A substituição deste Caderno de Prova ocorre apenas antes de iniciar a prova.

- ▣ O tempo de prova inclui o preenchimento do Cartão-Resposta.
- ▣ Nenhuma informação acerca do conteúdo das questões será fornecida pelo Fiscal de Sala, pois é parte integrante da prova.
- ▣ Antes de sair da Sala de Prova, entregue o Cartão-Resposta ao Fiscal de Sala, **devidamente assinado**, e, após, se desloque imediatamente para a saída do local de prova.
- ▣ Ao final da prova, os 03 (três) últimos candidatos deverão permanecer na Sala de Prova até que o último termine a sua prova, devendo ambos testemunhar a devolução e o lacre dos documentos.
- ▣ A divulgação do gabarito preliminar se dará conforme Cronograma de Execução do certame.

TODOS OS DIREITOS RESERVADOS AO INSTITUTO LEGALLE. PROIBIDO REPRODUÇÃO.

### RASCUNHO PARA GABARITO

01		06		11		16	
02		07		12		17	
03		08		13		18	
04		09		14		19	
05		10		15		20	

## LÍNGUA PORTUGUESA

Para responder às questões 01 a 03, leia a charge abaixo.



Autor: Duke

**Questão 01.** Na charge, a personagem demonstra forte espanto ao escutar a frase **É ATAQUE CONTRA DEFESA!!!**. A confusão que gera o humor da cena acontece porque a mulher acreditou que o rádio noticiava um conflito armado mundial, mas o homem tentou acalmá-la explicando que, na verdade, ele apenas escutava:

- (A) Um programa humorístico.
- (B) Um filme de ação violento.
- (C) Uma transmissão de partida esportiva.
- (D) Uma briga entre os vizinhos.

**Questão 02.** Na pergunta da personagem, **ONDE O MUNDO VAI PARAR COM ESSAS GUERRAS?**, a palavra **GUERRAS** possui dígrafos (encontros de letras que representam um único som) que exigem atenção na hora da divisão de sílabas. Diante disso, assinale a alternativa que apresenta a separação **CORRETA** dessa palavra.

- (A) GUE - RRAS.
- (B) GU - ER - RAS.
- (C) GUER - RAS.
- (D) G - UER - RAS.

**Questão 03.** Na fala do personagem sentado, **CALMA, É FUTEBOL!**, a palavra **FUTEBOL** é classificada, quanto à posição da sílaba pronunciada com maior intensidade sonora, como uma palavra:

- (A) Proparoxítone, pois a sílaba forte é a antepenúltima.
- (B) Paroxítone, pois a sílaba forte é a penúltima.
- (C) Oxítone, pois a sílaba forte é a última.
- (D) Monossílabo tônico, pois possui apenas uma sílaba forte.

## MATEMÁTICA

**Questão 04.** Um sistema de segurança registra acessos em intervalos fixos. O acesso A ocorre a cada 15 minutos e o acesso B a cada 18 minutos. Ambos foram registrados simultaneamente às 10 horas. Um servidor precisa saber quantas vezes esses acessos ocorrerão ao mesmo tempo novamente até as 14 horas do mesmo dia, excluindo o registro inicial das 10 horas. Diante disso, qual é a contagem **CORRETA** dessas ocorrências simultâneas no intervalo dado?

- (A) 2.
- (B) 1.
- (C) 4.
- (D) 3.

**Questão 05.** Um servidor utiliza um veículo para entregas que consome 1 litro de combustível a cada 12 quilômetros percorridos. Ele precisa realizar um trajeto total de 180 quilômetros. Sabendo que o preço do litro de combustível é de 6 reais e que ele recebeu uma verba de 100 reais para essa finalidade, qual será o valor em dinheiro que sobrá após ele abastecer a quantidade exata necessária para completar apenas esse trajeto?

- (A) R\$ 20,00.
- (B) R\$ 5,00.
- (C) R\$ 10,00.
- (D) R\$ 15,00.

**Questão 06.** Um servidor organizou um cronograma de digitalização de documentos que totaliza 10 horas de trabalho efetivo. Ele planeja realizar essa tarefa em turnos diários de 1 hora e 15 minutos cada. Considerando que ele iniciará o primeiro turno em uma segunda-feira e realizará exatamente um turno por dia, sem interrupções nos finais de semana, em qual dia da semana ele completará a última parte da carga horária total planejada para essa atividade específica?

- (A) Terça-feira.
- (B) Segunda-feira.
- (C) Domingo.
- (D) Sábado.

**UTILIZE ESTE ESPAÇO PARA CÁLCULOS**

**UTILIZE ESTE ESPAÇO PARA CÁLCULOS****CONHECIMENTOS GERAIS/ATUALIDADES**

**Questão 07.** A história de Ibiraiaras tem ligação com suas raízes nativas. A palavra possui origem indígena, sendo a união de "Ibirá" e "Iara" na língua Tupi. Nos registros históricos, qual é o significado CORRETO dessa expressão local?

- (A) Águas Claras.
- (B) Senhores da Mata.
- (C) Rio Dourado.
- (D) Grandes Pedras.

**Questão 08.** O IBGE é o órgão público e oficial responsável por reunir os dados demográficos dos municípios, como o gentílico. Desse modo, a pessoa que nasce no território geográfico e administrativo de Ibiraiaras recebe a seguinte denominação:

- (A) Ibiraense.
- (B) Ibiraiarano.
- (C) Ibiraiarense.
- (D) Ibirano.

**Questão 09.** Com a emancipação de Ibiraiaras e a gestão de um interventor, a cidade precisava escolher uma nova liderança. Desse modo, no ano de 1968, quem assumiu o cargo do Executivo e se sagrou o primeiro Prefeito eleito da história do novo município?

- (A) João Stella.
- (B) Valdomiro Zatti.
- (C) Egidio Paggiarin.
- (D) Douglas Rossoni.

**LEGISLAÇÃO**

**Questão 10.** Analise as partes que seguem, conforme a Lei Orgânica: O Município de Ibiraiaras é parte integrante da República Federativa do Brasil e do Estado do Rio Grande do Sul, e organiza-se autônomo em tudo que respeite a seu peculiar interesse (**1ª parte**), regendo-se pela Lei Orgânica e demais leis que adotar, respeitados os princípios estabelecidos nas Constituições Federal e Estadual e sob a proteção de Deus (**2ª parte**).

Acerca das partes, pode-se afirmar que:

- (A) Enquanto a 1ª parte está correta, sabe-se que a 2ª parte não está.
- (B) Assim como a 1ª parte está correta, tem-se que a 2ª parte também está.
- (C) Enquanto a 1ª parte está incorreta, sabe-se que a 2ª parte não está.
- (D) Assim como a 1ª parte está incorreta, tem-se que a 2ª parte também está.

**Questão 11.** São algumas as formas pelas quais a autonomia do Município se expressa. Nesse sentido, e observando o que determina a Lei Orgânica, analise as alternativas que seguem, com formas de expressão dessa autonomia, e assinale a que apresenta informação considerada INCORRETA.

- (A) Pela administração própria, no que diz respeito a seu peculiar interesse.
- (B) Pela eleição direta dos Vereadores, que compõem o Poder Legislativo Municipal.
- (C) Pela eleição direta dos Juizes das comarcas locais, que compõem o Poder Judiciário Municipal.
- (D) Pela eleição direta do Prefeito e do Vice-Prefeito que compõem o Poder Executivo Municipal.

**Questão 12.** As alternativas que seguem abordam o exercício de função de confiança, com base no que apresenta o Regime Jurídico dos Servidores Públicos do Município. Diante disso, analise essas alternativas e assinale a que apresenta informação que pode ser considerada como INCORRETA.

- (A) A designação para o exercício da função gratificada, independentemente de ser cumulativa com o cargo em comissão, será feita por ato expresso da autoridade competente.
- (B) A função de confiança a ser exercida exclusivamente por servidor público efetivo poderá ocorrer sob a forma de função gratificada.
- (C) O valor da função gratificada será percebido cumulativamente com o vencimento do cargo de provimento efetivo.
- (D) Será tornada sem efeito a designação do servidor que não entrar no exercício da função gratificada no prazo de dois dias a contar da publicação do ato de investidura.

**Questão 13.** O Regime Jurídico dos Servidores Públicos do Município traz que dar-se-á a substituição de titular de cargo em comissão ou de função gratificada durante o seu impedimento legal. Também pode ser afirmado que:

- I. O substituto fará jus ao vencimento do cargo em comissão ou do valor da função gratificada, se a substituição ocorrer por prazo superior a três dias.
- II. Poderá ser organizada e publicada no mês de fevereiro a relação de substitutos para o ano todo.

Acerca das assertivas, pode-se afirmar que:

- (A) Apenas I está correta.
- (B) I e II estão corretas.
- (C) Apenas I está incorreta.
- (D) I e II estão incorretas.

### CONHECIMENTOS ESPECÍFICOS

**Questão 14.** Para manter a higiene ambiental da cozinha, equipamentos como o fogão e o liquidificador devem ser limpos e desinfetados regularmente seguindo passos específicos de higienização das partes fixas e móveis. Em relação a isso, analise as afirmativas a seguir:

- I. As partes fixas do fogão devem ser desinfetadas borrifando solução de álcool 70%.
- II. O liquidificador deve ter suas partes móveis lavadas e desinfetadas com álcool 70%.
- III. Equipamentos devem ser guardados úmidos para acelerar o uso no dia seguinte.

Está CORRETO o que se afirma em:

- (A) Apenas I.
- (B) Apenas II.
- (C) Apenas I e II.
- (D) I, II e III.

**Questão 15.** Sobre o preparo e a conservação de ovos na alimentação escolar, considere as informações técnicas sobre armazenamento e sinais de cozimento excessivo. Considerando isso, analise as assertivas abaixo e julgue-as em Verdadeiras (V) ou Falsas (F):

- ( ) Ovos devem ser lavados com sabão imediatamente antes de serem guardados na geladeira.
- ( ) Quando a gema fica com cor esverdeada, é sinal de que o ovo foi cozido além do necessário.
- ( ) Os ovos devem ser armazenados na geladeira em recipientes fechados após retirados da caixa.

Qual alternativa preenche, CORRETAMENTE, de cima para baixo, os parênteses acima?

- (A) V – V – F.
- (B) F – V – V.
- (C) V – F – V.
- (D) F – F – V.

**Questão 16.** A higienização das mãos é o protocolo mais importante para evitar a contaminação de alimentos. Segundo as boas práticas de manipulação, o manipulador deve secar as mãos de forma específica para garantir a higiene completa do processo. Durante a higienização, deve-se secar as mãos com papel toalha \_\_\_\_\_, iniciando pelas mãos e seguindo pelos \_\_\_\_\_.

Preenche, CORRETA e respectivamente, as lacunas:

- (A) higienizado – braços.
- (B) descartável – punhos.
- (C) de pano – cotovelos.
- (D) reciclado – dedos.

**Questão 17.** Durante a utilização de óleos e gorduras no preparo da merenda escolar, a Merendeira deve estar atenta a sinais de alteração do produto, pois o uso prolongado pode formar substâncias tóxicas. Com base nisso, assinale a alternativa CORRETA.

- (A) A formação de espuma e fumaça indica que o óleo deve ser trocado imediatamente.
- (B) O óleo deve ser trocado apenas quando a cor ficar totalmente preta.
- (C) É permitido misturar óleo velho com óleo novo para economizar recursos.
- (D) O cheiro do óleo não interfere na qualidade nutricional do alimento frito.

**Questão 18.** O cardápio da alimentação escolar deve seguir restrições quanto ao uso de açúcares para crianças pequenas, visando a formação de hábitos saudáveis e a prevenção de doenças no futuro. Em relação a isso, é CORRETO afirmar que:

- (A) A oferta de açúcar, mel ou adoçantes é proibida para crianças de até 3 anos de idade.
- (B) É permitido oferecer mel para crianças menores de um ano como substituto do açúcar.
- (C) Sucos industrializados adoçados podem ser servidos diariamente nas creches.
- (D) O açúcar cristal deve ser a base de todas as preparações de frutas para bebês.

**Questão 19.** No preparo de receitas para a alimentação escolar, a padronização das porções é fundamental para garantir o aporte nutricional correto aos alunos. Se uma escola atende 100 estudantes e o peso de arroz cru previsto para cada um é de 40 gramas, a quantidade total a ser preparada deve ser calculada. Com base nisso, é CORRETO afirmar que:

- (A) A Merendeira deverá preparar 400 gramas de arroz.
- (B) Devem ser utilizados 40 kg de arroz para atender a demanda.
- (C) O peso total de arroz para os 100 alunos será de 400 kg.
- (D) A quantidade final de arroz cru a ser preparada será de 4 kg.

**Questão 20.** A técnica de cozimento dos alimentos na escola deve seguir orientações de tempo e segurança. Em relação a isso, analise as partes a seguir:

*O processo de cocção do peixe ou do peito de frango deve durar aproximadamente 15 minutos em água aquecida (**1ª parte**). Após esse tempo, o fogo deve ser desligado para que o manipulador possa desfiar o alimento e remover espinhas ou ossos (**2ª parte**).*

Sobre as partes, pode-se afirmar que:

- (A) Apenas a 1ª parte está correta.
- (B) Ambas as partes estão incorretas.
- (C) Ambas as partes estão corretas.
- (D) Apenas a 2ª parte está correta.