



## ORIENTADOR SOCIAL




**Município de Ibiraiaras/RS**  
Concurso Público 01/2026


### PROVA TEÓRICO-OBJETIVA

 3 horas

40 questões

 4 alternativas

 Saída permitida somente após 1 hora e 30 minutos de prova

 O candidato só poderá levar este Caderno nos últimos 30 minutos para o término do tempo de prova.

### INSTRUÇÕES



Confira se esse Caderno de Prova contém a quantidade de questões indicadas. A substituição deste Caderno de Prova ocorre apenas antes de iniciar a prova.

- O tempo de prova inclui o preenchimento do Cartão-Resposta.
- Nenhuma informação acerca do conteúdo das questões será fornecida pelo Fiscal de Sala, pois é parte integrante da prova.
- Antes de sair da Sala de Prova, entregue o Cartão-Resposta ao Fiscal de Sala, **devidamente assinado**, e, após, se desloque imediatamente para a saída do local de prova.
- Ao final da prova, os 03 (três) últimos candidatos deverão permanecer na Sala de Prova até que o último termine a sua prova, devendo ambos testemunhar a devolução e o lacre dos documentos.
- A divulgação do gabarito preliminar se dará conforme Cronograma de Execução do certame.

TODOS OS DIREITOS RESERVADOS AO INSTITUTO LEGALLE. PROIBIDO REPRODUÇÃO.

### RASCUNHO PARA GABARITO

01		06		11		16		21		26		31		36	
02		07		12		17		22		27		32		37	
03		08		13		18		23		28		33		38	
04		09		14		19		24		29		34		39	
05		10		15		20		25		30		35		40	

Para responder às questões 01 a 10, leia o texto abaixo.

### **Governo do Estado apresenta balanço do turismo no Rio Grande do Sul e destaca crescimento acima do dobro da média nacional**

O governo do Estado, por meio da Secretaria de Turismo, apresentou as principais entregas e indicadores do setor consolidados desde 2021. Durante encontro no Parque Maurício Sirotsky Sobrinho, em Porto Alegre, com a presença de empresários, profissionais da área, autoridades públicas e representantes do terceiro setor, a Pasta fez uma retrospectiva de como o segmento reagiu a duas grandes crises recentes: a pandemia de Covid-19 e as enchentes de 2024.

“Encerramos 2025 com resultados muito positivos, consolidando o Rio Grande do Sul como um dos destinos que mais cresceram no país, com desempenho acima da média nacional. Para 2026, avançaremos ainda mais na qualificação, promoção e inteligência do turismo, com foco em atrair mais visitantes, gerar oportunidades e fortalecer o setor em todas as regiões do estado”, destacou o secretário.

Durante a reunião, o secretário lembrou que o Rio Grande do Sul registrou crescimento de 11,4% na atividade turística no acumulado de 2025, um índice que representa mais do que o dobro da média nacional (4,6%), segundo o Índice de Atividades Turísticas (Iatur) do IBGE. O desempenho colocou o Estado como o segundo que mais cresceu no país no período, consolidando o turismo como um dos principais vetores de desenvolvimento econômico local.

O resultado é atribuído a uma estratégia estruturada de promoção e posicionamento de mercado. Ao longo de 2025, a Secretaria de Turismo (Setur) realizou 190 ações promocionais, com um investimento superior a R\$ 60 milhões. O montante englobou campanhas nacionais, ativações regionais e a presença gaúcha em feiras e eventos estratégicos. Iniciativas como o “Viva o Verão Gaúcho” e “Viva o Inverno Gaúcho” integraram o esforço contínuo de reposicionamento mercadológico do destino no cenário nacional.

Outro indicador de evolução evidenciado no balanço foi a expansão da conectividade do Estado com o Brasil e o mundo. A malha aérea gaúcha contará com quatro frequências semanais para Lisboa, em Portugal, a partir de julho deste ano. Além da rota europeia, também foram destacados os recentes reforços nas operações para destinos de grande emissão de turistas, como Buenos Aires, Belo Horizonte e Florianópolis.

A interiorização do turismo e a criação de novas rotas no campo também pautaram as entregas da pasta. O Estado tornou-se pioneiro em uma política nacional de estímulo ao turismo rural a partir da assinatura da portaria

que regulamentou a inclusão de agricultores familiares e produtores rurais no Cadastur. A medida representa um marco histórico e coloca o RS como projeto-piloto da iniciativa no Brasil.

Ao projetar o futuro da atividade no Estado, o secretário reforçou a capilaridade das vocações turísticas gaúchas. Ele pontuou que o trabalho de fomento e estruturação tem muito espaço para avançar, ressaltando que todos os municípios do Rio Grande do Sul possuem atrativos turísticos com potencial para serem trabalhados. O objetivo central prossegue sendo transformar essas potencialidades locais em produtos consolidados, garantindo emprego e renda em todas as regiões.

**Adaptado de:** <https://www.estado.rs.gov.br/governo-do-estado-apresenta-balanco-do-turismo-no-rio-grande-do-sul-e-destaca-crescimento-acima-do-dobro-da-media-nacional>.

**Questão 01.** A tese central do texto sustenta-se na ideia de que o crescimento do turismo no Rio Grande do Sul:

- (A) Decorre da priorização exclusiva do turismo internacional em detrimento do mercado interno.
- (B) Decorre predominantemente de fatores externos, como a recuperação global pós-pandemia.
- (C) Resulta de políticas públicas estruturadas, combinadas com capacidade de reação a crises.
- (D) Evidencia uma recuperação parcial, ainda abaixo do potencial histórico do Estado.

**Questão 02.** Considerando o caráter institucional do texto, é CORRETO afirmar que ele:

- (A) Enfatiza limitações estruturais do turismo, utilizando dados positivos como contraponto argumentativo.
- (B) Adota perspectiva analítica crítica, questionando a efetividade das políticas públicas implementadas.
- (C) Apresenta abordagem predominantemente neutra, limitando-se à exposição de dados técnicos.
- (D) Articula dados e ações com finalidade de legitimar e valorizar a atuação governamental no setor.

**Questão 03.** Com base na análise das ideias e estratégias argumentativas apresentadas no texto, analise as assertivas:

- I. A menção às crises recentes contribui para reforçar a ideia de resiliência do setor turístico no Estado.
- II. O texto afirma que o Estado ocupou a liderança no crescimento turístico nacional no ano de 2025.
- III. O investimento em ações promocionais é apresentado como elemento relevante na estratégia de fortalecimento do turismo.

Está CORRETO o que se afirma em:

- (A) I, apenas.
- (B) II e III, apenas.
- (C) I e III, apenas.
- (D) I, II e III.

**Questão 04.** A projeção governamental apresentada no texto revela uma concepção de política pública baseada:

- (A) Na concentração de investimentos em regiões já consolidadas, com abandono de áreas emergentes.
- (B) Na ampliação incremental de ações já estruturadas, com reforço de sua capacidade de impacto.
- (C) Na ruptura com estratégias anteriores, priorizando novas diretrizes ainda não testadas.
- (D) Na dependência de variáveis externas, especialmente do fluxo turístico internacional.

**Questão 05.** No contexto das diretrizes apresentadas no texto, o conceito de **interiorização do turismo** traduz uma orientação estratégica que se caracteriza por:

- (A) Incentivar o desenvolvimento turístico de forma espontânea no interior, com mínima intervenção estatal.
- (B) Pressupor a transferência compulsória dos fluxos turísticos dos grandes centros para o interior.
- (C) Promover a desconcentração espacial da atividade turística, com incorporação de novas regiões.
- (D) Promover a homogeneização das ofertas turísticas regionais, eliminando especificidades locais.

**Questão 06.** Considerando a leitura e a compreensão do texto, analise as partes que seguem quanto à correção de seus conteúdos interpretativos:

*(1ª parte): A ampliação da malha aérea é apresentada como fator exclusivo e determinante do crescimento do turismo no Estado.*

*(2ª parte): Os dados estatísticos funcionam como suporte argumentativo para reforçar a credibilidade das informações apresentadas.*

*(3ª parte): O texto apresenta linguagem predominantemente conotativa, típica de textos informativos.*

Pode-se afirmar que:

- (A) Apenas a 2ª parte está correta.
- (B) Apenas a 2ª e a 3ª partes estão corretas.
- (C) Apenas a 1ª e a 2ª partes estão corretas.
- (D) Todas as partes estão corretas.

**Questão 07.** Considerando o trecho **o secretário reforçou a capilaridade das vocações turísticas gaúchas**, no último parágrafo do texto, assinale a opção que MELHOR EXPRESSA o sentido do termo **capilaridade** no contexto.

- (A) Concentração planejada das atividades turísticas em eixos estratégicos de maior retorno econômico.
- (B) Polarização das atividades turísticas em centros urbanos com maior visibilidade nacional e internacional.
- (C) Restrição do desenvolvimento turístico a localidades com infraestrutura previamente consolidada.
- (D) Distribuição ampla e disseminada das potencialidades turísticas pelo território estadual.

**Questão 08.** À luz dos mecanismos de coesão textual, das regras de pontuação e dos princípios de concordância verbal, analise as partes que seguem:

*(1ª parte): No primeiro parágrafo, a utilização de **a Pasta** configura coesão por elipse, pois omite o termo **Secretaria de Turismo**, exigindo sua recuperação pelo contexto.*

*(2ª parte): No primeiro parágrafo, a substituição dos dois-pontos por travessão é gramaticalmente possível, sem prejuízo da correção, embora implique alteração de efeito estilístico.*

*(3ª parte): Na frase **A interiorização do turismo e a criação de novas rotas no campo também pautaram as entregas da pasta**, a concordância verbal em **pautaram** ocorre no plural em razão da presença de sujeito composto.*

Pode-se afirmar que:

- (A) Apenas a 2ª parte está correta.
- (B) Apenas a 2ª e a 3ª partes estão corretas.
- (C) Apenas a 1ª e a 2ª partes estão corretas.
- (D) Todas as partes estão corretas.

**Questão 09.** Considere a frase extraída do texto e analise as assertivas a seguir, à luz dos conhecimentos de sintaxe e fonética da Língua Portuguesa:

**A medida representa um marco histórico e coloca o RS como projeto-piloto da iniciativa no Brasil.**

- I. O vocábulo **histórico** apresenta correspondência exata entre o número de letras e o número de fonemas.
- II. As formas verbais **representa** e **coloca** encontram-se conjugadas no presente do indicativo.
- III. O segmento **um marco histórico** exerce a função de objeto indireto do verbo **representa**.

Está CORRETO o que se afirma em:

- (A) II, apenas.
- (B) II e III, apenas.
- (C) I e II, apenas.
- (D) I, II e III.

**Questão 10.** Considerando a classificação de palavras, a estrutura dos vocábulos, as conjugações verbais e a acentuação das palavras, assinale a alternativa que apresenta uma análise INCORRETA.

- (A) Na expressão **desde 2021**, presente na primeira frase do texto, o termo **desde** classifica-se como preposição.
- (B) Os verbos **projetar**, **fortalecer** e **atrair** pertencem, respectivamente, à 1ª, 2ª e 3ª conjugações verbais.
- (C) Na palavra **mund**o, o segmento sublinhado corresponde ao radical; já na palavra **avançar**, o segmento sublinhado corresponde à vogal temática.
- (D) As palavras **turística**, **atribuído** e **inteligência** são todas classificadas como proparoxítonas.

## MATEMÁTICA

**Questão 11.** Em uma avaliação de desempenho, a média aritmética das notas de 4 critérios foi 7,5. Se as notas dos três primeiros critérios foram 8, 7 e 6, qual foi a nota obtida no quarto critério para que a média final do servidor fosse exatamente o valor registrado? Considere que todos os critérios possuem o mesmo peso na composição da nota final e que não houve arredondamentos intermediários no cálculo da média informada.

- (A) 9.
- (B) 10.
- (C) 7.
- (D) 8.

**Questão 12.** Um técnico em informática notou que o número de chamados abertos dobra a cada hora durante um incidente crítico. Se na primeira hora foram registrados 3 chamados, quantos chamados acumulados (total de todos os períodos) terão sido registrados ao final da sexta hora de monitoramento ininterrupto? Considere que nenhum chamado foi encerrado durante esse intervalo e que a progressão geométrica se manteve estável conforme o padrão observado inicialmente.

- (A) 120.
- (B) 192.
- (C) 96.
- (D) 189.

**Questão 13.** Um almoxarifado tem o formato de um trapézio retângulo. A base maior mede 15 metros, a base menor mede 9 metros e a profundidade (altura do trapézio) é de 8 metros. O gestor pretende aplicar uma camada de resina no piso que custa R\$ 120,00 por metro quadrado. Com base nisso, qual será o investimento total necessário para cobrir toda a área desse almoxarifado? Considere a superfície plana e sem obstáculos para o cálculo exato da metragem quadrada.

- (A) R\$ 10.800,00.
- (B) R\$ 11.520,00.
- (C) R\$ 12.000,00.
- (D) R\$ 23.040,00.

**Questão 14.** Em um processo seletivo interno, as notas de 5 candidatos foram: 7, 8, 5, 9 e 6. Para o desempate, decidiu-se aplicar pesos diferentes: a maior e a menor nota teriam peso 1, enquanto as outras três notas teriam peso 2. Assim, qual é a média aritmética ponderada resultante desse cálculo para este conjunto de candidatos? Considere que a ordem dos pesos segue estritamente a magnitude das notas conforme descrito na regra de desempate estabelecida.

- (A) 7,5.
- (B) 6,8.
- (C) 7.
- (D) 7,25.

**Questão 15.** Um arquivo metálico para documentos consome um espaço quadrado de 0,64 metros quadrados no chão de uma sala. O servidor responsável pela logística precisa alinhar 5 desses arquivos encostados uns aos outros em uma única fileira reta. Nesse sentido, qual será o comprimento total, em metros, dessa fileira de arquivos, considerando que as bases são quadrados perfeitos e que não há espaçamento entre os equipamentos instalados no local?

- (A) 3,2 metros.
- (B) 4,0 metros.
- (C) 5,0 metros.
- (D) 4,5 metros.

UTILIZE ESTE ESPAÇO PARA CÁLCULOS

## INFORMÁTICA

**Questão 16.** No Microsoft Word 365, o recurso **Localizar** permite pesquisar palavras, expressões ou padrões de texto ao longo de todo o documento. Com base nesse recurso, assinale a alternativa INCORRETA.

- (A) Ao acionar o recurso, o Word exibe um painel de navegação com os resultados organizados em lista.
- (B) O painel de navegação permite alternar entre resultados da busca, títulos e páginas do documento.
- (C) As ocorrências encontradas são destacadas no corpo do texto, facilitando sua identificação visual.
- (D) O comando pode ser acessado pela guia **Referências** e pelo atalho de teclado **Ctrl + L**.

**Questão 17.** Um servidor está elaborando uma cartilha no Microsoft Word 365 e decidiu utilizar o recurso **Inserir > Ícones** para representar visualmente determinadas informações. Após inserir um ícone no documento, passou a explorar as ferramentas de formatação disponíveis na Faixa de Opções. Considerando os recursos de formatação aplicáveis ao ícone, analise as assertivas a seguir:

- I. As opções de alinhamento padrão, como centralizar e justificar, não se aplicam ao ícone inserido.
- II. Na guia **Gráfico de Formato**, é possível converter o ícone em forma, permitindo edições adicionais.
- III. É possível alterar a cor de preenchimento do ícone por meio das opções de formatação gráfica.

Está CORRETO o que se afirma em:

- (A) II, apenas.
- (B) II e III, apenas.
- (C) I e III, apenas.
- (D) I, II e III.

**Questão 18.** No navegador Google Chrome, as extensões são recursos que permitem ampliar e personalizar as funcionalidades disponíveis ao usuário, podendo ser gerenciadas diretamente na interface do navegador. Com base nesse contexto, analise as assertivas que seguem, julgando-as V, se Verdadeiras, ou F, se Falsas:

- ( ) O ícone de “peça de quebra-cabeça” no Chrome centraliza o acesso às extensões instaladas.
- ( ) O Google Chrome permite a instalação de apenas uma extensão por perfil de usuário.
- ( ) Extensões podem ser ativadas ou desativadas sem necessidade de desinstalação.

Qual alternativa preenche, CORRETAMENTE, de cima para baixo, os parênteses acima?

- (A) V – F – F.
- (B) F – V – V.
- (C) V – F – V.
- (D) V – V – V.

**Questão 19.** Durante a organização de documentos institucionais no Windows 11, um servidor público decide criar uma estrutura de pastas para classificar demandas da população por período. Nesse sentido, tenta nomear uma pasta com o seguinte nome:

### Demandas > Populacao\_2025+2026

Considerando as regras do Windows para nomeação de arquivos e pastas, pode-se afirmar que:

- (A) A pasta será criada normalmente, pois todos os caracteres utilizados são permitidos pelo sistema.
- (B) A criação da pasta não será permitida, em razão da grafia inadequada da palavra *Populacao*.
- (C) O nome contém caractere não permitido pelo sistema, especificamente o símbolo >.
- (D) Todos os símbolos presentes no nome ( > \_ + ) são considerados inválidos pelo sistema.

**Questão 20.** No sistema operacional Windows 11, diferentes elementos da interface — como a Tela de Bloqueio, o menu Iniciar e a Área de Trabalho — apresentam funcionalidades específicas relacionadas ao acesso, à organização e à navegação do usuário. Com base nessas características, analise as partes que seguem:

**(1ª parte):** Após a Tela de Bloqueio, o sistema exibe a tela de login para autenticação do usuário.

**(2ª parte):** No Menu Iniciar, a seção *Recomendações* exibe arquivos recentes abertos no dispositivo.

**(3ª parte):** Os itens exibidos na Área de Trabalho correspondem, em grande parte, ao conteúdo da pasta *Bibliotecas do perfil do usuário*.

Pode-se afirmar que:

- (A) Apenas a 1ª parte está correta.
- (B) Apenas a 1ª e a 2ª partes estão corretas.
- (C) Apenas a 2ª e a 3ª partes estão corretas.
- (D) Todas as partes estão corretas.

## LEGISLAÇÃO

**Questão 21.** Analise as partes que seguem, com base na Lei Orgânica:

*Os recursos que, em decorrência do veto, emenda ou rejeição do projeto de Lei Orçamentária Anual, ficarem sem despesas correspondentes, poderão ser utilizados, conforme o caso (1ª parte), mediante créditos especiais ou suplementares, com prévia e específica autorização legislativa (2ª parte).*

Acerca das partes, pode-se afirmar que:

- (A) Assim como a 1ª parte está incorreta, tem-se que a 2ª parte também está.
- (B) Enquanto a 1ª parte está correta, sabe-se que a 2ª parte não está.
- (C) Assim como a 1ª parte está correta, tem-se que a 2ª parte também está.
- (D) Enquanto a 1ª parte está incorreta, sabe-se que a 2ª parte não está.

**Questão 22.** De acordo com o Regime Jurídico dos Servidores Públicos do Município, quantos dos seguintes itens trazem afastamentos que são considerados como de efetivo exercício? **I.** Licença para tratamento de saúde de pessoa da família, desde que não remunerada; **II.** Participação em programas de treinamento regularmente instituídos e correlacionados às atribuições do cargo; **III.** Desempenho de mandato eletivo Federal, Estadual, Distrital ou Municipal.

- (A) Nenhum deles.
- (B) Apenas 1 deles.
- (C) Apenas 2 deles.
- (D) Todos os 3.

**Questão 23.** Afirma-se que é vedado o início de programas ou projetos não incluídos na lei orçamentária anual, assim como:

- I.** A realização de despesas ou assunção de obrigações diretas que excedam os créditos orçamentários ou adicionais.
- II.** A transposição, o remanejamento ou transferência de recursos de uma categoria de programação para outra, ou de órgão para outro, mesmo com autorização legislativa.

Acerca das assertivas, com base na Lei Orgânica, pode-se afirmar que:

- (A) Apenas I está correta.
- (B) I e II estão incorretas.
- (C) Apenas I está incorreta.
- (D) I e II estão corretas.

**Questão 24.** O Regime Jurídico dos Servidores Públicos do Município determina que podem ser concedidas algumas licenças ao servidor ocupante de cargo efetivo. Nesse sentido, qual das alternativas a seguir apresenta informação que pode ser considerada INCORRETA?

- (A) O servidor terá direito a licença remunerada, com vencimentos integrais, para candidatar-se a cargo eletivo, no período compreendido entre a data do registro de sua candidatura perante a Justiça Eleitoral e cinco dias após a data do pleito.
- (B) Ao servidor ocupante de cargo efetivo que for convocado para o serviço militar ou outros encargos de segurança nacional, será concedida licença remunerada.
- (C) A critério da administração, poderá ser concedida ao servidor estável licença para tratar de interesses particulares, pelo prazo de até dois anos consecutivos, sem remuneração.
- (D) É assegurado ao servidor o direito a licença para desempenho de mandato de presidente em confederação, federação ou sindicato representativo da categoria, com remuneração.

**Questão 25.** Sabe-se que na organização de sua economia, em cumprimento do que estabelecem a Constituição Federal e a Constituição Estadual, o Município zelará por princípios como promoção do bem-estar do homem com o fim essencial da produção e, do desenvolvimento econômico. A partir dessa premissa, e considerando a Lei Orgânica, analise as alternativas e assinale a que apresenta informação INCORRETA.

- (A) O Município organizará sistemas e programas de prevenção e socorro nos casos de calamidade pública em que a população tem ameaçados os seus recursos, meios de abastecimento ou sobrevivência.
- (B) Os investimentos do Município atenderão, em caráter prioritário às necessidades básicas da população, e deverão estar compatibilizados com o plano de desenvolvimento econômico.
- (C) A intervenção do Município no domínio econômico dar-se-á por meios previstos em lei, para orientar e estimular a produção, garantir distorções da atividade econômica e prevenir abusos do poder econômico.
- (D) O Plano Plurianual do Município e seu orçamento anual contemplarão expressamente recursos destinados ao desenvolvimento de uma política habitacional de interesse social, compatível com os programas estaduais dessa área.

**Questão 26.** Através da Lei Orgânica, na elaboração de planejamento e na ordenação de uso, atividades e funções de interesse social, o Município visará o previsto, por exemplo, em quantos dos seguintes itens? **I.** Distribuir os benefícios e encargos do processo de desenvolvimento do Município, inibindo a especulação imobiliária, os vazios urbanos e a excessiva concentração urbana; **II.** Promover a definição e a realização da função social da propriedade urbana; **III.** Promover o desenvolvimento econômico local.

- (A) Nenhum deles.
- (B) Apenas 1 deles.
- (C) Apenas 2 deles.
- (D) Todos os 3.

**Questão 27.** De acordo com o Regime Jurídico dos Servidores Públicos do Município, após cada período de doze meses de vigência da relação entre o Município e o servidor, terá este direito a férias, na seguinte proporção. Considere dois servidores, sendo que o primeiro teve três faltas, e o segundo, seis faltas, no período aquisitivo de férias. Nesse sentido, qual das alternativas apresenta a quantidade de dias de férias permitida para esses servidores, respectivamente?

- (A) 30 dias corridos; 24 dias corridos.
- (B) 24 dias corridos; 24 dias corridos.
- (C) 24 dias corridos; 18 dias corridos.
- (D) 18 dias corridos; 18 dias corridos.

## CONHECIMENTOS ESPECÍFICOS

**Questão 28.** Conforme o Regime Jurídico dos Servidores Públicos do Município, é proibido ao servidor qualquer ação ou omissão capaz de comprometer a dignidade e o decoro da função pública, ferir a disciplina e a hierarquia, prejudicar a eficiência do serviço ou causar dano à Administração Pública, especialmente, por exemplo:

- I. Atuar, como procurador ou intermediário, junto a repartições públicas, salvo quando se tratar de benefícios previdenciários ou assistenciais de parentes até o terceiro grau.
- II. Cometer a outro servidor atribuições estranhas às do cargo que ocupa, exceto em situações de emergência e transitórias.

Acerca das assertivas, pode-se afirmar que:

- (A) Apenas I está correta.
- (B) I e II estão corretas.
- (C) Apenas I está incorreta.
- (D) I e II estão incorretas.

**Questão 29.** Analise as partes que seguem, conforme o Regime Jurídico dos Servidores Públicos do Município:

*É obrigatória a concessão e gozo as férias, em um só período, nos dez meses subsequentes à data em que o servidor tiver adquirido o direito (1ª parte); vencido esse prazo, sem que a Administração tenha concedido as férias, incumbirá ao servidor, no prazo de dez dias, requerer o gozo de férias, sob pena de perda do direito às mesmas (2ª parte).*

Acerca das partes, pode-se afirmar que:

- (A) Assim como a 1ª parte está incorreta, tem-se que a 2ª parte também está.
- (B) Enquanto a 1ª parte está correta, sabe-se que a 2ª parte não está.
- (C) Enquanto a 1ª parte está incorreta, sabe-se que a 2ª parte não está.
- (D) Assim como a 1ª parte está correta, tem-se que a 2ª parte também está.

**Questão 30.** Conforme traz a Lei Orgânica, acerca dos orçamentos, a transparência durante os processos de elaboração e de discussão do plano plurianual, lei de diretrizes orçamentárias e lei orçamentária anual, será assegurada também mediante incentivo à participação popular e realização de:

- (A) Plebiscitos.
- (B) Ações públicas civis.
- (C) Audiências públicas.
- (D) Referendos.

**Questão 31.** De acordo com a Política Nacional de Assistência Social e com a Norma Operacional Básica do Sistema Único de Assistência Social (SUAS), analise as assertivas a seguir:

- I. O território passa a assumir papel central na definição, no planejamento e na execução de serviços, programas, projetos e benefícios da assistência social, permitindo a organização das ações a partir das realidades sociais locais.
- II. A organização da assistência social no SUAS estrutura-se de forma hierarquizada e complementar entre proteção social básica e proteção social especial de média e alta complexidade, estabelecendo referências institucionais para o atendimento a famílias e indivíduos.
- III. O SUAS reconhece que sua principal tecnologia política está no conjunto de trabalhadores da assistência social, valorizando a qualificação, a organização e a atuação dos recursos humanos no sistema.
- IV. A implementação do SUAS alterou a lógica de transferência de recursos para estados, Distrito Federal e municípios, passando a considerar diferenças territoriais e a capacidade de gestão dos entes federados.

Estão CORRETAS:

- (A) I e III, apenas.
- (B) I, II e III, apenas.
- (C) II, III e IV, apenas.
- (D) I, II, III e IV.

**Questão 32.** Uma mulher relata em um serviço de proteção que sofre agressões psicológicas e ameaças constantes por parte de um ex-companheiro com quem manteve relacionamento afetivo, embora atualmente não convivam mais na mesma residência.

De acordo com a Lei Maria da Penha, é CORRETO afirmar que a situação descrita configura:

- (A) Conflito familiar de natureza privada, que não se enquadra como violência doméstica por não haver convivência atual entre agressor e vítima.
- (B) Violência doméstica e familiar contra a mulher, pois a lei reconhece que a agressão pode ocorrer em qualquer relação íntima de afeto, mesmo que não exista coabitação entre agressor e ofendida.
- (C) Situação de violência reconhecida apenas quando ocorre no interior da residência comum do casal.
- (D) Ato que somente será considerado violência doméstica se houver comprovação de lesão física.

**Questão 33.** De acordo com as orientações para a organização e funcionamento do Centro de Referência de Assistência Social (CRAS), no âmbito do Sistema Único de Assistência Social (SUAS), analise as assertivas a seguir:

- I. A organização do espaço físico do CRAS deve considerar a diversidade do público atendido, respeitando as especificidades de diferentes ciclos de vida, como crianças, adolescentes, jovens, adultos e idosos.
- II. A adequação do ambiente físico da unidade socioassistencial busca garantir que nenhum usuário se sinta excluído ou deslocado em razão das características do espaço institucional.
- III. A presença de mobiliários apropriados para crianças, brinquedos e elementos visuais que representem diferentes ciclos de vida constitui estratégia de acolhimento e humanização do atendimento.
- IV. A organização do espaço físico do CRAS deve priorizar exclusivamente o atendimento técnico aos adultos responsáveis pelas famílias, sendo dispensável a adaptação do ambiente para outros membros familiares.

Estão CORRETAS:

- (A) I e II, apenas.
- (B) I, II e III, apenas.
- (C) II e IV, apenas.
- (D) I, II, III e IV.

**Questão 34.** Acerca da Política Nacional de Assistência Social, especialmente no que se refere à segurança de vivência familiar e comunitária, analise as assertivas a seguir, julgando-as V, se Verdadeiras, ou F, se Falsas:

- ( ) A segurança do convívio familiar e comunitário pressupõe o enfrentamento de situações de isolamento social e de rompimento de vínculos, reconhecendo a convivência como elemento fundamental da vida humana.
- ( ) A convivência humana contribui para a construção da identidade e da subjetividade dos indivíduos, além de favorecer o desenvolvimento de processos culturais, sociais e civilizatórios.
- ( ) As barreiras relacionais decorrentes de discriminações, intolerâncias ou exclusões sociais estão no campo das relações humanas e devem ser consideradas nas ações da política de assistência social.
- ( ) A Política Nacional de Assistência Social compreende que a garantia do convívio familiar e comunitário constitui responsabilidade exclusiva das famílias, não sendo atribuição do Estado intervir nesse processo.

Qual alternativa preenche, CORRETAMENTE, de cima para baixo, os parênteses acima?

- (A) V – V – V – F.
- (B) V – F – V – F.
- (C) F – V – V – V.
- (D) V – V – F – F.

**Questão 35.** Acerca do Projovem Adolescente, no âmbito das políticas públicas de juventude e da assistência social, analise as assertivas a seguir, julgando-as V, se Verdadeiras, ou F, se Falsas:

- ( ) O Projovem Adolescente é destinado a jovens de 15 a 17 anos pertencentes a famílias beneficiárias do Programa Bolsa Família ou vinculados a serviços de proteção social especial.
- ( ) Entre os públicos atendidos pelo programa incluem-se jovens egressos do Programa de Erradicação do Trabalho Infantil (PETI), do Programa de Combate à Violência e à Exploração Sexual e aqueles sob medidas de proteção ou socioeducativas previstas no Estatuto da Criança e do Adolescente.
- ( ) A gestão do Projovem Adolescente ocorre exclusivamente no âmbito do Ministério da Educação, sem articulação com outros ministérios ou secretarias do governo federal.
- ( ) Para promover a intersetorialidade do programa, foi constituído um comitê coordenado pelo Ministério do Desenvolvimento Social (MDS), com participação de diferentes ministérios e secretarias do governo federal.

Qual alternativa preenche, CORRETAMENTE, de cima para baixo, os parênteses acima?

- (A) V – V – F – V.
- (B) V – F – V – V.
- (C) F – V – F – V.
- (D) V – V – V – F.

**Questão 36.** O Estatuto da Criança e do Adolescente (ECA) estabelece direitos fundamentais relacionados à liberdade, ao respeito e à dignidade da criança e do adolescente, reconhecendo-os como pessoas em processo de desenvolvimento e sujeitos de direitos. Com base nessa perspectiva, é CORRETO afirmar que:

- (A) O direito à liberdade da criança e do adolescente restringe-se ao ambiente familiar, não se estendendo à participação em espaços comunitários ou sociais, em razão de sua condição de desenvolvimento.
- (B) A liberdade assegurada pelo ECA refere-se apenas à proteção contra violência física ou psicológica, não incluindo aspectos relacionados à expressão de opinião ou participação social.
- (C) O direito à liberdade da criança e do adolescente compreende, entre outros aspectos, o direito de ir e vir em espaços públicos, manifestar opinião, praticar atividades recreativas, participar da vida familiar e comunitária e buscar auxílio e orientação quando necessário.
- (D) A participação da criança e do adolescente na vida comunitária depende exclusivamente da autorização de instituições públicas, não sendo reconhecida como direito previsto na legislação.

**Questão 37.** Conforme a Política Nacional de Assistência Social, a proteção social organiza-se a partir de seguranças socioassistenciais que visam assegurar direitos e enfrentar situações de vulnerabilidade social. Sobre esse entendimento, é CORRETO afirmar que:

- (A) É importante compreender que a proteção social da assistência social deve concentrar-se exclusivamente na transferência direta de renda às famílias, porque as demais necessidades sociais são responsabilidade de outras políticas públicas.
- (B) Deve-se considerar que a organização da assistência social ocorre a partir da identificação de públicos específicos previamente definidos, porque a política socioassistencial estrutura suas ações por categorias populacionais.
- (C) É importante reconhecer que a assistência social organiza sua rede a partir de seguranças socioassistenciais, como renda, acolhida e convívio familiar e comunitário, porque essas dimensões garantem provisões materiais, proteção em situações de fragilização de vínculos e fortalecimento das relações sociais.
- (D) Deve-se compreender que a segurança de acolhida se restringe à oferta de abrigo físico temporário, porque a assistência social não possui atribuição relacionada à orientação sobre direitos ou ao fortalecimento de vínculos familiares.

**Questão 38.** Com base no Estatuto da Criança e do Adolescente – ECA (Lei nº 8.069/1990), analise as assertivas a seguir:

- I. A criança e o adolescente são sujeitos de direitos e devem ter assegurado o acesso a todas as oportunidades e facilidades necessárias ao seu desenvolvimento físico, mental, moral, espiritual e social, em condições de liberdade e dignidade.
- II. A garantia dos direitos fundamentais da criança e do adolescente ocorre sem prejuízo do princípio da proteção integral, que orienta a atuação da família, da sociedade e do Estado na promoção e defesa desses direitos.

Sobre as assertivas, pode-se afirmar que:

- (A) I e II estão incorretas.
- (B) I e II estão corretas e são complementares.
- (C) I e II estão corretas, mas não se complementam.
- (D) I está correta e II incorreta.

**Questão 39.** Um Orientador Social, ao atender um cidadão com 68 anos em um equipamento público, orienta que ele possui direitos específicos assegurados em lei, devendo receber condições adequadas para preservar sua saúde física e mental, bem como oportunidades para seu desenvolvimento moral, intelectual, espiritual e social, sempre em condições de liberdade e dignidade. A situação descrita refere-se a um princípio previsto no Estatuto da Pessoa Idosa, sendo CORRETO afirmar que o direito assegurado é:

- (A) A garantia de atendimento exclusivo apenas em instituições de longa permanência para idosos.
- (B) O reconhecimento de que a pessoa idosa goza de todos os direitos fundamentais inerentes à pessoa humana, com proteção integral e garantia de oportunidades para seu desenvolvimento em condições de liberdade e dignidade.
- (C) A proteção restrita à assistência médica, limitada à prevenção de doenças físicas.
- (D) A concessão de benefícios assistenciais condicionados exclusivamente à incapacidade laboral comprovada.

**Questão 40.** Durante uma atividade escolar, uma criança questiona se todas as pessoas possuem os mesmos direitos, independentemente de sua origem, religião, condição social ou opinião política. O professor explica que existe um documento internacional que afirma que todos os seres humanos podem invocar os mesmos direitos e liberdades, sem qualquer tipo de distinção.

Com base nesse contexto, é CORRETO afirmar que a garantia descrita corresponde:

- (A) À concessão de direitos civis apenas aos cidadãos pertencentes a países independentes e plenamente soberanos.
- (B) À garantia de que os direitos humanos são assegurados somente às pessoas maiores de idade, considerando sua capacidade jurídica plena.
- (C) À previsão de que os direitos humanos podem sofrer distinções conforme a religião, a origem social ou a opinião política dos indivíduos.
- (D) Ao princípio de que todos os seres humanos têm direito às mesmas liberdades e direitos fundamentais, sem distinção de raça, cor, sexo, religião, origem ou qualquer outra condição.