



## CIRURGIÃO-DENTISTA – ESF



### Município de Criciúma/SC


Processo Seletivo Simplificado 01/2026


### PROVA TEÓRICO-OBJETIVA

 3 horas

40 questões

 4 alternativas

 Saída permitida somente após 1 hora e 30 minutos de prova

 O candidato só poderá levar este Caderno nos últimos 30 minutos para o término da prova

### INSTRUÇÕES



Confira se esse Caderno de Prova contém a quantidade de questões indicadas. A substituição deste Caderno de Prova ocorre apenas antes de iniciar a prova.

- O tempo de prova inclui o preenchimento do Cartão-Resposta.
- Nenhuma informação acerca do conteúdo das questões será fornecida pelo Fiscal de Sala, pois é parte integrante da prova.
- Antes de sair da Sala de Prova, entregue o Cartão-Resposta ao Fiscal de Sala, **devidamente assinado**, e, após, se desloque imediatamente para a saída do local de prova.
- Ao final da prova, os 03 (três) últimos candidatos deverão permanecer na Sala de Prova até que o último termine a sua prova, devendo ambos testemunhar a devolução e o lacre dos documentos.
- A divulgação do gabarito preliminar se dará conforme Cronograma de Execução do certame.

TODOS OS DIREITOS RESERVADOS AO INSTITUTO LEGALLE. PROIBIDO REPRODUÇÃO.

### RASCUNHO PARA GABARITO

01	06	11	16	21	26	31	36
02	07	12	17	22	27	32	37
03	08	13	18	23	28	33	38
04	09	14	19	24	29	34	39
05	10	15	20	25	30	35	40

Para responder às questões 01 a 05, leia o texto abaixo.

### **Dia Mundial da Saúde: UNICEF destaca avanços do Brasil e reforça a importância de seguir investindo na saúde infantil**

No Dia Mundial da Saúde, o Fundo das Nações Unidas para a Infância (UNICEF) destaca os avanços significativos conquistados pelo Brasil nas últimas décadas na promoção da saúde de crianças e adolescentes.

O País alcançou resultados históricos na redução da mortalidade infantil, em consonância com a tendência global. Dados mostram que o Brasil registrou, em 2024, as menores taxas de mortalidade neonatal e de crianças menores de cinco anos dos últimos 34 anos.

Outro marco relevante foi a saída do Brasil do Mapa da Fome. O resultado, que considera a média trienal de 2022, 2023 e 2024, colocou o País abaixo do patamar de 2,5% da população em risco de subnutrição ou de falta de acesso regular a alimentos suficientes.

O Brasil também tem apresentado queda consistente na gravidez na adolescência. Em 2019, 14,7% dos nascimentos eram de mães adolescentes; em 2024, esse percentual caiu para 11,4%.

Na área da imunização, o País vive um cenário de retomada, mas esforços são necessários. Em 2024 e 2025, 15 das 16 principais vacinas infantis apresentaram aumento de cobertura. Ainda assim, apenas vacinas como BCG e Hepatite B atingiram a meta de 95% em 2025. Além disso, em 2024, embora 2,3 milhões de crianças tenham recebido a primeira dose da vacina DPT, cerca de 229 mil não tomaram nenhuma dose.

“Neste Dia Mundial da Saúde, o UNICEF celebra os avanços conquistados pelo Brasil, que mostram que políticas públicas funcionam e salvam vidas. Ao mesmo tempo, lembramos que ainda há meninas e meninos sem acesso pleno à vacinação, à nutrição adequada e ao cuidado integral. Garantir a saúde de crianças e adolescentes é investir no presente e no futuro do País e isso exige compromisso contínuo”, afirma a chefe de Saúde e Nutrição do UNICEF no Brasil.

**Adaptado de:** <https://www.unicef.org/brazil/comunicados-de-imprensa/dia-mundial-da-saude-unicef-destaca-avancos-do-brasil-e-reforca-importancia-de-seguir-investindo-na-saude-infantil>

**Questão 01.** A recorrência de dados estatísticos no desenvolvimento do texto cumpre, sobretudo, a função de:

- (A) Atribuir maior grau de objetividade e legitimidade às informações, reforçando a credibilidade do discurso.
- (B) Relativizar a autoridade institucional do UNICEF ao priorizar dados em detrimento de posicionamentos.
- (C) Conferir excessiva tecnicidade ao texto, comprometendo sua acessibilidade ao leitor médio.
- (D) Substituir o encadeamento argumentativo por uma exposição meramente quantitativa.

**Questão 02.** Considerando as informações explícitas e implícitas no texto, bem como a relação entre dados apresentados e a interpretação global do conteúdo, analise as assertivas a seguir:

- I. O cenário da imunização é descrito como em recuperação, embora ainda aquém das metas ideais.
- II. O texto sugere que políticas públicas têm impacto direto na melhoria das condições de saúde.
- III. A saída do Mapa da Fome significa que não há mais insegurança alimentar no Brasil.

Está CORRETO o que se afirma em:

- (A) I, apenas.
- (B) I e II, apenas.
- (C) II e III, apenas.
- (D) I, II e III.

**Questão 03.** Considerando a classificação morfológica e o valor semântico de vocábulos do texto, bem como seu funcionamento no contexto das frases, analise as partes que seguem:

**(1ª parte):** Na frase **O País alcançou resultados históricos na redução da mortalidade infantil**, a palavra **históricos** consiste em um adjetivo de natureza qualificativa, atribuindo valor aos resultados mencionados.

**(2ª parte):** Na frase **O Brasil também tem apresentado queda consistente na gravidez na adolescência**, o vocábulo **também** classifica-se como conjunção coordenativa aditiva.

Pode-se afirmar que:

- (A) Ambas as partes estão corretas.
- (B) Apenas a 1ª parte está correta.
- (C) Apenas a 2ª parte está correta.
- (D) Ambas as partes estão incorretas.

**Questão 04.** Com base na análise gramatical e fonológica de elementos do texto, analise as assertivas que seguem, julgando-as V, se Verdadeiras, ou F, se Falsas:

- ( ) Em **lembramos que ainda há meninas e meninos sem acesso pleno à vacinação**, a palavra **ainda** é classificada, gramaticalmente, como pronome.
- ( ) Os substantivos **saúde** e **vacinação** apresentam o mesmo processo de formação de plural.
- ( ) A palavra **taxas** possui cinco fonemas; a palavra **nascimentos** possui nove fonemas.

Qual alternativa preenche, CORRETAMENTE, de cima para baixo, os parênteses acima?

- (A) F – F – F.
- (B) V – V – F.
- (C) V – F – V.
- (D) F – F – V.

**Questão 05.** Considerando a organização das ideias, os recursos argumentativos e a progressão temática do texto, assinale a alternativa CORRETA.

- (A) O texto apresenta uma progressão temática baseada principalmente em oposição entre dados estatísticos.
- (B) O final do texto amplia a discussão ao relacionar saúde infantil com desenvolvimento social e futuro do país.
- (C) A informação sobre crianças sem dose da DPT invalida os dados positivos apresentados anteriormente.
- (D) A redução da gravidez na adolescência é apresentada como um fenômeno episódico, destituído de continuidade ao longo do período analisado.

### MATEMÁTICA/RACIOCÍNIO LÓGICO

**Questão 06.** Para pintar as paredes de um depósito retangular de 6 metros de largura por 10 metros de comprimento e 3 metros de altura, o servidor precisa calcular a área total das paredes. Sabendo que não há janelas e que a porta de entrada possui 2 metros quadrados de área que não será pintada, qual é a metragem quadrada total de superfície de parede que receberá a nova camada de tinta?

- (A) 100 m<sup>2</sup>.
- (B) 94 m<sup>2</sup>.
- (C) 96 m<sup>2</sup>.
- (D) 214 m<sup>2</sup>.

**Questão 07.** Um servidor verificou que o consumo de papel sulfite reduziu em 25% após a implementação plena do processo digital. Se anteriormente eram utilizadas 80 resmas de papel por mês, qual passou a ser o consumo mensal de resmas após a adoção plena do sistema, considerando que a redução percentual foi aplicada de forma direta sobre o consumo histórico médio da unidade administrativa? O servidor precisa desse dado atualizado para realizar o novo planejamento de compra de suprimentos do setor operacional.

- (A) 70 resmas.
- (B) 55 resmas.
- (C) 65 resmas.
- (D) 60 resmas.

**Questão 08.** A trajetória de um objeto em um teste é descrita pela função quadrática  $h(t) = -5t^2 + 20t$ , onde  $h$  é a altura em metros e  $t$  é o tempo em segundos. O servidor responsável pelo experimento precisa identificar em que instante de tempo o objeto atinge a sua altura máxima antes de iniciar o processo de descida para o solo. Determine o tempo exato em segundos necessário para que o objeto alcance o ponto mais alto de sua trajetória, utilizando os parâmetros de análise de funções do segundo grau apresentados.

- (A) 2 segundos.
- (B) 3 segundos.
- (C) 1 segundo.
- (D) 4 segundos.

**Questão 09.** Um técnico prepara uma solução diluindo um produto em água na proporção de 2 partes de produto para 13 partes de água. Se ele precisa preparar um volume total de 30 litros dessa mistura para a higienização do prédio, quantos litros de produto concentrado ele deverá utilizar exatamente para respeitar a razão estabelecida? O servidor deve garantir que a soma das partes do produto e da água resulte no volume total final exigido para a limpeza das salas e corredores da unidade administrativa pública.

- (A) 2 litros.
- (B) 8 litros.
- (C) 4 litros.
- (D) 6 litros.

**Questão 10.** Uma sala administrativa quadrada teve sua área ampliada em 13 metros quadrados, passando a ter uma área total de 49 metros quadrados após a reforma das paredes laterais. O servidor do setor de patrimônio precisa registrar a medida original do lado da sala antes dessa ampliação para fins de atualização da planta baixa no sistema de gestão de ativos. Qual era a medida do lado da sala quadrada, em metros, antes do início das obras de expansão que resultaram na configuração atual de espaço do ambiente?

- (A) 4 metros.
- (B) 6 metros.
- (C) 7 metros.
- (D) 5 metros.

UTILIZE ESTE ESPAÇO PARA CÁLCULOS

## INFORMÁTICA

**Questão 11.** Considerando o funcionamento e a utilização de cookies em navegadores de internet, analise as partes que seguem:

**(1ª parte):** *Cookies podem ser utilizados tanto para funcionalidades legítimas do site quanto para fins de rastreamento comportamental.*

**(2ª parte):** *A desativação de cookies não afeta o funcionamento de sessões autenticadas em sites que exigem login.*

**(3ª parte):** *O navegador pode ser configurado para bloquear ou limitar o uso de cookies por sites.*

Pode-se afirmar que:

- (A) Apenas a 3ª parte está correta.
- (B) Apenas a 1ª e a 2ª partes estão corretas.
- (C) Apenas a 1ª e a 3ª partes estão corretas.
- (D) Todas as partes estão corretas.

**Questão 12.** Com base nos modos de exibição do Explorador de Arquivos no Windows 11 e nas informações que cada um deles disponibiliza ao usuário, assinale a alternativa INCORRETA.

- (A) No modo **Lista**, os arquivos são apresentados com ícones pequenos, dispostos em colunas verticais.
- (B) No modo **Ícones pequenos**, o sistema exibe mais metadados do que no modo **Blocos**.
- (C) No modo **Detalhes**, é possível ordenar os arquivos de forma crescente ou decrescente com base em qualquer coluna disponível.
- (D) O modo **Conteúdo** adapta as informações exibidas de acordo com os metadados disponíveis em cada tipo de arquivo.

**Questão 13.** Considerando os conceitos relacionados às extensões de arquivos e sua utilização em sistemas operacionais, analise as assertivas que seguem, julgando-as V, se verdadeiras, ou F, se falsas:

- ( ) O usuário pode modificar o programa padrão associado à abertura de arquivos de uma determinada extensão.
- ( ) A mudança da extensão de um arquivo é suficiente para convertê-lo integralmente para outro formato.
- ( ) A extensão de um arquivo corresponde a um sufixo nominal, normalmente precedido por ponto, que auxilia na identificação de seu tipo.

Qual alternativa preenche, CORRETAMENTE, de cima para baixo, os parênteses acima?

- (A) V – F – V.
- (B) F – F – F.
- (C) V – V – F.
- (D) V – V – V.

**Questão 14.** Um usuário está elaborando um documento no Microsoft Word contendo informações institucionais sigilosas. Com o objetivo de indicar a natureza confidencial do conteúdo, ele insere, ao fundo de todas as páginas, um texto semitransparente com a expressão "CONFIDENCIAL", disposto de forma diagonal e visível por trás do texto principal, sem interferir na leitura. Esse elemento é aplicado de maneira uniforme em todas as páginas do documento e pode ser facilmente ativado ou removido por meio de um recurso específico da guia de design do programa. Diante dessa situação, assinale a alternativa que indica, CORRETAMENTE, o recurso utilizado pelo usuário.

- (A) SmartArt.
- (B) Marca d'água.
- (C) Folha de Rosto.
- (D) Referência Cruzada.

**Questão 15.** No contexto da segurança da informação, diferentes mecanismos e práticas são adotados para proteger sistemas, redes e dados contra ameaças digitais. Considerando esse cenário, analise as assertivas a seguir:

- I. A instalação de um antivírus elimina completamente a necessidade de atualizações do sistema operacional.
- II. Firewalls atuam no controle do tráfego de rede, podendo bloquear conexões não autorizadas.
- III. Conexões seguras podem ser identificadas pelo uso do protocolo HTTPS, que utiliza criptografia para proteger os dados transmitidos.

Está CORRETO o que se afirma em:

- (A) II, apenas.
- (B) I e II, apenas.
- (C) II e III, apenas.
- (D) I, II e III.

## CONHECIMENTOS ESPECÍFICOS/SUS

**Questão 16.** A remoção de um elemento dental do seu alvéolo exige a aplicação de princípios físicos que permitam a expansão das tábuas ósseas e o rompimento das fibras do ligamento periodontal. Sobre a mecânica aplicada ao uso de elevadores (alavancas) e fórceps, assinale a alternativa CORRETA.

- (A) O princípio da cunha é aplicado quando um elevador é inserido no espaço do ligamento periodontal, convertendo força vertical em força expansiva lateral para deslocar o dente.
- (B) Na mecânica de alavanca de primeira classe, o dente atua como o fulcro, enquanto o osso alveolar representa a resistência a ser vencida pelo cirurgião.
- (C) O uso de elevadores apicais deve ser feito aplicando-se força de tração vertical pura, sem contato com as paredes alveolares, para evitar a fratura radicular.
- (D) O fórceps odontológico atua primariamente como uma roda e eixo, onde a rotação do cabo promove a luxação radicular por compressão do feixe vasculo-nervoso.

**Questão 17.** Um paciente usuário de prótese total superior mal adaptada apresenta-se ao consultório com queixa de ardência bucal. Ao exame clínico, observa-se uma área eritematosa difusa no palato duro, delimitada exatamente pela área de cobertura da prótese. Com base nos "Pontos-chave" da Candidíase, assinale a conduta que demonstra a compreensão CORRETA da ecologia local e do tratamento dessa patologia.

- (A) Prescrever nistatina suspensão oral e orientar o uso contínuo da prótese, uma vez que o controle medicamentoso é suficiente para eliminar a infecção fúngica.
- (B) Instituir antifúngico tópico e ajustar a prótese apenas se houver persistência dos sintomas, considerando que a colonização por *Candida* pode ocorrer mesmo em condições protéticas adequadas.
- (C) Orientar a desinfecção da prótese e a interrupção do seu uso noturno, associadas ou não ao antifúngico, visando corrigir a alteração na ecologia local.
- (D) Realizar cultura microbiológica para identificação da espécie de *Candida* antes de iniciar qualquer tratamento, visto que a terapêutica deve ser direcionada exclusivamente pelo agente etiológico.

**Questão 18.** Os odontomas são considerados anomalias de desenvolvimento (hamartomas) em que todos os tecidos dentários estão presentes. De acordo com o Neville, o odontoma do tipo \_\_\_\_\_ consiste em uma massa irregular de tecidos dentários, enquanto o odontoma do tipo \_\_\_\_\_ apresenta denticulos múltiplos e pequenos dentro de um tecido conjuntivo envolto por uma cápsula fibrosa. Além disso, a presença de lesões múltiplas pode estar associada à \_\_\_\_\_.

Preenche, CORRETA e respectivamente, as lacunas:

- (A) Composto – Complexo – Síndrome de Gorlin-Goltz.
- (B) Complexo – Composto – Síndrome de Gardner.
- (C) Composto – Complexo – Síndrome de Gardner.
- (D) Complexo – Composto – Síndrome de Peutz-Jeghers.

**Questão 19.** Para garantir a coordenação do cuidado e a eficácia das ações na Atenção Primária, a Política Nacional de Atenção Básica (PNAB) estabelece parâmetros para a população adscrita por equipe. De acordo com as diretrizes vigentes, assinale a alternativa que apresenta, CORRETAMENTE, o intervalo populacional recomendado para uma Equipe de Saúde da Família (eSF) ou Equipe de Atenção Básica (eAB).

- (A) De 1.000 a 2.000 pessoas.
- (B) De 2.000 a 3.500 pessoas.
- (C) De 3.000 a 4.500 pessoas.
- (D) De 3.500 a 5.000 pessoas

**Questão 20.** No manejo da dor e inflamação em Odontologia, o cirurgião-dentista deve selecionar o fármaco e o regime posológico adequados ao procedimento. Associe as doses do Ácido Acetilsalicílico (AAS) listadas na Coluna 1 com suas respectivas aplicações clínicas descritas na Coluna 2:

*Coluna 1:*

- 1. Dose de 40 mg a 100 mg de AAS.
- 2. Dose de 500 mg a 650 mg de AAS.
- 3. Dose de 4 g a 5 g de AAS.

*Coluna 2:*

- ( ) Atividade analgésica e antitérmica em adultos.
- ( ) Prevenção de fenômenos tromboembólicos (inibição da agregação plaquetária).
- ( ) Dose necessária para a obtenção de ação anti-inflamatória propriamente dita.

Qual alternativa preenche, CORRETAMENTE, de cima para baixo, os parênteses Coluna 2?

- (A) 2 – 1 – 3.
- (B) 1 – 2 – 3.
- (C) 2 – 3 – 1.
- (D) 3 – 2 – 1.

**Questão 21.** O novo arcabouço normativo do Sistema Único de Saúde (SUS) estabelece mecanismos de controle e monitoramento rigorosos, prevendo a suspensão de repasses federais em situações de irregularidades cadastrais ou de alimentação de sistemas. Considerando as disposições da Portaria nº 3.493/2024 sobre a manutenção do custeio das Equipes de Saúde Bucal (eSB) e sua vinculação com as equipes de Saúde da Família, assinale a alternativa CORRETA.

- (A) A suspensão total da Equipe de Saúde da Família (eSF) acarreta a extinção automática e imediata do credenciamento da eSB vinculada, sem prazo para regularização.
- (B) O custeio mensal da eSB será mantido enquanto estiver vigente o credenciamento da Equipe de Saúde da Família (eSF) à qual está vinculada, observando-se o prazo de seis competências para regularização em caso de suspensão da eSF.
- (C) A ausência de envio de informações de produção ao Sisab pela eSB por apenas uma competência isolada gera a suspensão imediata de 100% do custeio.
- (D) No período de regularização das Equipe de Saúde da Família (eSF), o pagamento da eSB é garantido independentemente do envio de produção ao Sistema de Informação em Saúde para a Atenção Básica (Sisab), desde que o cirurgião-dentista cumpra a carga horária no Sistema de Cadastro Nacional de Estabelecimentos de Saúde (SCNES).

**Questão 22.** A Portaria GM/MS nº 3.493/2024 introduziu mudanças profundas no modelo de financiamento da Atenção Primária à Saúde (APS), com o objetivo de induzir boas práticas e aperfeiçoar os resultados em saúde por meio de incentivos financeiros variáveis. No que tange ao Componente de Qualidade destinado às equipes de Saúde da Família (eSF), de Atenção Primária (eAP), de Saúde Bucal (eSB) e Multiprofissionais (eMulti), assinale a alternativa CORRETA.

- (A) O incentivo de qualidade é calculado com base em indicadores assistenciais e transferido de forma fixa às equipes, sendo revisto apenas em avaliações anuais.
- (B) O recálculo dos indicadores ocorre quadrimestralmente, considerando as classificações: ótimo, bom, suficiente e regular.
- (C) A ausência de dados para monitoramento dos indicadores implica manutenção do repasse financeiro até a normalização do sistema de informação.
- (D) Para equipes recém-homologadas, o incentivo de qualidade é transferido com base na média nacional até a realização do primeiro ciclo avaliativo.

**Questão 23.** A imagem radiográfica é uma representação bidimensional de estruturas tridimensionais, e sua fidelidade geométrica depende da observância de princípios físicos de projeção. Erros na angulação vertical ou no alinhamento do feixe podem resultar em artefatos que induzem a equívocos diagnósticos, como a falsa percepção de perda óssea ou reabsorções radiculares. Relacione os erros de técnica listados na Coluna 1 com suas respectivas causas na Coluna 2:

*Coluna 1:*

1. Alongamento da imagem.
2. Encurtamento da imagem.
3. Corte de cone.
4. Imagem clara.

*Coluna 2:*

- ( ) Aplicação de um ângulo vertical excessivo (ângulo muito agudo em relação ao filme).
- ( ) Utilização de um ângulo vertical insuficiente (feixe quase paralelo ao plano do filme).
- ( ) Falha no alinhamento do feixe central de raios X com a área de registro do receptor de imagem.
- ( ) Tempo de exposição reduzido ou processamento químico deficiente por exaustão do revelador.

Qual alternativa preenche, CORRETAMENTE, de cima para baixo, os parênteses Coluna 2?

- (A) 2 – 1 – 3 – 4.
- (B) 1 – 2 – 4 – 3.
- (C) 2 – 1 – 4 – 3.
- (D) 4 – 3 – 2 – 1.

**Questão 24.** A Lei nº 14.572/2023 alterou a Lei Orgânica da Saúde (Lei nº 8.080/1990) para incluir a saúde bucal no campo de atuação do Sistema Único de Saúde (SUS). De acordo com as diretrizes de organização e atuação previstas nesta lei, assinale a alternativa CORRETA.

- (A) A vigilância epidemiológica e sanitária em saúde bucal deve atuar de forma independente do sistema geral de vigilância em saúde, focando exclusivamente na eliminação da demanda reprimida em nível terciário.
- (B) A educação permanente para os trabalhadores em saúde bucal objetiva implementar projetos de mudança na formação exclusivamente nos níveis de graduação e pós-graduação, visando aos princípios da ética em saúde.
- (C) É diretriz da política realizar, periodicamente, pesquisas nacionais de saúde bucal e inquéritos populacionais epidemiológicos, visando dispor de dados atualizados e promover o desenvolvimento científico e tecnológico no campo.
- (D) O princípio da integralidade em saúde bucal compreende as dimensões do indivíduo e do sistema, devendo o serviço ser organizado de forma profissional-centrado para garantir o acolhimento e o encaminhamento.

**Questão 25.** O ameloblastoma representa a neoplasia odontogênica de maior relevância clínica devido ao seu comportamento localmente invasivo e à sua capacidade de expansão óssea. Originário de remanescentes epiteliais como a lâmina dentária, o órgão do esmalte ou o revestimento de cistos dentígeros, este tumor apresenta uma biologia molecular complexa. No que se refere às características clínicas, radiográficas e histopatológicas do ameloblastoma, assinale a alternativa CORRETA.

- (A) O diagnóstico histológico revela a formação de esmalte maduro no centro das ilhas epiteliais, resultante da indução mútua entre o epitélio tumoral e o mesênquima odontogênico presente na lesão.
- (B) Clinicamente, o ameloblastoma manifesta-se como uma lesão de crescimento rápido e altamente dolorosa, perfurando as corticais ósseas logo nas etapas iniciais do seu desenvolvimento.
- (C) Os ameloblastomas são compostos de células epiteliais, dispostas como uma camada periférica de células semelhantes a ameloblastos, ao redor de uma área central de células que lembram um retículo estrelado.
- (D) O tratamento de escolha é a enucleação simples e curetagem da lesão, uma vez que o tumor apresenta mais destruição óssea do que invasão local, dispensando margens de segurança.

**Questão 26.** O texto da Lei nº 14.572/2023 estabelece parâmetros para a fluoretação das águas e a integração das ações odontológicas. Sobre as obrigações e competências previstas nesta lei, é CORRETO afirmar que:

- (A) As ações e os serviços de saúde bucal devem integrar as demais políticas públicas de saúde, visando à concretização de ações integrais que viabilizem a intervenção sobre fatores comuns de risco.
- (B) A vigilância sanitária da fluoretação das águas de abastecimento público é uma ação recomendada, ficando sua execução condicionada à disponibilidade orçamentária de cada ente federativo e ao porte populacional do município.
- (C) A gestão participativa e o controle social na saúde bucal são assegurados pela representação paritária, devendo sua atuação técnica ser deliberada exclusivamente por conselhos profissionais de odontologia em nível federal.
- (D) A alocação de recursos destinados à saúde bucal deve priorizar o atendimento de urgência e emergência sobre as ações preventivas, de modo a garantir a resolutividade imediata da demanda reprimida em territórios de alta vulnerabilidade.

**Questão 27.** No exercício da endodontia clínica, a correta interpretação dos sinais e sintomas é fundamental para a decisão entre uma conduta conservadora ou a terapia endodôntica radical. Relacione as manifestações patológicas da polpa (Coluna 1) com suas respectivas características clínicas e diagnósticas (Coluna 2):

*Coluna 1:*

1. Polpa Normal.
2. Pulpite Reversível.
3. Pulpite Irreversível Assintomática.
4. Pulpite Irreversível Sintomática.

*Coluna 2:*

- ( ) Presença de dor espontânea ou intermitente; a resposta a estímulos térmicos, especialmente o frio, é intensa e prolongada, persistindo mesmo após a remoção do estímulo.
- ( ) Dente assintomático, porém apresenta cárie profunda ou perda estrutural que, sem intervenção, evoluirá para a perda da vitalidade ou sintomatologia severa.
- ( ) Ausência de sintomatologia e de condições patológicas objetivas nos testes de sensibilidade e exames complementares.
- ( ) Resposta dolorosa fugaz e localizada a estímulos frios ou osmóticos (doces/azedos), que cessa imediatamente após a remoção do fator irritante.

Qual alternativa preenche, CORRETAMENTE, de cima para baixo, os parênteses Coluna 2?

- (A) 4 – 3 – 1 – 2.
- (B) 4 – 2 – 1 – 3.
- (C) 2 – 3 – 1 – 4.
- (D) 3 – 4 – 2 – 1.

**Questão 28.** Um paciente de 12 anos chega ao consultório odontológico 50 minutos após sofrer uma queda, portando o dente 11 avulsionado. O dente foi mantido em um recipiente com água durante todo esse período.

Considerando os protocolos de reimplante e a biologia do ligamento periodontal, assinale a alternativa CORRETA.

- (A) O reimplante apresenta prognóstico favorável, uma vez que o armazenamento em meio líquido, independentemente da sua osmolaridade, impede a lise celular e a inflamação pós-operatória.
- (B) A água é considerada o meio de armazenamento ideal para casos de avulsão por ser um líquido neutro e de fácil acesso, superando a eficácia do leite e da saliva na manutenção do metabolismo fisiológico das células do ligamento periodontal.
- (C) Embora a manutenção em meio úmido seja preferível ao ressecamento, a água é o meio de armazenamento menos desejável entre as opções viáveis, pois seu ambiente hipotônico causa rápida lise celular, comprometendo a viabilidade do Ligamento Periodontal em comparação ao leite ou à saliva.
- (D) O tempo extrabucal de 50 minutos em água exige a realização obrigatória de tratamento endodôntico extra-alveolar com preenchimento por hidróxido de cálcio antes do reimplante, visando reverter a hipotonia celular.

**Questão 29.** A seleção de cor em Odontologia baseia-se na compreensão de três dimensões fundamentais. De acordo com os conceitos de Matiz, Luminosidade e Saturação, analise as afirmações a seguir:

- I. O Matiz é a dimensão que descreve a cor predominante de um objeto, sendo esta dependente diretamente do comprimento de onda refletido.
- II. A Luminosidade funciona como um indicador da claridade de uma cor, permitindo a diferenciação entre tons como, por exemplo, o verde-claro e o azul-escuro.
- III. A Saturação (ou Cromo) representa o grau de intensidade ou pureza de um matiz, sendo responsável por diferenciar, por exemplo, um dente A1 de um dente A4, que possuem o mesmo matiz, porém diferentes concentrações de pigmento.
- IV. A Luminosidade e a Saturação são sinônimos técnicos, pois ambas tratam da pureza da cor predominante (matiz) em relação ao comprimento de onda.

Estão CORRETAS:

- (A) I e II, apenas.
- (B) I, II e III, apenas.
- (C) II, III e IV, apenas.
- (D) I e IV, apenas.

**Questão 30.** Durante o planejamento de uma exodontia de um terceiro molar superior impactado, o cirurgião-dentista deve estar atento à proximidade radicular com o seio maxilar para evitar a ocorrência de comunicações buccossinusais. Caso ocorra uma comunicação acidental durante o procedimento, a conduta clínica imediata e o prognóstico dependem do diâmetro da abertura e da presença ou não de infecção prévia.

Com base na literatura, assinale a alternativa CORRETA.

- (A) Comunicações buccossinusais pequenas (menores que 2 mm) geralmente requerem a confecção imediata de um retalho pediculado para garantir o fechamento primário por primeira intenção.
- (B) Se a abertura for moderada (entre 2 mm e 6 mm), a conduta envolve a manutenção do coágulo no alvéolo, sutura em "X" e orientações ao paciente para evitar pressão sinusal, como não assoar o nariz.
- (C) O teste de Valsalva negativo após a exodontia confirma, de forma definitiva, a ausência de comunicação buccossinusal, dispensando exames de imagem complementares ou acompanhamento.
- (D) Em casos de comunicações amplas (maiores que 7 mm), o tratamento de escolha imediato é o preenchimento do seio maxilar com gaze iodoformada, que deve ser removida após 30 dias para permitir a cicatrização óssea.

**Questão 31.** O diagnóstico em Odontologia baseia-se em um exame clínico metódico e sistematizado, que compreende a anamnese e o exame físico (intra e extrabucal). A aplicação correta das manobras de inspeção, palpação, percussão e auscultação permite ao profissional identificar variações da normalidade e processos patológicos em estágios iniciais.

Sobre a metodologia aplicada ao exame clínico odontológico, assinale a alternativa CORRETA.

- (A) A diascopia (vitropressão) é utilizada para avaliar a natureza vascular de lesões, sendo que o desaparecimento da coloração à pressão indica extravasamento sanguíneo no tecido conjuntivo.
- (B) A percussão vertical avalia predominantemente a condição pulpar, sendo positiva em processos inflamatórios reversíveis da polpa dentária.
- (C) A inspeção clínica permite identificar variações da normalidade, como os grânulos de Fordyce, que devem ser registrados como alterações patológicas de origem infecciosa.
- (D) A palpação bimanual do assoalho bucal é indicada para avaliação das glândulas submandibulares e seus ductos, auxiliando na detecção de cálculos salivares e alterações de volume.

**Questão 32.** A biossegurança em odontologia fundamenta-se na adoção de medidas que visam a interrupção da cadeia de transmissão de agentes infecciosos no ambiente clínico. A classificação de Spaulding é o parâmetro utilizado mundialmente para definir o nível de processamento necessário para cada tipo de instrumental, baseando-se no risco de infecção que o artigo representa.

Sobre esses protocolos, assinale a alternativa CORRETA.

- (A) Artigos críticos são aqueles destinados a procedimentos que envolvem a penetração em tecidos moles, osso ou sistema vascular, requerendo obrigatoriamente a limpeza prévia seguida de esterilização.
- (B) Artigos semicríticos entram em contato com mucosas íntegras e devem ser submetidos exclusivamente à desinfecção de nível intermediário.
- (C) Artigos não críticos entram em contato com pele íntegra e devem ser submetidos à desinfecção de alto nível para prevenir contaminação cruzada.
- (D) O monitoramento biológico pode ser substituído por indicadores químicos em ciclos regulares, desde que haja controle rigoroso dos parâmetros físicos do equipamento.

**Questão 33.** O conhecimento da anatomia dental externa é o pilar fundamental para a prática da odontologia restauradora e preventiva. Cada grupo dental possui atributos específicos que permitem sua identificação e diferenciação no arco, garantindo que o cirurgião-dentista execute procedimentos que respeitem a forma e a função original do elemento.

Sobre as características anatômicas básicas dos dentes permanentes, assinale a alternativa CORRETA.

- (A) O incisivo central superior é o maior elemento do grupo dos incisivos, apresentando uma coroa de formato trapezoidal onde o diâmetro cérvico-incisal é geralmente superior ao diâmetro mesiodistal.
- (B) O canino superior é reconhecido por ser o dente mais longo da arcada humana, apresentando uma face lingual com anatomia simples, caracterizada pela ausência de cingulo e cristas marginais.
- (C) O primeiro molar superior possui três raízes distintas e bem desenvolvidas, sendo a raiz palatina geralmente a mais longa e volumosa, divergindo em direção ao palato.
- (D) O primeiro pré-molar inferior apresenta uma face oclusal com duas cúspides de tamanho e volume idênticos, o que torna a sua anatomia funcional muito semelhante à de um molar de pequeno porte.

**Questão 34.** O conhecimento da sequência e da época favorável para a erupção dos dentes decíduos é essencial para o acompanhamento do desenvolvimento infantil e para a orientação dos responsáveis. Embora existam variações individuais e regionais, a literatura estabelece um padrão cronológico médio para o surgimento dos dentes na cavidade bucal.

Sobre a cronologia de erupção decídua, assinale a alternativa CORRETA.

- (A) Os primeiros dentes a irromperem na cavidade bucal são geralmente os incisivos centrais inferiores, ocorrendo, em média, por volta dos 6 aos 10 meses de idade.
- (B) A dentição decídua completa, composta por 20 elementos dentais, deve estar totalmente estabelecida na arcada até, no máximo, os 18 meses de vida da criança.
- (C) Os caninos decíduos são os últimos dentes a irromperem no arco, surgindo após a esfoliação natural dos primeiros molares permanentes.
- (D) A sequência de erupção na dentição decídua segue a cronologia de posição no arco, na qual os caninos irrompem logo após os incisivos laterais, estabelecendo o guia para o posterior posicionamento dos molares.

**Questão 35.** O traumatismo na dentição decídua apresenta desafios peculiares devido à proximidade entre o ápice radicular do dente decíduo e o germe do sucessor permanente. O diagnóstico correto do tipo de luxação é crucial para decidir entre a manutenção do dente ou a sua exodontia.

Com base nisso, assinale a alternativa que descreve a conduta CORRETA em casos de intrusão em dentes decíduos.

- (A) Se o ápice do dente decíduo estiver deslocado em direção à tábua óssea vestibular o dente deve ser mantido para aguardar a reerupção espontânea.
- (B) A exodontia imediata é indicada em todos os casos de intrusão de dentes decíduos, independentemente da direção do deslocamento, para evitar a hipoplasia do esmalte no sucessor.
- (C) Caso o ápice radicular tenha sido deslocado em direção ao germe do dente permanente, a conduta de eleição é o tracionamento ortodôntico imediato para reposicionar o decíduo no arco.
- (D) Dentes decíduos intruídos que apresentam mobilidade grau III e sinais de fratura radicular no terço cervical devem ser mantidos sob acompanhamento clínico quinzenal, sem intervenção cirúrgica.

**Questão 36.** A técnica de bloqueio do nervo alveolar inferior é uma das mais utilizadas na prática odontológica para procedimentos em mandíbula, exigindo precisão anatômica para garantir a eficácia anestésica e a segurança do paciente. Durante a execução desta técnica, o posicionamento correto da agulha em relação aos marcos anatômicos é fundamental.

Sobre essa técnica anestésica, é CORRETO afirmar que:

- (A) O ponto de introdução da agulha deve ser localizado na rafe pterigomandibular, com o corpo da seringa posicionado sobre os pré-molares do lado oposto ao que será anestesiado.
- (B) Para garantir o sucesso da anestesia, a agulha deve penetrar no tecido até atingir a crista temporal da mandíbula, onde o depósito da solução anestésica deve ser imediato e rápido.
- (C) O bloqueio do nervo alveolar inferior promove a anestesia exclusiva dos dentes anteriores da mandíbula, não afetando a sensibilidade do lábio inferior ou da língua.
- (D) A técnica exige que o bisel da agulha esteja voltado para longe do osso, visando evitar o contato com o forame mental e prevenir a ocorrência de parestesias temporárias.

**Questão 37.** O uso de anestésicos locais com vasoconstritores em pacientes com comprometimento cardiovascular exige cautela do cirurgião-dentista.

Com base nas propriedades farmacológicas da epinefrina, assinale a alternativa CORRETA quanto ao seu emprego em pacientes isquêmicos.

- (A) O uso de epinefrina é contraindicado para pacientes hipertensos controlados, devendo-se optar sempre por anestésicos sem vasoconstritor para evitar crises hipertensivas.
- (B) Em pacientes com angina do peito ou histórico de infarto do miocárdio, a dosagem de epinefrina deve ser minimizada devido ao aumento do consumo de oxigênio pelo miocárdio.
- (C) A epinefrina promove vasodilatação generalizada em leitos periféricos, o que reduz a pressão arterial média, tornando-a o vasoconstritor de escolha para pacientes com hipertensão grave não controlada.
- (D) Pacientes cardiopatas devem receber preferencialmente epinefrina na concentração de 1:50.000 para garantir estabilidade hemodinâmica.

**Questão 38.** O entendimento da cárie dentária como uma doença dependente de biofilme e açúcar é fundamental para o manejo clínico. No processo de desmineralização, o pH crítico é o ponto onde o meio bucal se torna subjacente em relação aos minerais do dente. Sobre esse tema, é CORRETO afirmar que:

- (A) O pH crítico para o esmalte dentário é de aproximadamente 5,5, enquanto para a dentina e o cimento, devido à menor quantidade de conteúdo mineral, o pH crítico é mais alto, em torno de 6,2 a 6,7.
- (B) A remineralização ocorre na presença de flúor sistêmico, sendo a saliva o meio principal de reposição de íons cálcio e fosfato na estrutura dentária através da ação tamponante.
- (C) O biofilme dental torna-se patogênico exclusivamente pela quantidade total de açúcar ingerida, sendo a frequência um fator secundário.
- (D) A curva de Stephan descreve a elevação do pH após ingestão de carboidratos, favorecendo a desmineralização inicial do esmalte.

**Questão 39.** De acordo com a Classificação das Doenças e Condições Periodontais e Peri-implantares, a periodontite é caracterizada pela perda de inserção clínica interproximal. No que se refere ao Estadiamento e Gradação, é CORRETO afirmar que:

- (A) A Gradação C indica uma taxa de progressão lenta, comum em pacientes que apresentam excelente controle de placa e ausência de fatores de risco sistêmicos.
- (B) O hábito de fumar (tabagismo) é um critério utilizado para definir o Estágio da doença e não influenciando na Gradação.
- (C) Um paciente que apresenta perda óssea radiográfica no terço apical da raiz e perda de mais de 5 dentes devido à periodontite é classificado automaticamente como Estágio II.
- (D) O Estágio (I a IV) define a complexidade do manejo do caso e a extensão da destruição tecidual, enquanto o Grau (A a C) avalia o risco de progressão da doença e a resposta ao tratamento.

**Questão 40.** O sucesso clínico de uma restauração em resina composta depende da conversão eficiente de monômeros em polímeros. Sobre os componentes responsáveis por iniciar e unir as fases desse material, assinale a alternativa CORRETA.

- (A) O silano atua como uma molécula bipolar que se une ionicamete à matriz resinosa e por ligações covalentes siloxanas à carga inorgânica.
- (B) Nos sistemas fotoativados, a canforquinona é excitada por luz visível (aprox. 450 nm), interagindo com uma amina terciária para a formação de radicais livres.
- (C) O peróxido de benzoíla é o agente iniciador utilizado exclusivamente em resinas fotoativadas, reagindo com a luz para segmentar as duplas ligações de carbono.
- (D) Os monômeros diluentes, como o Bis-GMA, possuem alto peso molecular e são responsáveis por aumentar a viscosidade final do compósito, dificultando a manipulação.