



FARMACÊUTICO



Município de Criciúma/SC


Processo Seletivo Simplificado 01/2026


PROVA TEÓRICO-OBJETIVA

 3 horas

40 questões

 4 alternativas

 Saída permitida somente após 1 hora e 30 minutos de prova

 O candidato só poderá levar este Caderno nos últimos 30 minutos para o término da prova

INSTRUÇÕES



Confira se esse Caderno de Prova contém a quantidade de questões indicadas. A substituição deste Caderno de Prova ocorre apenas antes de iniciar a prova.

- ▣ O tempo de prova inclui o preenchimento do Cartão-Resposta.
- ▣ Nenhuma informação acerca do conteúdo das questões será fornecida pelo Fiscal de Sala, pois é parte integrante da prova.
- ▣ Antes de sair da Sala de Prova, entregue o Cartão-Resposta ao Fiscal de Sala, **devidamente assinado**, e, após, se desloque imediatamente para a saída do local de prova.
- ▣ Ao final da prova, os 03 (três) últimos candidatos deverão permanecer na Sala de Prova até que o último termine a sua prova, devendo ambos testemunhar a devolução e o lacre dos documentos.
- ▣ A divulgação do gabarito preliminar se dará conforme Cronograma de Execução do certame.

TODOS OS DIREITOS RESERVADOS AO INSTITUTO LEGALLE. PROIBIDO REPRODUÇÃO

RASCUNHO PARA GABARITO

01	06	11	16	21	26	31	36
02	07	12	17	22	27	32	37
03	08	13	18	23	28	33	38
04	09	14	19	24	29	34	39
05	10	15	20	25	30	35	40

Para responder às questões 01 a 05, leia o texto abaixo.

Dia Mundial da Saúde: UNICEF destaca avanços do Brasil e reforça a importância de seguir investindo na saúde infantil

No Dia Mundial da Saúde, o Fundo das Nações Unidas para a Infância (UNICEF) destaca os avanços significativos conquistados pelo Brasil nas últimas décadas na promoção da saúde de crianças e adolescentes.

O País alcançou resultados históricos na redução da mortalidade infantil, em consonância com a tendência global. Dados mostram que o Brasil registrou, em 2024, as menores taxas de mortalidade neonatal e de crianças menores de cinco anos dos últimos 34 anos.

Outro marco relevante foi a saída do Brasil do Mapa da Fome. O resultado, que considera a média trienal de 2022, 2023 e 2024, colocou o País abaixo do patamar de 2,5% da população em risco de subnutrição ou de falta de acesso regular a alimentos suficientes.

O Brasil também tem apresentado queda consistente na gravidez na adolescência. Em 2019, 14,7% dos nascimentos eram de mães adolescentes; em 2024, esse percentual caiu para 11,4%.

Na área da imunização, o País vive um cenário de retomada, mas esforços são necessários. Em 2024 e 2025, 15 das 16 principais vacinas infantis apresentaram aumento de cobertura. Ainda assim, apenas vacinas como BCG e Hepatite B atingiram a meta de 95% em 2025. Além disso, em 2024, embora 2,3 milhões de crianças tenham recebido a primeira dose da vacina DPT, cerca de 229 mil não tomaram nenhuma dose.

“Neste Dia Mundial da Saúde, o UNICEF celebra os avanços conquistados pelo Brasil, que mostram que políticas públicas funcionam e salvam vidas. Ao mesmo tempo, lembramos que ainda há meninas e meninos sem acesso pleno à vacinação, à nutrição adequada e ao cuidado integral. Garantir a saúde de crianças e adolescentes é investir no presente e no futuro do País e isso exige compromisso contínuo”, afirma a chefe de Saúde e Nutrição do UNICEF no Brasil.

Adaptado de: <https://www.unicef.org/brazil/comunicados-de-imprensa/dia-mundial-da-saude-unicef-destaca-avancos-do-brasil-e-reforca-importancia-de-seguir-investindo-na-saude-infantil>

Questão 01. A recorrência de dados estatísticos no desenvolvimento do texto cumpre, sobretudo, a função de:

- (A) Atribuir maior grau de objetividade e legitimidade às informações, reforçando a credibilidade do discurso.
- (B) Relativizar a autoridade institucional do UNICEF ao priorizar dados em detrimento de posicionamentos.
- (C) Conferir excessiva tecnicidade ao texto, comprometendo sua acessibilidade ao leitor médio.
- (D) Substituir o encadeamento argumentativo por uma exposição meramente quantitativa.

Questão 02. Considerando as informações explícitas e implícitas no texto, bem como a relação entre dados apresentados e a interpretação global do conteúdo, analise as assertivas a seguir:

- I. O cenário da imunização é descrito como em recuperação, embora ainda aquém das metas ideais.
- II. O texto sugere que políticas públicas têm impacto direto na melhoria das condições de saúde.
- III. A saída do Mapa da Fome significa que não há mais insegurança alimentar no Brasil.

Está CORRETO o que se afirma em:

- (A) I, apenas.
- (B) I e II, apenas.
- (C) II e III, apenas.
- (D) I, II e III.

Questão 03. Considerando a classificação morfológica e o valor semântico de vocábulos do texto, bem como seu funcionamento no contexto das frases, analise as partes que seguem:

(1ª parte): Na frase **O País alcançou resultados históricos na redução da mortalidade infantil**, a palavra **históricos** consiste em um adjetivo de natureza qualificativa, atribuindo valor aos resultados mencionados.

(2ª parte): Na frase **O Brasil também tem apresentado queda consistente na gravidez na adolescência**, o vocábulo **também** classifica-se como conjunção coordenativa aditiva.

Pode-se afirmar que:

- (A) Ambas as partes estão corretas.
- (B) Apenas a 1ª parte está correta.
- (C) Apenas a 2ª parte está correta.
- (D) Ambas as partes estão incorretas.

Questão 04. Com base na análise gramatical e fonológica de elementos do texto, analise as assertivas que seguem, julgando-as V, se Verdadeiras, ou F, se Falsas:

- () Em **lembramos que ainda há meninas e meninos sem acesso pleno à vacinação**, a palavra **ainda** é classificada, gramaticalmente, como pronome.
- () Os substantivos **saúde** e **vacinação** apresentam o mesmo processo de formação de plural.
- () A palavra **taxas** possui cinco fonemas; a palavra **nascimentos** possui nove fonemas.

Qual alternativa preenche, CORRETAMENTE, de cima para baixo, os parênteses acima?

- (A) F – F – F.
- (B) V – V – F.
- (C) V – F – V.
- (D) F – F – V.

Questão 05. Considerando a organização das ideias, os recursos argumentativos e a progressão temática do texto, assinale a alternativa CORRETA.

- (A) O texto apresenta uma progressão temática baseada principalmente em oposição entre dados estatísticos.
- (B) O final do texto amplia a discussão ao relacionar saúde infantil com desenvolvimento social e futuro do país.
- (C) A informação sobre crianças sem dose da DPT invalida os dados positivos apresentados anteriormente.
- (D) A redução da gravidez na adolescência é apresentada como um fenômeno episódico, destituído de continuidade ao longo do período analisado.

MATEMÁTICA/RACIOCÍNIO LÓGICO

Questão 06. Para pintar as paredes de um depósito retangular de 6 metros de largura por 10 metros de comprimento e 3 metros de altura, o servidor precisa calcular a área total das paredes. Sabendo que não há janelas e que a porta de entrada possui 2 metros quadrados de área que não será pintada, qual é a metragem quadrada total de superfície de parede que receberá a nova camada de tinta?

- (A) 100 m².
- (B) 94 m².
- (C) 96 m².
- (D) 214 m².

Questão 07. Um servidor verificou que o consumo de papel sulfite reduziu em 25% após a implementação plena do processo digital. Se anteriormente eram utilizadas 80 resmas de papel por mês, qual passou a ser o consumo mensal de resmas após a adoção plena do sistema, considerando que a redução percentual foi aplicada de forma direta sobre o consumo histórico médio da unidade administrativa? O servidor precisa desse dado atualizado para realizar o novo planejamento de compra de suprimentos do setor operacional.

- (A) 70 resmas.
- (B) 55 resmas.
- (C) 65 resmas.
- (D) 60 resmas.

Questão 08. A trajetória de um objeto em um teste é descrita pela função quadrática $h(t) = -5t^2 + 20t$, onde h é a altura em metros e t é o tempo em segundos. O servidor responsável pelo experimento precisa identificar em que instante de tempo o objeto atinge a sua altura máxima antes de iniciar o processo de descida para o solo. Determine o tempo exato em segundos necessário para que o objeto alcance o ponto mais alto de sua trajetória, utilizando os parâmetros de análise de funções do segundo grau apresentados.

- (A) 2 segundos.
- (B) 3 segundos.
- (C) 1 segundo.
- (D) 4 segundos.

Questão 09. Um técnico prepara uma solução diluindo um produto em água na proporção de 2 partes de produto para 13 partes de água. Se ele precisa preparar um volume total de 30 litros dessa mistura para a higienização do prédio, quantos litros de produto concentrado ele deverá utilizar exatamente para respeitar a razão estabelecida? O servidor deve garantir que a soma das partes do produto e da água resulte no volume total final exigido para a limpeza das salas e corredores da unidade administrativa pública.

- (A) 2 litros.
- (B) 8 litros.
- (C) 4 litros.
- (D) 6 litros.

Questão 10. Uma sala administrativa quadrada teve sua área ampliada em 13 metros quadrados, passando a ter uma área total de 49 metros quadrados após a reforma das paredes laterais. O servidor do setor de patrimônio precisa registrar a medida original do lado da sala antes dessa ampliação para fins de atualização da planta baixa no sistema de gestão de ativos. Qual era a medida do lado da sala quadrada, em metros, antes do início das obras de expansão que resultaram na configuração atual de espaço do ambiente?

- (A) 4 metros.
- (B) 6 metros.
- (C) 7 metros.
- (D) 5 metros.

UTILIZE ESTE ESPAÇO PARA CÁLCULOS

INFORMÁTICA

Questão 11. Considerando o funcionamento e a utilização de cookies em navegadores de internet, analise as partes que seguem:

(1ª parte): *Cookies podem ser utilizados tanto para funcionalidades legítimas do site quanto para fins de rastreamento comportamental.*

(2ª parte): *A desativação de cookies não afeta o funcionamento de sessões autenticadas em sites que exigem login.*

(3ª parte): *O navegador pode ser configurado para bloquear ou limitar o uso de cookies por sites.*

Pode-se afirmar que:

- (A) Apenas a 3ª parte está correta.
- (B) Apenas a 1ª e a 2ª partes estão corretas.
- (C) Apenas a 1ª e a 3ª partes estão corretas.
- (D) Todas as partes estão corretas.

Questão 12. Com base nos modos de exibição do Explorador de Arquivos no Windows 11 e nas informações que cada um deles disponibiliza ao usuário, assinale a alternativa INCORRETA.

- (A) No modo **Lista**, os arquivos são apresentados com ícones pequenos, dispostos em colunas verticais.
- (B) No modo **Ícones pequenos**, o sistema exibe mais metadados do que no modo **Blocos**.
- (C) No modo **Detalhes**, é possível ordenar os arquivos de forma crescente ou decrescente com base em qualquer coluna disponível.
- (D) O modo **Conteúdo** adapta as informações exibidas de acordo com os metadados disponíveis em cada tipo de arquivo.

Questão 13. Considerando os conceitos relacionados às extensões de arquivos e sua utilização em sistemas operacionais, analise as assertivas que seguem, julgando-as V, se verdadeiras, ou F, se falsas:

- () O usuário pode modificar o programa padrão associado à abertura de arquivos de uma determinada extensão.
- () A mudança da extensão de um arquivo é suficiente para convertê-lo integralmente para outro formato.
- () A extensão de um arquivo corresponde a um sufixo nominal, normalmente precedido por ponto, que auxilia na identificação de seu tipo.

Qual alternativa preenche, CORRETAMENTE, de cima para baixo, os parênteses acima?

- (A) V – F – V.
- (B) F – F – F.
- (C) V – V – F.
- (D) V – V – V.

Questão 14. Um usuário está elaborando um documento no Microsoft Word contendo informações institucionais sigilosas. Com o objetivo de indicar a natureza confidencial do conteúdo, ele insere, ao fundo de todas as páginas, um texto semitransparente com a expressão "CONFIDENCIAL", disposto de forma diagonal e visível por trás do texto principal, sem interferir na leitura. Esse elemento é aplicado de maneira uniforme em todas as páginas do documento e pode ser facilmente ativado ou removido por meio de um recurso específico da guia de design do programa. Diante dessa situação, assinale a alternativa que indica, CORRETAMENTE, o recurso utilizado pelo usuário.

- (A) SmartArt.
- (B) Marca d'água.
- (C) Folha de Rosto.
- (D) Referência Cruzada.

Questão 15. No contexto da segurança da informação, diferentes mecanismos e práticas são adotados para proteger sistemas, redes e dados contra ameaças digitais. Considerando esse cenário, analise as assertivas a seguir:

- I. A instalação de um antivírus elimina completamente a necessidade de atualizações do sistema operacional.
- II. Firewalls atuam no controle do tráfego de rede, podendo bloquear conexões não autorizadas.
- III. Conexões seguras podem ser identificadas pelo uso do protocolo HTTPS, que utiliza criptografia para proteger os dados transmitidos.

Está CORRETO o que se afirma em:

- (A) II, apenas.
- (B) I e II, apenas.
- (C) II e III, apenas.
- (D) I, II e III.

CONHECIMENTOS ESPECÍFICOS/SUS

Questão 16. A Lei nº 8.080/1990 estabelece o campo de atuação do Sistema Único de Saúde (SUS), definindo as ações e serviços que devem ser executados pelo sistema. Sobre essa lei, assinale a alternativa CORRETA.

- (A) O campo de atuação do SUS restringe-se às ações de vigilância epidemiológica e controle de doenças transmissíveis.
- (B) O SUS atua exclusivamente na prestação de assistência médica hospitalar, não incluindo ações de vigilância sanitária.
- (C) Entre as atribuições do SUS incluem-se ações de vigilância sanitária, vigilância epidemiológica e assistência terapêutica integral, incluindo a assistência farmacêutica.
- (D) As ações do SUS limitam-se à oferta de serviços curativos, sendo as atividades preventivas de responsabilidade exclusiva da iniciativa privada.

Questão 17. Baseado na Lei nº 8.080/1990, analise as assertivas a seguir, julgando-as V, se Verdadeiras, ou F, se Falsas:

- () A Lei nº 8.080/1990 dispõe sobre as condições para promoção, proteção e recuperação da saúde, além da organização e funcionamento dos serviços correspondentes no território nacional.
- () Segundo a Lei nº 8.080/1990, a saúde é um direito fundamental do ser humano, sendo dever exclusivo do Estado garanti-la, sem participação da sociedade.
- () Segundo a Lei nº 8.080/1990, a iniciativa privada não pode participar da assistência à saúde no Sistema Único de Saúde (SUS), sendo essa uma atividade exclusiva do Estado.
- () Entre os fatores determinantes e condicionantes da saúde previstos na Lei nº 8.080/1990 estão alimentação, moradia, saneamento básico, meio ambiente, trabalho, renda, educação, atividade física, transporte e lazer.

Qual alternativa preenche, CORRETAMENTE, de cima para baixo, os parênteses acima?

- (A) F – V – V – F.
- (B) V – F – V – V.
- (C) V – F – F – V.
- (D) F – V – F – F.

Questão 18. A farmácia clínica envolve a aplicação do conhecimento farmacológico para otimizar a farmacoterapia e melhorar os desfechos clínicos dos pacientes. No contexto da atenção farmacêutica, um Problema Relacionado a Medicamento (PRM) ocorre quando:

- (A) Há qualquer evento ou circunstância envolvendo a farmacoterapia que interfira ou possa interferir nos resultados terapêuticos.
- (B) Existe apenas erro na prescrição médica.
- (C) O paciente utiliza medicamento sem prescrição médica.
- (D) O medicamento apresenta defeito de qualidade.

Questão 19. A orientação farmacêutica deve ser individualizada, considerando aspectos clínicos, cognitivos e sociais do paciente. Para um paciente idoso polimedicado, a estratégia MAIS ADEQUADA é:

- (A) Fornecer apenas orientações verbais rápidas.
- (B) Utilizar linguagem técnica para maior precisão.
- (C) Empregar recursos visuais e confirmar compreensão (método *teach-back*).
- (D) Reduzir as informações, informando apenas a quantidade de comprimidos por dia, para evitar confusão.

Questão 20. A estabilidade de medicamentos manipulados depende de fatores físico-químicos e ambientais que podem comprometer sua eficácia e segurança. Nesse sentido, a degradação por hidrólise é mais favorecida em:

- (A) Ambientes com baixa umidade e temperatura reduzida.
- (B) Ausência de oxigênio e luz.
- (C) Condições de armazenamento sob refrigeração constante.
- (D) Presença de água, pH extremos e temperaturas elevadas

Questão 21. A Política Nacional de Assistência Farmacêutica (PNAF) organiza as ações relacionadas aos medicamentos no Sistema Único de Saúde (SUS), integrando gestão, cuidado e promoção do uso racional. Com base nisso, correlacione os conceitos da Coluna 1 com suas definições na Coluna 2:

Coluna 1:

1. Assistência farmacêutica.
2. Atenção farmacêutica.
3. Uso racional de medicamentos.
4. Acesso aos medicamentos.

Coluna 2:

- () Garantia da disponibilidade e acesso equitativo aos medicamentos essenciais.
- () Conjunto de ações voltadas à promoção, proteção e recuperação da saúde envolvendo medicamentos.
- () Prática profissional centrada no paciente com objetivo de alcançar resultados terapêuticos.
- () Utilização adequada quanto à indicação, dose, duração e custo.

Qual alternativa preenche, CORRETAMENTE, de cima para baixo, os parênteses da Coluna 2?

- (A) 4 – 1 – 2 – 3.
- (B) 3 – 2 – 1 – 4.
- (C) 2 – 3 – 4 – 1.
- (D) 1 – 4 – 3 – 2.

Questão 22. A gestão de estoques na assistência farmacêutica exige integração entre consumo, tempo de reposição e variabilidade da demanda para evitar desabastecimento. Tem-se que um medicamento apresenta consumo médio mensal de 300 unidades, *lead time* de 2 meses e estoque de segurança de 200 unidades. Com base nesse contexto, o ponto de pedido será:

- (A) 800 unidades.
- (B) 600 unidades.
- (C) 500 unidades.
- (D) 900 unidades.

Questão 23. A nova metodologia de cofinanciamento busca maior equidade na distribuição de recursos entre os municípios brasileiros. Em relação a isso, o Indicador de Equidade e Dimensionamento (IED) é utilizado para:

- (A) Classificar municípios conforme vulnerabilidade social e porte populacional.
- (B) Avaliar desempenho clínico das equipes.
- (C) Definir protocolos clínicos.
- (D) Medir adesão terapêutica dos pacientes.

Questão 24. O tempo de reposição (*lead time*) é uma variável crítica no planejamento logístico da assistência farmacêutica. Assim, a subestimação do *lead time* pode resultar em:

- (A) Excesso de estoque e aumento de custos.
- (B) Ruptura de estoque e desabastecimento.
- (C) Redução da necessidade de estoque de segurança.
- (D) Aumento da validade dos medicamentos.

Questão 25. A Portaria GM/MS nº 3.493/2024 altera a lógica anterior de financiamento, buscando maior integração entre desempenho, território e necessidades populacionais. Nesse sentido, o componente de vínculo e acompanhamento territorial tem como principal finalidade:

- (A) Avaliar apenas indicadores financeiros.
- (B) Monitorar vínculo das equipes com a população adscrita.
- (C) Definir aquisição de medicamentos.
- (D) Substituir o componente fixo.

Questão 26. A Política Nacional de Assistência Farmacêutica redefine a assistência farmacêutica como parte integrante da política de saúde, superando a visão centrada apenas no medicamento. Essa mudança conceitual implica:

- (A) Restrição das ações à logística de medicamentos.
- (B) Integração da assistência farmacêutica ao cuidado em saúde e às demais políticas públicas.
- (C) Redução da atuação clínica do Farmacêutico.
- (D) Centralização das ações no nível federal.

Questão 27. A organização do ciclo da assistência farmacêutica é fundamental para garantir acesso e uso racional de medicamentos. A falha simultânea nas etapas de seleção e programação pode resultar em:

- (A) Aumento da adesão terapêutica.
- (B) Disponibilidade adequada de medicamentos essenciais.
- (C) Aquisição de medicamentos inadequados e desabastecimento.
- (D) Redução de custos sem impacto assistencial.

Questão 28. O Componente Básico da Assistência Farmacêutica está diretamente relacionado às ações desenvolvidas na Atenção Primária à Saúde. Nesse contexto, o elenco de medicamentos deve basear-se prioritariamente:

- (A) Na Relação Nacional de Medicamentos Essenciais (RENAME).
- (B) Em listas internacionais da Organização Mundial de Saúde exclusivamente.
- (C) Em decisões do gestor municipal, exclusivamente.
- (D) Em medicamentos disponíveis no mercado privado.

Questão 29. A dispensação exige análise crítica da prescrição, podendo o Farmacêutico intervir diante de inconsistências clínicas relevantes. Diante de uma prescrição contendo dose acima da faixa terapêutica usual, a conduta MAIS ADEQUADA é:

- (A) Dispensar o medicamento, pois a responsabilidade é exclusivamente médica.
- (B) Ajustar a dose por conta própria e registrar a alteração.
- (C) Suspender a dispensação e contatar o prescritor para esclarecimento.
- (D) Dispensar parcialmente o medicamento para teste terapêutico.

Questão 30. O financiamento da Assistência Farmacêutica no Sistema Único de Saúde (SUS) ocorre de forma tripartite e envolve diferentes responsabilidades entre os entes federativos. Conforme a Portaria GM/MS nº 1.555/2013 – Assistência Farmacêutica, analise as assertivas a seguir, julgando-as V, se Verdadeiras, ou F, se Falsas:

- () O financiamento da Assistência Farmacêutica é compartilhado entre União, Estados e Municípios.
- () O Componente Básico da Assistência Farmacêutica destina-se principalmente ao financiamento de medicamentos e insumos no âmbito da Atenção Básica.
- () O financiamento federal é transferido diretamente do Fundo Nacional de Saúde aos fundos estaduais ou municipais.
- () O financiamento da Assistência Farmacêutica é de responsabilidade exclusiva da União.

Qual alternativa preenche, CORRETAMENTE, de cima para baixo, os parênteses acima?

- (A) F – F – F – V.
- (B) F – F – V – V.
- (C) V – V – V – F.
- (D) V – V – F – F.

Questão 31. A gestão de estoques em farmácia pública visa garantir disponibilidade contínua de medicamentos, evitando faltas e desperdícios no sistema de saúde. Nesse sentido, o conceito de estoque de segurança refere-se:

- (A) À quantidade máxima de medicamentos armazenados.
- (B) Ao estoque destinado exclusivamente a medicamentos controlados.
- (C) Ao estoque adicional mantido para prevenir desabastecimento diante de incertezas.
- (D) À quantidade mínima exigida por legislação sanitária.

Questão 32. A RDC nº 44/2009 regulamenta os serviços farmacêuticos oferecidos à população em farmácias e drogarias, com foco na promoção do uso racional de medicamentos. Com base nisso, analise as assertivas a seguir:

- I. Os serviços farmacêuticos devem ser realizados por Farmacêutico capacitado.
- II. A prestação de serviços farmacêuticos deve ocorrer em local adequado que garanta privacidade ao usuário.
- III. A aferição de parâmetros fisiológicos pode ser realizada como serviço farmacêutico.
- IV. A realização de serviços farmacêuticos dispensa registro documental.

Estão CORRETAS:

- (A) II e IV, apenas.
- (B) I, III, IV, apenas.
- (C) I, II, apenas.
- (D) I, II, III, apenas.

Questão 33. As interações medicamentosas representam um importante problema clínico e sanitário, podendo comprometer a eficácia terapêutica ou aumentar a toxicidade dos fármacos. Acerca dessa temática, uma interação farmacocinética ocorre quando:

- (A) Dois fármacos competem pelo mesmo receptor.
- (B) Um fármaco altera a absorção, metabolismo ou excreção de outro.
- (C) Há somação de efeitos terapêuticos.
- (D) O efeito ocorre apenas em nível farmacodinâmico.

Questão 34. A causalidade entre medicamento e evento adverso é avaliada por métodos específicos na farmacovigilância. Nesse sentido, o algoritmo de Naranjo é utilizado para:

- (A) Determinar dose terapêutica ideal.
- (B) Avaliar a relação causal entre medicamento e evento adverso.
- (C) Classificar medicamentos essenciais.
- (D) Definir protocolos clínicos.

Questão 35. Interações farmacológicas podem ocorrer por inibição enzimática, indução de transportadores ou alterações em ligação proteica, impactando segurança e eficácia. Com base nisso, numere a Coluna 2 de acordo com a Coluna 1:

Coluna 1:

- 1. Inibição competitiva do CYP3A4.
- 2. Indução da glicoproteína-P.
- 3. Deslocamento de proteínas.
- 4. Alteração do fluxo biliar.
- 5. Modulação OAT/OCT.

Coluna 2:

- () Aumenta eliminação de digoxina.
- () Aumenta benzodiazepínicos.
- () Altera drogas renais aniônicas e catiônicas.
- () Reduz níveis plasmáticos via efluxo.
- () Diminui eliminação hepatobiliar.

Qual alternativa preenche, CORRETAMENTE, de cima para baixo, os parênteses da Coluna 2?

- (A) 3 – 1 – 5 – 2 – 4.
- (B) 2 – 5 – 4 – 3 – 1.
- (C) 3 – 4 – 5 – 1 – 2.
- (D) 5 – 2 – 3 – 2 – 1.

Questão 36. De acordo com a lei nº 8.142/1990, analise as assertivas a seguir:

- I. A Lei nº 8.142/1990 dispõe sobre a participação da comunidade na gestão do Sistema Único de Saúde e sobre as transferências intergovernamentais de recursos financeiros na área da saúde.
- II. Para que Estados, Distrito Federal e Municípios recebam recursos do Fundo Nacional de Saúde, é necessário que possuam Conselho de Saúde, Plano de Saúde, Relatório de Gestão e contrapartida de recursos no orçamento.
- III. A Lei nº 8.142/1990 estabelece que a participação da comunidade na gestão do Sistema Único de Saúde (SUS) ocorre exclusivamente por meio das Conferências de Saúde.
- IV. Os Conselhos de Saúde são órgãos permanentes e deliberativos, compostos por representantes do governo, prestadores de serviço, profissionais de saúde e usuários.

Estão CORRETAS:

- (A) I, II, IV, apenas.
- (B) II, III, IV, apenas.
- (C) I e III, apenas.
- (D) I, II, III e IV.

Questão 37. O prazo de validade de medicamentos manipulados deve considerar estabilidade, risco microbiológico e condições de armazenamento. Para preparações aquosas não estéreis, o prazo geralmente recomendado é de:

- (A) Até 6 meses, independentemente das condições.
- (B) Até 30 dias sob refrigeração.
- (C) Até 90 dias, independentemente das condições.
- (D) Até 1 ano em temperatura ambiente.

Questão 38. A identificação de "sinais" em farmacovigilância é fundamental para a segurança do paciente. Um sinal em farmacovigilância corresponde a:

- (A) Informação que sugere nova associação causal ou novo aspecto de uma associação conhecida.
- (B) Confirmação definitiva de causalidade.
- (C) Evento adverso isolado sem relevância clínica.
- (D) Reação adversa já descrita em bula.

Questão 39. A RDC ANVISA nº 44/2009 estabelece regras para a dispensação de medicamentos sujeitos à prescrição em farmácias e drogarias. Com base na RDC supracitada, assinale a alternativa CORRETA.

- (A) A dispensação de medicamentos sujeitos à prescrição pode ocorrer mediante apresentação de cópia simples da receita.
- (B) A dispensação pode ocorrer mesmo que a prescrição esteja ilegível, desde que o paciente confirme o medicamento.
- (C) O Farmacêutico deve avaliar a legibilidade e a ausência de rasuras na prescrição antes da dispensação do medicamento.
- (D) A análise da prescrição é responsabilidade exclusiva do médico prescritor.

Questão 40. A participação da comunidade na gestão do Sistema Único de Saúde (SUS) contribui para maior transparência e democratização das decisões em saúde. Nesse sentido, o objetivo central do controle social é:

- (A) Substituir o gestor público.
- (B) Garantir participação democrática nas políticas de saúde.
- (C) Reduzir gastos públicos.
- (D) Privatizar a gestão da saúde.